

## پاسخ کنکور ۱۴۰۰

راه حل دوم توجه کنید که

$$\begin{aligned} \log_{21} 3 &= \log_{21} \frac{21}{7} = \log_{21} 21 - \log_{21} 7 = 1 - \log_{21} 7 \\ \log_{21} 147 &= \log_{21} (21 \times 7) = \log_{21} 21 + \log_{21} 7 = 1 + \log_{21} 7 \\ \log_{21} 1323 &= \log_{21} (21^2 \times 3) = 2 \log_{21} 21 + \log_{21} 3 = 2 + \log_{21} 3 \end{aligned}$$

پس عبارت مورد نظر به صورت زیر است:

$$\begin{aligned} &(1 - \log_{21} 7)^2 + (1 + \log_{21} 7)(2 + \log_{21} 3) \\ &= 1 + (\log_{21} 7)^2 - 2 \log_{21} 7 + 2 + \log_{21} 3 \\ &\quad + 2 \log_{21} 7 + \log_{21} 7 \log_{21} 3 \\ &= 3 + \log_{21} 3 + (\log_{21} 7)(\log_{21} 7 + \log_{21} 3) \\ &= 3 + \log_{21} 3 + \log_{21} 7 \log_{21} 21 \\ &= 3 + \log_{21} 3 + \log_{21} 7 = 3 + \log_{21} 21 = 3 + 1 = 4 \end{aligned}$$

توجه کنید که اگر  $x > \frac{3}{2}$ ، آن گاه عبارت  $2x - 3$  مثبت

است و در نتیجه نامعادله مورد نظر به صورت زیر است:

$$((m^2 - 1)x^2 - 4mx + 4)(x - 3\sqrt{x} + 2) > 0$$

از طرف دیگر،

$$A = x - 3\sqrt{x} + 2 = (\sqrt{x} - 1)(\sqrt{x} - 2)$$

بنابراین علامت عبارت A با شرط  $x > \frac{3}{2}$  به صورت زیر است:

x	$-\infty$	$\frac{3}{2}$	4	$+\infty$
A		+	-	+

چون علامت A روی بازه (2, 4) منفی است و این بازه مجموعه جواب های

نامعادله است، پس علامت عبارت  $B = (m^2 - 1)x^2 - 4mx + 4$  در این بازه

باید منفی باشد تا حاصل ضرب AB مثبت شود. همچنین علامت A روی بازه

$(\frac{3}{2}, 2)$  منفی است و این بازه جواب نامعادله نیست، پس علامت B روی این

بازه باید مثبت باشد. بنابراین  $x = 2$  باید ریشه B باشد، پس

$$(m^2 - 1)4 - 8m + 4 = 0 \Rightarrow m^2 - 2m = 0 \Rightarrow \begin{cases} m = 2 \\ m = 0 \end{cases}$$

اگر  $m = 2$ ، آن گاه

$$B = (3x^2 - 8x + 4) = (3x - 2)(x - 2)$$

در این صورت علامت B روی بازه (2, 4) مثبت است که قابل قبول نیست.

اگر  $m = 0$ ، آن گاه

$$B = -x^2 + 4 = -(x - 2)(x + 2)$$

در این صورت علامت B روی بازه (2, 4) منفی است و قابل قبول است.

۲۵۱۴- گزینه ۴ اگر فرض کنیم  $t = x^2 \geq 0$ ، معادله مورد نظر به صورت

$t^2 - 7t - 5 = 0$  درمی آید. جواب های این معادله به صورت زیر هستند:

$$t = \frac{7 + \sqrt{69}}{2}, \quad t = \frac{7 - \sqrt{69}}{2} < 0 \text{ (غ.ق.)}$$

چون جواب های معادله بالا باید نامنفی باشند، پس فقط جواب  $t = \frac{7 + \sqrt{69}}{2}$

قابل قبول است. پس جواب های معادله اصلی به صورت زیر هستند:

$$x_1 = \sqrt{\frac{7 + \sqrt{69}}{2}}, \quad x_2 = -\sqrt{\frac{7 + \sqrt{69}}{2}}$$

پس حاصل ضرب و مجموع جواب های معادله مورد نظر برابر است با

$$\begin{aligned} P = x_1 x_2 &= -\left(\sqrt{\frac{7 + \sqrt{69}}{2}}\right)^2 = -\frac{7 + \sqrt{69}}{2} \\ S = x_1 + x_2 &= \sqrt{\frac{7 + \sqrt{69}}{2}} - \sqrt{\frac{7 + \sqrt{69}}{2}} = 0 \end{aligned}$$

بنابراین مقدار عبارت خواسته شده برابر است با

$$\begin{aligned} 2P^2 - 3SP + 2S &= 2P^2 - 0 + 0 = 2\left(-\frac{7 + \sqrt{69}}{2}\right)^2 \\ &= 2\left(\frac{49 + 69 + 14\sqrt{69}}{4}\right) = 59 + 7\sqrt{69} \end{aligned}$$

۲۵۱۵- گزینه ۳ ابتدا توجه کنید که

$$\begin{aligned} \begin{vmatrix} \log 5 & \log 2 \\ \log 2 & \log 5 \end{vmatrix} &= (\log 5)^2 - (\log 2)^2 \\ &= (\log 5 + \log 2)(\log 5 - \log 2) \\ &= \log 10 \times \log \frac{5}{2} = 1 \times \log \frac{5}{2} = \log_{10} \frac{5}{2} \end{aligned}$$

بنابراین معادله مورد نظر به صورت زیر درمی آید:

$$\log_{10} \frac{5}{2} \times \log_{\frac{5}{2}} (3x - 2) = 1$$

$$\log_{10} (3x - 2) = 1 \Rightarrow 3x - 2 = 10 \Rightarrow 3x = 12 \Rightarrow x = 4$$

۲۵۱۶- گزینه ۴ راه حل اول ابتدا توجه کنید که

$$\begin{aligned} \log_{21} 1323 &= \log_{21} 9 \times 147 = \log_{21} 9 + \log_{21} 147 \\ &= 2 \log_{21} 3 + \log_{21} 147 \end{aligned}$$

بنابراین عبارت مورد نظر به صورت زیر درمی آید:

$$\begin{aligned} &(\log_{21} 3)^2 + \log_{21} 147 (2 \log_{21} 3 + \log_{21} 147) \\ &= (\log_{21} 3)^2 + 2 \log_{21} 3 \log_{21} 147 + (\log_{21} 147)^2 \\ &= (\log_{21} 3 + \log_{21} 147)^2 = (\log_{21} (3 \times 147))^2 = (\log_{21} 441)^2 \\ &= (\log_{21} 21^2)^2 = (2 \log_{21} 21)^2 = (2 \times 1)^2 = 4 \end{aligned}$$

برای این که تساوی بالا به ازای هر مقدار  $x$  برقرار باشد، باید

$$\begin{cases} 2a + \frac{b}{2} = b \Rightarrow b = 4a \\ c = b - 2 \Rightarrow c = 4a - 2 \end{cases}$$

بنابراین چندجمله‌ای  $P(x)$  برابر  $ax^2 + 4ax + 4a - 2$  است که مجموع ضرایب آن برابر است با  $a + 4a + 4a - 2 = 9a - 2$  واضح است که کمترین مقدار این مجموع وقتی  $a$  عددی طبیعی است، برابر ۷ است که به ازای  $a = 1$  به دست می‌آید.

ابتدا توجه کنید **گزینه ۱ - ۲۵۲۱**

$$a_{n+1} = \frac{1}{a_n} + 1 \Rightarrow a_{100} = \frac{1}{a_{99}} + 1 \Rightarrow \frac{k}{m} = \frac{1}{a_{99}} + 1$$

$$\frac{1}{a_{99}} = \frac{k-m}{m} \Rightarrow a_{99} = \frac{m}{k-m}$$

بنابراین

$$a_{99} = \frac{1}{a_{98}} + 1 \Rightarrow \frac{m}{k-m} = \frac{1}{a_{98}} + 1 \Rightarrow \frac{1}{a_{98}} = \frac{m}{k-m} - 1 = \frac{2m-k}{k-m}$$

$$a_{98} = \frac{k-m}{2m-k}$$

ده جمله اول دنباله را پیدا می‌کنیم. **گزینه ۱ - ۲۵۲۲**

$$a_n = \begin{cases} 2^k & n = 3k \\ -2k + 4 & n = 3k + 1 \\ \left[ \frac{n}{k+2} \right] + a & n = 3k + 2 \end{cases}$$

$$k=0 \Rightarrow \begin{cases} a_0 = 2^0 = 1 \\ a_1 = -2 \times 0 + 4 = 4 \\ a_2 = \left[ \frac{2 \times 0 + 2}{0+2} \right] + a = 1 + a \end{cases}$$

$$k=1 \Rightarrow \begin{cases} a_3 = 2^1 = 2 \\ a_4 = -2 \times 1 + 4 = 2 \\ a_5 = \left[ \frac{3 \times 1 + 2}{1+2} \right] + a = 1 + a \end{cases}$$

$$k=2 \Rightarrow \begin{cases} a_6 = 2^2 = 4 \\ a_7 = -2 \times 2 + 4 = 0 \\ a_8 = \left[ \frac{3 \times 2 + 2}{2+2} \right] + a = 2 + a \end{cases}$$

$$k=3 \Rightarrow a_9 = 2^3 = 8$$

مجموع ده جمله اول دنباله برابر ۱۹ است. پس  $1+4+1+a+2+2+1+a+4+0+2+a+8=19$

$$3a + 25 = 19 \Rightarrow a = -2$$

بنابراین اگر  $n = 3k + 2$ ، آن‌گاه

$$a_n = \left[ \frac{n}{k+2} \right] + a = \left[ \frac{3k+2}{k+2} \right] - 2 = \left[ 3 - \frac{4}{k+2} \right] - 2 = 1 + \left[ \frac{-4}{k+2} \right]$$

$$a_2 = -1, a_5 = -1, a_8 = a_{11} = a_{14} = a_{17} = a_{20} = a_{23} = a_{26} = a_{29} = 0$$

بنابراین مجموع جملات بالا برابر ۲- است.

توجه کنید که **گزینه ۲ - ۲۵۱۸**

$$\tan \alpha = \frac{2 \tan \frac{\alpha}{2}}{1 - \tan^2 \frac{\alpha}{2}} = \frac{2 \left(\frac{1}{4}\right)}{1 - \left(\frac{1}{4}\right)^2} = \frac{8}{15}$$

$$\sin \alpha = \frac{2 \tan \frac{\alpha}{2}}{1 + \tan^2 \frac{\alpha}{2}} = \frac{2 \left(\frac{1}{4}\right)}{1 + \left(\frac{1}{4}\right)^2} = \frac{8}{17}$$

$$\cos \alpha = \frac{1 - \tan^2 \frac{\alpha}{2}}{1 + \tan^2 \frac{\alpha}{2}} = \frac{1 - \left(\frac{1}{4}\right)^2}{1 + \left(\frac{1}{4}\right)^2} = \frac{15}{17}$$

بنابراین مقدار عبارت مورد نظر برابر است با

$$\frac{\tan \alpha - \sin \alpha}{\sin \alpha - \cos \alpha} = \frac{\frac{8}{15} - \frac{8}{17}}{\frac{8}{17} - \frac{15}{17}} = -\frac{16}{105}$$

معادله را به صورت زیر ساده می‌کنیم: **گزینه ۴ - ۲۵۱۹**

$$(1 + \cos 2\alpha)(1 + \cos 4\alpha)(1 + \cos 8\alpha) = \frac{1}{8}$$

$$(2 \cos^2 \alpha)(2 \cos^2 2\alpha)(2 \cos^2 4\alpha) = \frac{1}{8}$$

$$(\cos \alpha \cos 2\alpha \cos 4\alpha)^2 = \frac{1}{64}$$

$$\left( \frac{\sin \alpha \cos \alpha \cos 2\alpha \cos 4\alpha}{\sin \alpha} \right)^2 = \frac{1}{64}$$

$$\left( \frac{1}{2} \sin 2\alpha \cos 2\alpha \cos 4\alpha \right)^2 = \frac{1}{64} \sin^2 \alpha$$

$$\left( \frac{1}{4} \sin 4\alpha \cos 4\alpha \right)^2 = \frac{1}{64} \sin^2 \alpha \Rightarrow \left( \frac{1}{8} \sin 8\alpha \right)^2 = \frac{1}{64} \sin^2 \alpha$$

$$\sin^2 8\alpha = \sin^2 \alpha \Rightarrow \frac{1 - \cos 16\alpha}{2} = \frac{1 - \cos 2\alpha}{2}$$

$$\cos 16\alpha = \cos 2\alpha$$

بنابراین جواب‌های معادله به صورت زیر هستند:

$$\begin{cases} 16\alpha = 2k\pi + 2\alpha \\ 16\alpha = 2k\pi - 2\alpha \end{cases} \Rightarrow \begin{cases} \alpha = \frac{k\pi}{7} \\ \alpha = \frac{k\pi}{9} \end{cases} \quad k \in \mathbb{Z}$$

بنابراین بزرگ‌ترین جواب معادله که در بازه  $[0, \pi]$  قرار دارد، برابر  $\frac{8\pi}{9}$  است.

**گزینه ۳ - ۲۵۲۰** فرض کنید  $P(x) = ax^2 + bx + c$  در این صورت

$P'(x) = 2ax + b$ . اگر  $P(x)$  را بر  $P'(x)$  تقسیم کنیم و خارج قسمت

برابر  $x + 1$  و باقی‌مانده برابر ۲- باشد، آن‌گاه تساوی زیر همواره برقرار است:

$$P(x) = P'(x) \left( \frac{1}{2}x + 1 \right) - 2$$

$$ax^2 + bx + c = (2ax + b) \left( \frac{1}{2}x + 1 \right) - 2$$

این تساوی را به صورت زیر ساده می‌کنیم:

$$ax^2 + bx + c = ax^2 + \left( \frac{b}{2} + 2a \right)x + b - 2$$

با شرط  $0 \leq 1+2k-k^2$ ، یعنی  $1-\sqrt{2} \leq k \leq 1+\sqrt{2}$ ، طرفین را به توان دو می‌رسانیم و معادله را ساده می‌کنیم:

$$k^4 - 4k^3 + 2k^2 + 2k + 3 = 0 \Rightarrow k(k^3 - 4k^2 + 2k + 3) = 0$$

$$k(k-3)(k^2 - k - 1) = 0 \Rightarrow \begin{cases} k=0 \\ k=3 \\ k = \frac{1 \pm \sqrt{5}}{2} \end{cases}$$

چون  $-1 \leq k \leq 1$  و  $1-\sqrt{2} \leq k \leq 1+\sqrt{2}$ ، پس  $1-\sqrt{2} \leq k \leq 1$ ، پس فقط  $k=0$  قابل قبول است. بنابراین  $f(x) = \sqrt{2-x}$  و طول نقطه برخورد نمودار تابع  $y=f(x)-1$  با محور طولها به صورت زیر است:

$$y=0 \Rightarrow f(x)-1=0 \Rightarrow \sqrt{2-x}=1 \Rightarrow x=1$$

ابتدا توابع  $f \circ g$  و  $g \circ f$  را معین می‌کنیم.

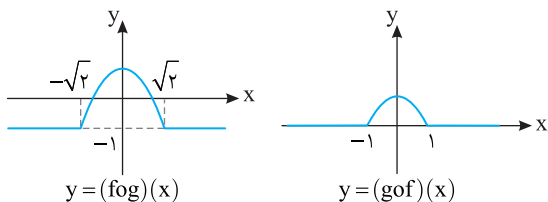
$$(f \circ g)(x) = f(g(x)) = f(1-x^2) = \begin{cases} -1 & 1-x^2 < -1 \\ 1-x^2 & -1 \leq 1-x^2 \leq 1 \\ 1 & 1-x^2 > 1 \end{cases}$$

$$= \begin{cases} -1 & x^2 > 2 \\ 1-x^2 & 0 \leq x^2 \leq 2 \\ 1 & x^2 < 0 \end{cases} = \begin{cases} -1 & x < -\sqrt{2} \text{ یا } x > \sqrt{2} \\ 1-x^2 & -\sqrt{2} \leq x \leq \sqrt{2} \\ 1 & x < -1 \text{ یا } x > 1 \end{cases}$$

$$(g \circ f)(x) = g(f(x)) = 1 - f^2(x) = \begin{cases} 1 - (-1)^2 & x < -1 \\ 1 - x^2 & -1 \leq x \leq 1 \\ 1 - 1^2 & x > 1 \end{cases}$$

$$= \begin{cases} 0 & x < -1 \text{ یا } x > 1 \\ 1 - x^2 & -1 \leq x \leq 1 \end{cases}$$

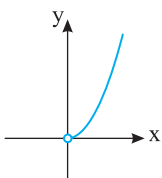
بنابراین نمودار تابع‌های  $f \circ g$  و  $g \circ f$  به صورت زیر است و هر کدام از آنها در دو نقطه مشتق پذیر نیستند.



ابتدا توجه کنید ضابطه تابع  $f$  به صورت زیر است:

$$f(x) = 9 \log_3 x = (3^2)^{\log_3 x} = (3^{\log_3 x})^2 = x^2$$

از طرف دیگر، دامنه تابع  $f$  بازه  $(0, +\infty)$  است. پس نمودار تابع  $f$  به صورت زیر است:



**گزینه ۴ - ۲۵۲۳** اگر فرض کنیم  $t = \sqrt[3]{9 \cos^2 x - 1}$ ، آن‌گاه ضابطه تابع به صورت  $y = 2^t - 2^{-t}$  در می‌آید. از طرف دیگر،

$$\begin{aligned} 0 \leq \cos^2 x \leq 1 &\Rightarrow 0 \leq 9 \cos^2 x \leq 9 \Rightarrow -1 \leq 9 \cos^2 x - 1 \leq 8 \\ -1 \leq \sqrt[3]{9 \cos^2 x - 1} \leq 2 &\Rightarrow -1 \leq t \leq 2 \end{aligned}$$

بنابراین باید برد تابع با ضابطه  $f(t) = 2^t - 2^{-t}$  و دامنه  $[-1, 2]$  را به دست بیاوریم. توجه کنید که تابع  $y = 2^t$  اکیداً صعودی است. پس تابع  $y = 2^{-t}$  اکیداً نزولی است و تابع  $y = -2^{-t}$  اکیداً صعودی است. پس تابع  $y = 2^t - 2^{-t}$  نیز اکیداً صعودی است. بنابراین

$$-1 \leq t \leq 2 \Rightarrow f(-1) \leq f(t) \leq f(2)$$

$$-\frac{3}{2} \leq f(t) \leq \frac{15}{4} \Rightarrow R_f = \left[-\frac{3}{2}, \frac{15}{4}\right]$$

$$\text{بنابراین } a = -\frac{3}{2} \text{ و } b = \frac{15}{4} \text{ و در نتیجه } b - a = \frac{21}{4}$$

**گزینه ۱ - ۲۵۲۴** راه حل اول دامنه تابع  $f$  مجموعه جواب‌های نامعادله  $\frac{1}{6 + \sqrt{|x|} - |x|} > 0$  است. اگر فرض کنیم  $\sqrt{|x|} = t \geq 0$ ، آن‌گاه نامعادله

به صورت زیر در می‌آید:

$$\frac{1}{6 + t - t^2} > 0 \Rightarrow 6 + t - t^2 > 0 \Rightarrow t^2 - t - 6 < 0 \Rightarrow (t-3)(t+2) < 0$$

مثبت

$$t - 3 < 0 \Rightarrow 0 \leq t < 3$$

بنابراین باید نامعادله  $0 < \sqrt{|x|} < 3$  را حل کنیم. نابرابری  $0 < \sqrt{|x|}$  به ازای هر مقدار  $x$  برقرار است. پس باید نامعادله  $\sqrt{|x|} < 3$  را حل کنیم.

$$\sqrt{|x|} < 3 \Rightarrow |x| < 9 \Rightarrow -9 < x < 9$$

**راه حل دوم** واضح است که  $x = -4$  در دامنه تابع قرار دارد.

$$f(-4) = \log_6 \left( \frac{1}{6 + \sqrt{4} - 4} \right) = \log_6 \frac{1}{4}$$

عدد  $-4$  فقط در بازه  $(-9, 9)$  قرار دارد و عضو بازه‌های دیگر گزینه‌ها نیست. پس گزینه (۱) درست است.

**گزینه ۳ - ۲۵۲۵** اگر نمودار تابع  $y = \sqrt{4-x}$  را  $k$  واحد در راستای قائم انتقال دهیم، نمودار تابع  $y = \sqrt{4-x} + k$  به دست می‌آید و اگر نمودار به دست آمده را  $k-2$  واحد در راستای افقی انتقال دهیم، نمودار تابع زیر به دست می‌آید:

$$y = \sqrt{4 - (x - (k-2))} + k = \sqrt{k+2-x} + k = f(x)$$

چون نمودار تابع  $f$  نمودار تابع وارونش را در نقطه‌ای به عرض ۱ قطع می‌کند، پس اگر طول نقطه تقاطع  $a$  باشد، آن‌گاه

$$f(a) = 1 \Rightarrow \sqrt{k+2-a} + k = 1$$

$$\sqrt{k+2-a} = 1-k \xrightarrow{1-k \geq 0} a = k+2 - (1-k)^2$$

$$f^{-1}(a) = 1 \Rightarrow f(1) = a \Rightarrow \sqrt{k+2-1} + k = a \xrightarrow{k \geq -1} a = \sqrt{k+1} + k$$

توجه کنید که تساوی‌های فوق فقط برای  $-1 \leq k \leq 1$  می‌توانند برقرار باشند.

$$k+2 - (1-k)^2 = \sqrt{k+1} + k \Rightarrow 1+2k - k^2 = \sqrt{k+1}$$

یعنی خط  $y=1$  مجانب افقی تابع است. پس این تابع فقط یک مجانب قائم دارد، یعنی یکی از ریشه‌های مخرج  $f(x)$  ریشه صورت آن نیز هست. اگر این ریشه  $x=n$  باشد، آن گاه

$$\begin{cases} an^3 - bn^2 + 2 = 0 \\ an^3 - bn + 2 = 0 \end{cases} \Rightarrow bn^2 - bn = 0 \Rightarrow bn(n-1) = 0$$

چون  $b \neq 0$  و  $n \neq 0$ ، پس  $n=1$ ، در نتیجه

$$a - b + 2 = 0 \Rightarrow b = a + 2$$

اکنون توجه کنید که مخرج  $f(x)$  علاوه بر  $x=1$  یک ریشه مضاعف دارد. پس

$$ax^3 - bx + 2 = ax^3 - (a+2)x + 2 = 0 \Rightarrow ax(x^2-1) - 2(x-1) = 0$$

$$(x-1)(a(x^2+x)-2) = 0 \Rightarrow (x-1)(ax^2+ax-2) = 0$$

پس معادله  $ax^2+ax-2=0$  ریشه مضاعف دارد، یعنی

$$\Delta = a^2 + 8a = 0 \xrightarrow{a \neq 0} a = -8, b = -6$$

**راه حل دوم** مقادیر  $a$  و  $b$  را از گزینه‌ها در ضابطه  $f$  قرار دهید و درست بودن شرایط مسئله را بررسی کنید.

**۲۵۳۱- گزینه ۲** ابتدا توجه کنید که حد مخرج کسر  $\frac{f(x)}{x}$  در  $x=0$

برابر صفر است و اگر حد صورت آن در این نقطه برابر صفر نباشد، حد این کسر نامتناهی می‌شود، پس حد صورت کسر، یعنی  $f(x)$  هم باید در  $x=0$  برابر صفر باشد. پس

$$\lim_{x \rightarrow 0^+} f(x) = \lim_{x \rightarrow 0^+} (\cos^2 2x + ax^2 + b) = 1 + 0 + b = 0 \Rightarrow b = -1$$

از طرف دیگر،

$$f(x) = \cos^2 2x + ax^2 - 1 \Rightarrow f'(x) = -2 \sin 2x \cos 2x + 2ax$$

بنابراین

$$\begin{aligned} \lim_{x \rightarrow 0^-} \frac{f'(x)}{x} &= \lim_{x \rightarrow 0^-} \left( \frac{-2 \sin 2x \cos 2x + 2ax}{x} \right) \\ &= -2 \times 2 \times 1^2 + 2a = -4 + 2a = 2 \Rightarrow a = 3 \end{aligned}$$

بنابراین  $a+b=6$

**۲۵۳۲- گزینه ۳** توجه کنید که تابع  $f(x) = |\sin 2x| + 1$  در نقطه

$x=0$  مشتق پذیر نیست:

$$x > 0 \Rightarrow f(x) = \sin 2x + 1 \Rightarrow f'(x) = 2 \cos 2x \Rightarrow f'_+(0) = 2$$

$$x < 0 \Rightarrow f(x) = -\sin 2x + 1 \Rightarrow f'(x) = -2 \cos 2x \Rightarrow f'_-(0) = -2$$

بنابراین شیب نیم‌مماس‌های راست و چپ که در  $x=0$  بر نمودار تابع  $f$  رسم می‌شوند، به ترتیب برابر ۲ و -۲ است. معادله این نیم‌مماس‌ها به صورت زیر است:

$$x - 0 = m(y - f(0)) \Rightarrow y - 1 = 2x \Rightarrow y = 2x + 1$$

$$x - 0 = m(y - f(0)) \Rightarrow y - 1 = -2x \Rightarrow y = -2x + 1$$

نقاط تلاقی امتداد این نیم‌مماس‌ها و نیمساز ناحیه دوم و ناحیه چهارم را پیدا می‌کنیم:

$$\begin{cases} y = 2x + 1 \\ y = -x \end{cases} \Rightarrow 2x + 1 = -x \Rightarrow x = -\frac{1}{3} \Rightarrow y = \frac{1}{3}$$

$$\begin{cases} y = -2x + 1 \\ y = -x \end{cases} \Rightarrow -2x + 1 = -x \Rightarrow x = 1 \Rightarrow y = -1$$

پس باید فاصله نقاط  $A(1, -1)$  و  $B(-\frac{1}{3}, \frac{1}{3})$  را پیدا کنیم:

$$AB = \sqrt{\left(1 + \frac{1}{3}\right)^2 + \left(-1 - \frac{1}{3}\right)^2} = \sqrt{2 \times \frac{16}{9}} = \frac{4}{3} \sqrt{2}$$

**۲۵۲۸- گزینه ۶** توجه کنید که اگر  $x \rightarrow 0^+$ ، آن گاه  $\frac{1}{\sqrt{1-x^2}} - 1 \rightarrow 0^+$

و  $\sqrt{2x} \rightarrow 0^+$ . بنابراین می‌توانیم از هم‌ارزی‌های زیر استفاده کنیم:

$$\alpha \rightarrow 0: \tan \alpha \sim \alpha, \quad 1 - \cos \alpha \sim \frac{1}{2} \alpha^2$$

در این صورت حد مورد نظر به صورت زیر درمی‌آید:

$$\begin{aligned} \lim_{x \rightarrow 0^+} \frac{\left(\frac{1}{\sqrt{1-x^2}} - 1\right)^2}{\left(\frac{1}{2}(\sqrt{2x})\right)^2} &= \lim_{x \rightarrow 0^+} \frac{(1-\sqrt{1-x^2})^2}{\sqrt{1-x^2}} \times \frac{1}{x^n} \\ &= \lim_{x \rightarrow 0^+} \frac{(1-\sqrt{1-x^2})^2}{x^n} \times \lim_{x \rightarrow 0^+} \frac{1}{1-x^2} \\ &= \lim_{x \rightarrow 0^+} \frac{(1-(1-x^2))^2}{x^n} \times \lim_{x \rightarrow 0^+} \frac{1}{(1+\sqrt{1-x^2})^2} \times \lim_{x \rightarrow 0^+} \frac{1}{1-x^2} \\ &= \lim_{x \rightarrow 0^+} \frac{1}{x^{n-4}} \times \frac{1}{(1+1)^2} \times \frac{1}{1} = \lim_{x \rightarrow 0^+} \frac{1}{4x^{n-4}} \end{aligned}$$

اکنون توجه کنید که اگر  $n > 4$ ، آن گاه حد بالا نامتناهی است و نمی‌تواند برابر  $a$

باشد. اگر  $n = 4$ ، آن گاه حد بالا برابر  $\frac{1}{4}$  است و در نتیجه  $a = \frac{1}{4}$  و  $a + n = \frac{17}{4}$ .

اگر  $n < 4$ ، آن گاه حد بالا برابر صفر است و در نتیجه  $a = 0$  و  $a + n < 4$ . پس

$a + n$  می‌تواند تمام مقادیر مجموعه  $(-\infty, 4) \cup \left\{\frac{17}{4}\right\}$  را داشته باشد.

**۲۵۲۹- گزینه ۱** توجه کنید که توابع  $y = \frac{-2}{x^2}$  و  $y = \frac{3}{x^2}$  روی بازه  $(-\infty, 0)$

به ترتیب اکیداً صعودی و اکیداً نزولی هستند. پس اگر  $x \rightarrow (-\frac{1}{2})^-$ ، آن گاه

$$\frac{3}{x^2} \rightarrow 12^-, \quad \frac{-2}{x^2} \rightarrow (-8)^+$$

بنابراین در یک همسایگی چپ  $x = -\frac{1}{2}$ ، توابع  $y = \left[\frac{-2}{x^2}\right]$  و  $y = \left[\frac{3}{x^2}\right]$

به ترتیب با تابع‌های  $y = -8$  و  $y = 11$  برابرند. پس

$$\begin{aligned} \lim_{x \rightarrow (-\frac{1}{2})^-} \frac{10x - 5 + \left[\frac{3}{x^2}\right]}{16x - \left[\frac{-2}{x^2}\right]} &= \lim_{x \rightarrow (-\frac{1}{2})^-} \frac{10x - 5 + 11}{16x - (-8)} \\ &= \lim_{x \rightarrow (-\frac{1}{2})^-} \frac{10x + 6}{16x + 8} = -\infty \end{aligned}$$

**۲۵۳۰- گزینه ۴** **راه حل اول** چون تابع  $f$  در دو نقطه ناپیوسته است، پس

مخرج  $f(x)$  دو ریشه دارد. چون تابع  $f$  دو مجانب موازی با محورهای مختصات دارد، پس یا هر دو مجانب آن قائم هستند و مجانب افقی ندارد یا یک

مجانب قائم و یک مجانب افقی دارد. اگر  $a = 0$ ، آن گاه  $f(x) = \frac{-bx^2 + 2}{-bx + 2}$

که در این صورت مخرج  $f(x)$  فقط یک ریشه دارد و قابل قبول نیست (واضح

است که  $b \neq 0$ ). اگر  $a \neq 0$ ، آن گاه

$$\lim_{x \rightarrow \pm\infty} f(x) = \lim_{x \rightarrow \pm\infty} \frac{ax^3}{ax^3} = 1$$

۲۵۳۷- گزینه ۳ معادله را به صورت زیر می نویسیم:

$$\log_4(4^x + 15) = x + 3 \Rightarrow 4^x + 15 = 2^{2x+3}$$

$$(2^x)^2 - 8 \times 2^x + 15 = 0 \Rightarrow (2^x - 5)(2^x - 3) = 0$$

بنابراین جوابهای معادله به صورت زیر هستند:

$$\begin{cases} 2^x - 5 = 0 \Rightarrow 2^x = 5 \Rightarrow x = \log_2 5 \\ 2^x - 3 = 0 \Rightarrow 2^x = 3 \Rightarrow x = \log_2 3 \end{cases}$$

پس مجموع جوابهای معادله برابر است با

$$\log_2 5 + \log_2 3 = \log_2 5 \times 3 = \log_2 15$$

۲۵۳۸- گزینه ۳ ابتدا توجه کنید برای اینکه عبارت‌های رادیکالی موجود

در معادله تعریف شده باشند، باید شرایط زیر وجود داشته باشد:

$$-x^2 + 6x - 8 \geq 0 \Rightarrow x^2 - 6x + 8 \leq 0 \Rightarrow (x-2)(x-4) \leq 0$$

x	$-\infty$	2	4	$+\infty$
$(x-2)(x-4)$		+	-	+

$$2 \leq x \leq 4 \quad (I)$$

$$-x^3 + 4x^2 + 25x - 100 \geq 0 \Rightarrow x^3 - 4x^2 - 25x + 100 \leq 0$$

$$(x^3 - 25x) - (4x^2 - 100) \leq 0 \Rightarrow x(x^2 - 25) - 4(x^2 - 25) \leq 0$$

$$(x^2 - 25)(x - 4) \leq 0 \Rightarrow (x-5)(x+5)(x-4) \leq 0$$

x	$-\infty$	-5	4	5	$+\infty$
$(x-5)(x+5)(x-4)$		-	+	-	+

$$x \leq -5 \text{ یا } 4 \leq x \leq 5 \quad (II)$$

از (I) و (II) نتیجه می‌شود فقط به ازای  $x=4$  عبارت‌های رادیکالی موجود در معادله تعریف شده هستند. اکنون کافی است مشخص کنیم  $x=4$  جواب معادله هست یا نه.

$$\sqrt{x} + \sqrt{-x^3 + 4x^2 + 25x - 100} + \sqrt{x^2} + \sqrt{-x^2 + 6x - 8} = x + 2$$

$$\sqrt{4+0} + \sqrt{16+0} = 4+2 \Rightarrow 2+4=4+2$$

پس  $x=4$  تنها جواب معادله است.

۲۵۳۹- گزینه ۳و۲ ابتدا توجه کنید که

$$x - 3\sqrt{x+2} = (\sqrt{x-1})(\sqrt{x-2})$$

بنابراین علامت عبارت  $A = \frac{2x-3}{x-3\sqrt{x+2}}$  مطابق جدول زیر است:

x	$-\infty$	0	1	$\frac{3}{2}$	4	$+\infty$
A			-	+	-	+

اکنون فرض کنید  $B = (m^2 - 1)x^2 - 4mx + 4$ ، می‌خواهیم مجموعه جواب‌های نامعادله  $AB \geq 0$  یک بازه باشد. اگر B چندجمله‌ای درجه دوم باشد و ریشه نداشته باشد یا ریشه مضاعف داشته باشد، آن‌گاه با توجه به علامت A مجموعه جواب‌های نامعادله  $AB \geq 0$  نمی‌تواند یک بازه باشد. پس B دو ریشه دارد و این ریشه‌ها باید از اعداد 1،  $\frac{3}{2}$  و 4 باشند، بنابراین سه

حالت را بررسی می‌کنیم:

۲۵۳۳- گزینه ۱ توجه کنید که  $D_f = [0, +\infty) - \{1\}$  و

$$f(x) = 2x^{\frac{1}{2}} - \frac{3}{2}(x^2 - 1)^{-\frac{1}{3}}$$

$$f'(x) = 2\left(\frac{1}{2}\right)x^{-\frac{1}{2}} - \frac{3}{2}\left(-\frac{1}{3}\right)(2x)(x^2 - 1)^{-\frac{4}{3}} = \frac{1}{\sqrt{x}} + \frac{x}{\sqrt[3]{(x^2 - 1)^4}}$$

بنابراین  $f'(x)$  روی  $[0, +\infty) - \{1\}$  مثبت است. از طرف دیگر،

$$\lim_{x \rightarrow 1^+} f(x) = 2 - (+\infty) = -\infty, \quad \lim_{x \rightarrow 1^-} f(x) = 2 - (-\infty) = +\infty$$

بنابراین تابع f روی دامنه‌اش صعودی نیست ولی روی بازه‌های  $(0, 1)$  و  $(1, +\infty)$  صعودی است.

۲۵۳۴- گزینه ۱ مشتق تابع f را تعیین علامت می‌کنیم:

$$f(x) = \frac{x^f}{x^3 - 8}, \quad D_f = \mathbb{R} - \{2\}$$

$$f'(x) = \frac{fx^f(x^3 - 8) - 3x^f(x^f)}{(x^3 - 8)^2} = \frac{x^f(x^3 - 32)}{(x^3 - 8)^2}$$

x	$-\infty$	0	2	$\sqrt[3]{32}$	$+\infty$
$f'(x)$		+	-	-	+

بنابراین  $f'(x)$  روی بازه‌های  $[0, 2)$  و  $(2, \sqrt[3]{32})$  و هر زیرمجموعه آنها اکیداً نزولی است. بیشترین مقدار طول این بازه‌ها مربوط به بازه  $[0, 2)$  است که برابر 2 است.

۲۵۳۵- گزینه ۳ ابتدا اکستریم‌های نسبی تابع f را معین می‌کنیم:

$$f(x) = 2x^3 - 3x^2 - 12x + 1$$

$$f'(x) = 6x^2 - 6x - 12 = 6(x^2 - x - 2) = 6(x+1)(x-2)$$

$$f'(x) = 0 \Rightarrow \begin{cases} x = -1 \Rightarrow y = -2 - 3 + 12 + 1 = 8 \\ x = 2 \Rightarrow y = 16 - 12 - 24 + 1 = -19 \end{cases}$$

پس نقاط  $A(-1, 8)$  و  $B(2, -19)$  نقاط اکستریم نسبی تابع f هستند و

شیب پاره‌خط AB برابر است با  $\frac{-19-8}{2-(-1)} = -9$

شیب خط مماس بر نمودار تابع f در نقطه‌ای به طول a برابر  $f'(a)$  است. پس می‌خواهیم بدانیم به‌ازای چند مقدار a تساوی  $f'(a) = -9$  برقرار است.

$$f'(a) = 6(a+1)(a-2) = -9 \Rightarrow 2a^2 - 2a - 4 = -3 \Rightarrow 2a^2 - 2a - 1 = 0$$

از معادله بالا دو جواب برای a به‌دست می‌آید. پس دو نقطه روی نمودار تابع f وجود دارد که خط مماس بر نمودار تابع f در آن نقاط موازی پاره‌خط AB است.

۲۵۳۶- گزینه ۱ ابتدا توجه کنید که

$$\log_a c + \log_b c = 1 \Rightarrow \frac{1}{\log_c a} + \frac{1}{\log_c b} = 1$$

$$\log_c b + \log_c a = \log_c a \times \log_c b \Rightarrow \log_c(ab) = \log_c a \times \log_c b$$

و جدول تعیین علامت AB به صورت زیر است:

x	$-\infty$	۰	$\frac{4}{5}$	۱	$\frac{3}{2}$	۴	$+\infty$
AB	+	-	+	-	+	-	+

در این صورت مجموعه جواب‌های نامعادله  $AB \geq 0$  یک بازه نیست. اکنون توجه کنید که اگر  $m=1$  یا  $m=-1$ ، آن‌گاه چندجمله‌ای B از درجه اول است. این دو حالت را هم باید بررسی کنیم.

اگر  $m=1$ ، آن‌گاه  $B = -4x + 4$  و جدول تعیین علامت AB به صورت زیر است:

x	$-\infty$	۰	۱	$\frac{3}{2}$	۴	$+\infty$
AB	+	-	-	+	-	-

و مجموعه جواب‌های نامعادله  $AB \geq 0$  بازه  $[\frac{3}{2}, 4]$  است.

اگر  $m=-1$ ، آن‌گاه  $B = 4x + 4$  و جدول تعیین علامت AB به صورت زیر است:

x	$-\infty$	۰	۱	$\frac{3}{2}$	۴	$+\infty$
AB	+	-	+	-	+	+

در این صورت مجموعه جواب‌های نامعادله  $AB \geq 0$  یک بازه نیست.

بنابراین به ازای  $m=1$  و  $m=-\frac{1}{2}$ ،  $m=\frac{1}{3}$  مجموعه جواب‌های نامعادله  $AB \geq 0$  یک بازه است.

**۲۵۴- گزینه ۳ راه حل اول** مخرج مشترک می‌گیریم و ساده می‌کنیم:

$$\frac{\sin \theta}{1-\cos \theta} + \frac{1+\cos \theta}{\sin \theta} = \frac{\sin^2 \theta + 1 - \cos^2 \theta}{(1-\cos \theta) \sin \theta} = \frac{2 \sin^2 \theta}{(1-\cos \theta) \sin \theta}$$

$$= \frac{2 \sin \theta}{1-\cos \theta} = \frac{4 \times \sin \frac{\theta}{2} \cos \frac{\theta}{2}}{2 \sin^2 \frac{\theta}{2}} = \frac{2 \cos \frac{\theta}{2}}{\sin \frac{\theta}{2}} = 2 \cot \frac{\theta}{2}$$

**راه حل دوم** ابتدا هریک از کسرها را ساده می‌کنیم، سپس حاصل را ساده می‌کنیم.

$$\frac{\sin \theta}{1-\cos \theta} + \frac{1+\cos \theta}{\sin \theta} = \frac{2 \sin \frac{\theta}{2} \cos \frac{\theta}{2}}{2 \sin^2 \frac{\theta}{2}} + \frac{2 \cos^2 \frac{\theta}{2}}{2 \sin \frac{\theta}{2} \cos \frac{\theta}{2}}$$

$$= \cot \frac{\theta}{2} + \cot \frac{\theta}{2} = 2 \cot \frac{\theta}{2}$$

**راه حل سوم** حاصل عبارت را به ازای  $\theta = \frac{\pi}{3}$  حساب می‌کنیم:

$$\frac{\sin \frac{\pi}{3}}{1-\cos \frac{\pi}{3}} + \frac{1+\cos \frac{\pi}{3}}{\sin \frac{\pi}{3}} = \frac{\frac{\sqrt{3}}{2}}{1-\frac{1}{2}} + \frac{1+\frac{1}{2}}{\frac{\sqrt{3}}{2}} = \sqrt{3} + \frac{3}{\sqrt{3}} = 2\sqrt{3}$$

اکنون مقدار گزینه‌ها را به ازای  $\theta = \frac{\pi}{3}$  حساب می‌کنیم:

**گزینه (۱)**  $\cos \frac{\theta}{2} = \cos \frac{\pi}{6} = \frac{\sqrt{3}}{2}$

**گزینه (۲)**  $\sin \frac{\theta}{2} = \sin \frac{\pi}{6} = \frac{1}{2}$

**گزینه (۳)**  $2 \cot \frac{\theta}{2} = 2 \cot \frac{\pi}{6} = 2\sqrt{3}$

**گزینه (۴)**  $2 \tan \frac{\theta}{2} = 2 \tan \frac{\pi}{6} = \frac{2\sqrt{3}}{3}$

**حالت اول:**  $x=1$  ریشه B است.

(غ.ق.ق.)  $m^2 - 1 - 4m + 4 = 0 \Rightarrow m^2 - 4m + 3 = 0 \Rightarrow m=3, m=1$

$B = 8x^2 - 12x + 4 = 4(x-1)(2x-1)$

در این صورت جدول تعیین علامت AB به صورت زیر است:

x	$-\infty$	۰	$\frac{1}{2}$	۱	$\frac{3}{2}$	۴	$+\infty$
AB	+	-	+	+	-	+	+

واضح است که مجموعه جواب‌های نامعادله  $AB \geq 0$  یک بازه نیست.

**حالت دوم:**  $x = \frac{3}{2}$  ریشه B است.

$(m^2 - 1) \frac{9}{4} - 4(\frac{3}{2})m + 4 = 0 \Rightarrow 9m^2 - 9 - 24m + 16 = 0$

$9m^2 - 24m + 7 = 0 \Rightarrow (3m-1)(3m-7) = 0 \Rightarrow m = \frac{1}{3}, m = \frac{7}{3}$

اگر  $m = \frac{1}{3}$ ، آن‌گاه

$B = -\frac{1}{9}x^2 - \frac{4}{3}x + 4 = (2x-3)(-\frac{1}{9}x - \frac{4}{3})$

و جدول تعیین علامت AB به صورت زیر است:

x	$-\infty$	۰	۱	$\frac{3}{2}$	۴	$+\infty$
AB	+	-	+	+	-	-

و مجموعه جواب‌های نامعادله  $AB \geq 0$  بازه  $(1, 4)$  است.

اگر  $m = \frac{7}{3}$ ، آن‌گاه

$B = \frac{4}{9}x^2 - \frac{28}{3}x + 4 = \frac{4}{9}(\Delta x - 3)(2x - 3)$

و جدول تعیین علامت AB به صورت زیر است:

x	$-\infty$	۰	$\frac{3}{2}$	۱	$\frac{3}{2}$	۴	$+\infty$
AB	+	-	+	-	-	+	+

در این صورت مجموعه جواب‌های نامعادله  $AB \geq 0$  یک بازه نیست.

**حالت سوم:**  $x=4$  ریشه B است.

$16(m^2 - 1) - 16m + 4 = 0 \Rightarrow 4m^2 - 4m - 3 = 0 \Rightarrow m = -\frac{1}{2}, m = \frac{3}{2}$

اگر  $m = -\frac{1}{2}$ ، آن‌گاه

$B = -\frac{3}{4}x^2 + 2x + 4 = (x-4)(-\frac{3}{4}x-1)$

و جدول تعیین علامت AB به صورت زیر است:

x	$-\infty$	۰	۱	$\frac{3}{2}$	۴	$+\infty$
AB	+	-	+	-	-	-

و مجموعه جواب‌های نامعادله  $AB \geq 0$  بازه  $(1, \frac{3}{2}]$  است.

اگر  $m = \frac{3}{2}$ ، آن‌گاه

$B = \frac{5}{4}x^2 - 6x + 4 = (x-4)(\frac{5}{4}x-1)$

بنابراین می‌توان حدس زد که

$$a_{99} = \frac{2 \times 99 - 1}{2 \times 99 - 3} = \frac{197}{195}, \quad a_{100} = \frac{2 \times 100 - 1}{2 \times 100 - 3} = \frac{199}{197}$$

در نتیجه حاصل ضرب صد جمله اول دنباله برابر است با

$$a_1 a_2 \cdots a_{100} = (-1) \left(\frac{3}{1}\right) \left(\frac{5}{3}\right) \left(\frac{7}{5}\right) \left(\frac{9}{7}\right) \cdots \left(\frac{197}{195}\right) \left(\frac{199}{197}\right) = -199$$

۲۵۴۴- گزینه ۲ ده جمله اول دنباله را پیدا می‌کنیم.

$$a_n = \begin{cases} 2^k & n=3k \\ -2k+4 & n=3k+1 \\ \left[\frac{n}{k+2}\right]+a & n=3k+2 \end{cases}$$

$$k=0 \Rightarrow \begin{cases} a_0 = 2^0 = 1 \\ a_1 = -2 \times 0 + 4 = 4 \\ a_2 = \left[\frac{2 \times 0 + 2}{0+2}\right] + a = 1 + a \end{cases}$$

$$k=1 \Rightarrow \begin{cases} a_3 = 2^1 = 2 \\ a_4 = -2 \times 1 + 4 = 2 \\ a_5 = \left[\frac{2 \times 1 + 2}{1+2}\right] + a = 1 + a \end{cases}$$

$$k=2 \Rightarrow \begin{cases} a_6 = 2^2 = 4 \\ a_7 = -2 \times 2 + 4 = 0 \\ a_8 = \left[\frac{2 \times 2 + 2}{2+2}\right] + a = 2 + a \end{cases}$$

$$k=3 \Rightarrow a_9 = 2^3 = 8$$

مجموع ده جمله اول دنباله برابر ۱۹ است. پس

$$1+4+1+a+2+2+1+a+4+0+2+a+8=19$$

$$3a+25=19 \Rightarrow a=-2$$

بنابراین باید میانگین  $a_{78}$  و  $a_{79}$  را پیدا کنیم.

$$a_{78} = -2 \times 9 + 4 = -14, \quad a_{79} = \left[\frac{2 \times 9}{9+2}\right] - 2 = 2 - 2 = 0$$

پس میانگین جملات بیست و نهم ( $a_{78}$ ) و سی ام ( $a_{79}$ ) برابر است با

$$\frac{-14+0}{2} = -7$$

۲۵۴۵- گزینه ۴ توجه کنید که

$$0 \leq \sin^2 x \leq 1 \Rightarrow 0 \leq 5 \sin^2 x \leq 5 \Rightarrow -1 \leq 5 \sin^2 x - 1 \leq 4$$

$$0 \leq \sqrt{5 \sin^2 x - 1} \leq 2 \Rightarrow -2 \leq -\sqrt{5 \sin^2 x - 1} \leq 0$$

$$2-2 \leq 2 - \sqrt{5 \sin^2 x - 1} \leq 2 \Rightarrow \frac{1}{4} \leq f(x) \leq 1$$

بنابراین  $R_f = \left[\frac{1}{4}, 1\right]$  در نتیجه

$$a = \frac{1}{4}, b = 1 \Rightarrow a + b = \frac{5}{4}$$

۲۵۴۱- گزینه ۳ معادله را به صورت زیر می‌نویسیم:

$$(1 + \cos \alpha)(1 + \cos 2\alpha)(1 + \cos 4\alpha) = \frac{1}{8}$$

$$(2 \cos^2 \frac{\alpha}{2})(2 \cos^2 \alpha)(2 \cos^2 2\alpha) = \frac{1}{8}$$

$$(\lambda \cos \frac{\alpha}{2} \cos \alpha \cos 2\alpha)^2 = 1$$

واضح است که  $\alpha = 2k\pi$  جواب معادله نیست، پس  $\sin \frac{\alpha}{2} \neq 0$  و معادله را

می‌توان به صورت زیر نوشت:

$$\left(\frac{\lambda \sin \frac{\alpha}{2} \cos \frac{\alpha}{2} \cos \alpha \cos 2\alpha}{\sin \frac{\alpha}{2}}\right)^2 = 1$$

$$(4 \sin \alpha \cos \alpha \cos 2\alpha)^2 = \sin^2 \frac{\alpha}{2}$$

$$(2 \sin 2\alpha \cos 2\alpha)^2 = \sin^2 \frac{\alpha}{2} \Rightarrow \frac{1 - \cos 4\alpha}{2} = \frac{1 - \cos \alpha}{2}$$

$$\cos 4\alpha = \cos \alpha$$

بنابراین جواب‌های معادله به صورت زیر هستند:

$$\begin{cases} \lambda \alpha = 2k\pi + \alpha \\ \lambda \alpha = 2k\pi - \alpha \end{cases} \Rightarrow \begin{cases} \alpha = \frac{2k\pi}{\lambda} \\ \alpha = \frac{2k\pi}{\lambda} \end{cases}, k \in \mathbb{Z}$$

تعداد جواب‌های واقع در بازه  $[0, 2\pi]$  به صورت زیر به دست می‌آید. (توجه کنید که  $\alpha \neq 2k\pi$ )

$$0 < \frac{2k\pi}{\lambda} < 2\pi \Rightarrow 0 < k < \lambda \Rightarrow k \in \{1, 2, 3, 4, 5, 6\}$$

$$0 < \frac{2k\pi}{9} < 2\pi \Rightarrow 0 < k < 9 \Rightarrow k \in \{1, 2, \dots, 8\}$$

پس معادله ۱۴ جواب در بازه  $[0, 2\pi]$  دارد.

۲۵۴۲- گزینه ۴ بنا بر قضیه تقسیم، تساوی زیر به ازای هر مقدار  $x$  برقرار است:

$$P(x) = (x^2 + 2x)Q(x) + 3x + 1$$

از طرفین این تساوی مشتق می‌گیریم.

$$P'(x) = (2x+2)Q(x) + (x^2+2x)Q'(x) + 3$$

در تساوی بالا قرار می‌دهیم  $x = -2$  و نتیجه می‌شود

$$P'(-2) = (-4+2)Q(-2) + (4-4)Q'(-2) + 3$$

$$P'(-2) = -2Q(-2) + 3 = -2 \times 3 + 3 = -3$$

پس باقی‌مانده تقسیم  $P'(x)$  بر  $x+2$  برابر  $-3$  است.

۲۵۴۳- گزینه ۲ ابتدا چند جمله از دنباله را مشخص می‌کنیم.

$$a_1 = -1, \quad a_{n+1} = 2 - \frac{1}{a_n}$$

$$a_2 = 2 - \frac{1}{a_1} = 2 + 1 = 3 \Rightarrow a_2 = \frac{2 \times 2 - 1}{2 \times 2 - 3}$$

$$a_3 = 2 - \frac{1}{a_2} = 2 - \frac{1}{3} = \frac{5}{3} \Rightarrow a_3 = \frac{2 \times 3 - 1}{2 \times 3 - 3}$$

$$a_4 = 2 - \frac{1}{a_3} = 2 - \frac{3}{5} = \frac{7}{5} \Rightarrow a_4 = \frac{2 \times 4 - 1}{2 \times 4 - 3}$$

$$a_5 = 2 - \frac{1}{a_4} = 2 - \frac{5}{7} = \frac{9}{7} \Rightarrow a_5 = \frac{2 \times 5 - 1}{2 \times 5 - 3}$$

توجه کنید که **۲-۲۵۴۶ گزینۀ ۲**

$$\log_{\frac{1}{2}} t = \log_{2^{-1}} t^{-1} = \log_2 t$$

بنابراین اگر فرض کنیم  $t = 12 + \sqrt{[x]} - [x]$ ، آن گاه

$$f(x) = \log_{\frac{1}{2}} t^{-1} = \log_2 t - 1$$

چون  $R_f = \{\log_2 3, \log_2 5\}$  پس

$$\begin{cases} \log_2 t - 1 = \log_2 3 \Rightarrow \log_2 t = 1 + \log_2 3 = \log_2 6 \Rightarrow t = 6 \\ \log_2 t - 1 = \log_2 5 \Rightarrow \log_2 t = 1 + \log_2 5 = \log_2 10 \Rightarrow t = 10 \end{cases}$$

بنابراین با فرض  $u = \sqrt{[x]} \geq 0$  داریم

$$\begin{cases} 12 + u - u^2 = 6 \Rightarrow u^2 - u - 6 = 0 \Rightarrow u = 3, u = -2 \text{ (غ.ق.)} \\ 12 + u - u^2 = 10 \Rightarrow u^2 - u - 2 = 0 \Rightarrow u = 2, u = -1 \text{ (غ.ق.)} \end{cases}$$

بنابراین

$$\sqrt{[x]} = 2 \Rightarrow [x] = 4 \Rightarrow 4 \leq x < 5$$

$$\sqrt{[x]} = 3 \Rightarrow [x] = 9 \Rightarrow 9 \leq x < 10$$

بنابراین حداکثر عددهای صحیح ۴ و ۹ در دامنه تابع  $f$  قرار دارند.

**۳-۲۵۴۷ گزینۀ ۳**

تابع  $f$  اکیداً صعودی است و اگر نمودار آن را  $k$  واحد به بالا یا پایین منتقل کنیم، باز هم تابعی اکیداً صعودی حاصل می‌شود که نمودار وارونش را روی خط  $y = x$  قطع می‌کند. پس نقطه تقاطع نمودار تابع  $y = f(x) + k$  و وارونش نقطه  $(1, 1)$  است، پس

$$f(1) + k = 1 \Rightarrow \sqrt{1+3} + k = 1 \Rightarrow k = -1$$

اکنون اگر نمودار حاصل را نسبت به محور  $x$  قرینه کنیم، نمودار تابع  $y = -(f(x) - 1)$  به دست می‌آید و اگر این نمودار را ۴ واحد در جهت افقی به سمت چپ منتقل کنیم، نمودار تابع  $y = -f(x+4) + 1$  به دست می‌آید. پس ضابطه تابع مورد نظر به صورت زیر است:

$$y = -\sqrt{x+4} + 3 + 1$$

واضح است که نمودار این تابع از نقطه  $(0, 1 - \sqrt{5})$  عبور می‌کند.

**۴-۲۵۴۸ گزینۀ ۴** ابتدا توابع  $fog$  و  $gof$  را معین می‌کنیم.

$$(fog)(x) = f(g(x)) = f(1-x^2) = \begin{cases} -1 & 1-x^2 < -1 \\ 1-x^2 & -1 \leq 1-x^2 \leq 1 \\ 1 & 1-x^2 > 1 \end{cases}$$

$$= \begin{cases} -1 & x^2 > 2 \\ 1-x^2 & 0 \leq x^2 \leq 2 \\ 1 & x^2 < 0 \end{cases} = \begin{cases} -1 & x > \sqrt{2} \text{ یا } x < -\sqrt{2} \\ 1-x^2 & -\sqrt{2} \leq x \leq \sqrt{2} \\ 1 & -1 \leq x \leq 1 \end{cases}$$

$$(gof)(x) = g(f(x)) = 1 - f^2(x) = \begin{cases} 1 - (-1)^2 & x < -1 \\ 1 - x^2 & -1 \leq x \leq 1 \\ 1 - 1^2 & x > 1 \end{cases}$$

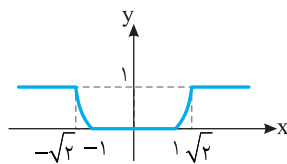
$$= \begin{cases} 0 & x < -1 \text{ یا } x > 1 \\ 1 - x^2 & -1 \leq x \leq 1 \end{cases}$$

بنابراین تابع  $h = gof - fog$  به صورت زیر است:

$$h(x) = \begin{cases} 0 - (-1) & x < -\sqrt{2} \\ 0 - (1-x^2) & -\sqrt{2} \leq x < -1 \\ 1-x^2 - (1-x^2) & -1 \leq x \leq 1 \\ 0 - (1-x^2) & 1 < x \leq \sqrt{2} \\ 0 - (-1) & x \geq \sqrt{2} \end{cases}$$

$$h(x) = \begin{cases} 1 & x < -\sqrt{2} \text{ یا } x \geq \sqrt{2} \\ x^2 - 1 & -\sqrt{2} \leq x < -1 \text{ یا } 1 < x \leq \sqrt{2} \\ 0 & -1 \leq x \leq 1 \end{cases}$$

پس نمودار تابع  $h$  به صورت زیر است و ماکزیمم مقدار آن برابر ۱ است.



**۱-۲۵۴۹ گزینۀ ۱** ابتدا توجه کنید که اگر  $x \rightarrow 0^+$ ، آن گاه  $[x] = 0$ ، پس

$$\tan[x] = \tan 0 = 0$$

از طرف دیگر،  $\sqrt{3x} \rightarrow 0^+$  و  $(\sqrt{1-x^3} - 1) \rightarrow 0^-$  و می‌توان از هم‌ارزی‌های

$$\sin \alpha \sim \alpha \text{ و } 1 - \cos \alpha \sim \frac{1}{2} \alpha^2 \text{ استفاده کرد. پس}$$

$$\lim_{x \rightarrow 0^+} \frac{\sin(\sqrt{1-x^3} - 1) - 2 \tan[x]}{x^n (1 - \cos \sqrt{3x})} = \lim_{x \rightarrow 0^+} \frac{\sqrt{1-x^3} - 1}{x^n (\frac{1}{2} (3x))}$$

$$= \lim_{x \rightarrow 0^+} \frac{1-x^3-1}{\frac{3}{2} x^{n+1}} \times \frac{1}{\sqrt{1-x^3}+1} = \lim_{x \rightarrow 0^+} \frac{-1}{3x^{n-2}}$$

اکنون توجه کنید که اگر  $n > 2$ ، آن گاه حد بالا موجود نیست. اگر  $n = 2$ ،

آن گاه حد بالا برابر  $-\frac{1}{3}$  است. پس  $a = -\frac{1}{3}$  و در نتیجه  $a^n = \frac{1}{9}$ . اگر

$0 < n < 2$ ، آن گاه حد مورد نظر برابر صفر است و در نتیجه  $a^n = 0$ . بنابراین

مقدار  $a^n$  می‌تواند برابر  $\frac{1}{9}$  یا صفر باشد که فقط  $\frac{1}{9}$  در گزینه‌ها وجود دارد.

**۲-۲۵۵۰ گزینۀ ۲** توجه کنید که اگر  $x \rightarrow (-\frac{1}{2})^+$ ، آن گاه  $(-\lambda)^{-} \rightarrow \frac{-2}{x^2}$  و

$\frac{3}{x^2} \rightarrow 12^+$ . بنابراین  $[-\frac{2}{x^2}] = -9$  و  $[\frac{3}{x^2}] = 12$ . پس حد مورد نظر به صورت

زیر است:

$$\lim_{x \rightarrow (-\frac{1}{2})^+} \frac{16x - (-9)}{24x + 12} = \frac{1}{0^+} = +\infty$$

**۱-۲۵۵۱ گزینۀ ۱** ابتدا توجه کنید که

$$f(x) = \frac{x^3 - 5x + 4}{(x-a)(4x^2 - 4x + 1)} = \frac{(x-1)(x^2 + x - 4)}{(x-a)(2x-1)^2}$$

واضح است که  $y = \frac{1}{x}$  مجانب افقی و  $x = \frac{1}{2}$  مجانب قائم نمودار تابع  $f$  است.



۲۵۵۴- گزینه ۱ مشتق تابع را تعیین علامت می‌کنیم.

$$f(x) = 3\sqrt[3]{x} + |x| = \begin{cases} 3\sqrt[3]{x} + x & x \geq 0 \\ 3\sqrt[3]{x} - x & x \leq 0 \end{cases}$$

$$f'(x) = \begin{cases} \frac{1}{\sqrt[3]{x^2}} + 1 & x > 0 \\ \frac{1}{\sqrt[3]{x^2}} - 1 & x < 0 \end{cases}$$

$$f'(x) = 0 \Rightarrow \begin{cases} \frac{1}{\sqrt[3]{x^2}} + 1 = 0 \text{ (غ.ق.)} \\ \frac{1}{\sqrt[3]{x^2}} - 1 = 0 \Rightarrow \sqrt[3]{x^2} = 1 \Rightarrow x^2 = 1 \Rightarrow x = -1 \end{cases}$$

x	$-\infty$	-1	0	$+\infty$
f'(x)	-	+	+	+

بنابراین تابع f روی بازه  $[-1, +\infty)$  صعودی است.

۲۵۵۵- گزینه ۳ مشتق تابع را تعیین علامت می‌کنیم.

$$f(x) = \frac{x^f - 3}{x^2 - 2} \Rightarrow f'(x) = \frac{fx^f(x^2 - 2) - 2x(x^f - 3)}{(x^2 - 2)^2}$$

$$= \frac{2x^5 - 8x^3 + 6x}{(x^2 - 2)^2} = \frac{2x(x^4 - 4x^2 + 3)}{(x^2 - 2)^2} = \frac{2x(x^2 - 1)(x^2 - 3)}{(x^2 - 2)^2}$$

x	$-\infty$	-2	$-\sqrt{3}$	$-\sqrt{2}$	-1	0	1	$\sqrt{2}$	$\sqrt{3}$	2	$+\infty$
f'(x)	+	-	+	+	-	-	-	+	+	-	+

بنابراین تابع f روی بازه‌های  $(-\infty, -2)$ ،  $(-2, -\sqrt{3})$ ،  $(-\sqrt{3}, -\sqrt{2})$ ،  $(-\sqrt{2}, -1)$ ،  $(-1, 0)$ ،  $(0, 1)$ ،  $(1, \sqrt{2})$ ،  $(\sqrt{2}, \sqrt{3})$  و  $(\sqrt{3}, +\infty)$  اکیداً نزولی است و در نقاط  $-\sqrt{3}$ ،  $-\sqrt{2}$ ،  $0$ ،  $1$ ،  $\sqrt{2}$  و  $\sqrt{3}$  (پنج بار) جهت صعودی و نزولی نمودار تابع f تغییر می‌کند.

۲۵۵۶- گزینه ۱ مشتق اول و مشتق دوم تابع را تعیین علامت می‌کنیم و

نقاط مینیمم نسبی و عطف تابع را معین می‌کنیم.

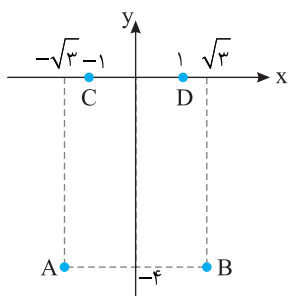
$$f(x) = x^f - 6x^2 + 5 \Rightarrow f'(x) = fx^f - 12x \Rightarrow f''(x) = 12x^f - 12$$

$$f'(x) = 0 \Rightarrow fx(x^f - 3) = 0 \Rightarrow x = 0, x = \pm\sqrt{3}$$

$$f''(x) = 0 \Rightarrow 12(x^f - 1) = 0 \Rightarrow x = \pm 1$$

x	$-\infty$	$-\sqrt{3}$	-1	0	1	$\sqrt{3}$	$+\infty$
f'(x)	-	+	+	-	-	+	+
f''(x)	+	+	-	-	+	+	+

min   عطف   max   عطف   min



پس نقاط  $A(-\sqrt{3}, -4)$  و  $B(\sqrt{3}, -4)$  مینیمم نسبی تابع f هستند و نقاط  $C(-1, 0)$  و  $D(1, 0)$  نقاط عطف این تابع هستند. شیب پاره‌خط‌های AB و CD برابر صفر است. بنابراین زاویه بین آنها برابر صفر است.

پس این تابع نباید مجانب قائم دیگری داشته باشد. سه حالت ممکن است:

**حالت اول:**  $x=a$  همان  $x=\frac{1}{p}$  باشد، یعنی  $a=\frac{1}{p}$ .

**حالت دوم:**  $x=a$  همان  $x=1$  باشد، یعنی  $a=1$ .

**حالت سوم:**  $x=a$  ریشه معادله  $x^2 + x - 4 = 0$  باشد که در این حالت مجموع مقادیر ممکن برای a برابر -1 است. پس مجموع تمام مقادیر ممکن a برابر است با

$$\frac{1}{p} + 1 - 1 = \frac{1}{p}$$

۲۵۵۲- گزینه ۳ ابتدا مشتق تابع f را پیدا می‌کنیم.

$$f(x) = \sin^n(x^2) \Rightarrow f'(x) = 2nx \cos(x^2) \sin^{n-1}(x^2)$$

بنابراین

$$\lim_{x \rightarrow 0^+} \frac{f(x)f'(x)}{(1 - \cos x)^m} = \lim_{x \rightarrow 0^+} \frac{\sin^n(x^2) 2nx \cos(x^2) \sin^{n-1}(x^2)}{(1 - \cos x)^m}$$

$$= \lim_{x \rightarrow 0^+} \frac{2nx \sin^{2n-1}(x^2) \cos(x^2)}{(1 - \cos x)^m} = 32\sqrt{2}$$

اکنون از هم‌ارزی‌های  $\sin \alpha \sim \alpha$  و  $1 - \cos \alpha \sim \frac{1}{2}\alpha^2$  استفاده می‌کنیم.

$$\lim_{x \rightarrow 0^+} \frac{2nx(x^2)^{2n-1} \cos(x^2)}{(\frac{1}{2}x^2)^m} = \lim_{x \rightarrow 0^+} \frac{n \times 2^{m+1} x^{4n-1} \cos(x^2)}{x^{2m}} = 32\sqrt{2}$$

بنابراین

$$\begin{cases} 2m = 4n - 1 \Rightarrow m = 2n - \frac{1}{2} \\ n \times 2^{m+1} = 32\sqrt{2} \Rightarrow n \times 2^{2n - \frac{1}{2}} = 32\sqrt{2} \Rightarrow n = 2 \Rightarrow m = \frac{7}{2} \end{cases}$$

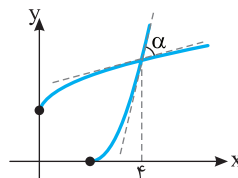
پس  $2m + n = 9$ .

۲۵۵۳- گزینه ۴ تابع  $f(x) = \sqrt{x} + 2$  اکیداً صعودی است و محل تقاطع

نمودار آن با نمودار وارونش روی خط  $y=x$  است. پس کافی است معادله  $f(x) = x$  را حل کنیم.

$$\sqrt{x} + 2 = x \Rightarrow \sqrt{x} = x - 2 \Rightarrow x = x^2 - 4x + 4$$

$$x^2 - 5x + 4 = 0 \Rightarrow x = 4, x = 1 \text{ (غ.ق.)}$$



اکنون شیب خطوط مماس بر نمودار تابع‌های f و  $f^{-1}$  را در نقطه  $x=4$  پیدا می‌کنیم.

$$f(x) = \sqrt{x} + 2 \Rightarrow f'(x) = \frac{1}{2\sqrt{x}} \Rightarrow f'(4) = \frac{1}{4}$$

$$f^{-1}(x) = (x-2)^2 \Rightarrow (f^{-1})'(x) = 2(x-2) \Rightarrow (f^{-1})'(4) = 4$$

تانژانت زاویه بین دو خط با شیب‌های  $m_1$  و  $m_2$  از تساوی

$$\tan \alpha = \left| \frac{m_1 - m_2}{1 + m_1 m_2} \right| \text{ به دست می‌آید. پس}$$

$$\tan \alpha = \left| \frac{4 - \frac{1}{4}}{1 + 4 \cdot \frac{1}{4}} \right| = \frac{15}{8}, \quad \sin 2\alpha = \frac{2 \tan \alpha}{1 + \tan^2 \alpha} = \frac{2 \cdot \frac{15}{8}}{1 + \left(\frac{15}{8}\right)^2} = \frac{240}{289}$$

همچنین حاصل ضرب جواب‌های معادله جدید به صورت زیر به دست می‌آید:

$$P = \frac{1}{(x_1+1)^3} \times \frac{1}{(x_2+1)^3} = \frac{1}{((x_1+1)(x_2+1))^3}$$

$$= \frac{1}{(x_1+x_2+x_1x_2+1)^3} = \frac{1}{(-1-5+1)^3} = -\frac{1}{125}$$

بنابراین معادله جدید به صورت  $x^2 + \frac{16}{125}x - \frac{1}{125} = 0$  است، که اگر دو

طرف آن را در ۱۲۵ ضرب کنیم، می‌شود  $125x^2 + 16x - 1 = 0$ .

**راه حل دوم** توجه کنید که

$$S = \frac{1}{(x_1+1)^3} + \frac{1}{(x_2+1)^3} = \left(\frac{1}{x_1+1}\right)^3 + \left(\frac{1}{x_2+1}\right)^3 = \frac{x_1^3}{125} + \frac{x_2^3}{125} = \frac{x_1^3+x_2^3}{125}$$

اکنون از اتحاد  $a^3+b^3=(a+b)^3-3ab(a+b)$  استفاده می‌کنیم. چون

$$x_1+x_2=-1 \text{ و } x_1x_2=-5$$

$$S = \frac{(x_1+x_2)^3 - 3x_1x_2(x_1+x_2)}{125} = \frac{(-1)^3 - 3(-5)(-1)}{125} = -\frac{16}{125}$$

از طرف دیگر،

$$P = \frac{1}{(x_1+1)^3} \times \frac{1}{(x_2+1)^3} = \left(\frac{1}{x_1+1}\right)^3 \times \left(\frac{1}{x_2+1}\right)^3 = \frac{x_1^3}{5^3} \times \frac{x_2^3}{5^3} = \frac{(x_1x_2)^3}{5^3 \times 5^3}$$

چون  $x_1x_2=-5$ ، پس  $P = \frac{(-5)^3}{5^3 \times 5^3}$ ، یعنی  $P = -\frac{1}{125}$ . در نتیجه معادله

مورد نظر به صورت  $x^2 + \frac{16}{125}x - \frac{1}{125} = 0$  است، که اگر دو طرف آن را در

۱۲۵ ضرب کنیم، می‌شود  $125x^2 + 16x - 1 = 0$ .

**۲۵۶- گزینه ۴** **راه حل اول** ابتدا توجه کنید که

$$f\left(\frac{\pi}{36}\right) = 16 \cos^2 \frac{3\pi}{36} \cos^2 \frac{6\pi}{36} \cos^2 \frac{12\pi}{36} \cos^2 \frac{24\pi}{36}$$

$$= 16 \cos^2 \frac{\pi}{12} \cos^2 \frac{\pi}{6} \cos^2 \frac{\pi}{3} \cos^2 \frac{2\pi}{3}$$

$$= 16 \cos^2 \frac{\pi}{12} \left(\frac{\sqrt{3}}{2}\right)^2 \left(\frac{1}{2}\right)^2 \left(-\frac{1}{2}\right)^2 = \frac{3}{4} \cos^2 \frac{\pi}{12}$$

اکنون برای اینکه مقدار  $\cos^2 \frac{\pi}{12}$  را حساب کنیم، از اتحاد مثلثاتی

$$\cos^2 \alpha = \frac{1}{2}(1 + \cos 2\alpha)$$

$$f\left(\frac{\pi}{36}\right) = \frac{3}{4} \times \frac{1}{2} (1 + \cos \frac{2\pi}{12}) = \frac{3}{8} (1 + \frac{\sqrt{3}}{2})$$

$$= \frac{3}{8} \left(\frac{2 + \sqrt{3}}{2}\right) = \frac{6 + 3\sqrt{3}}{16}$$

**راه حل دوم** عبارت داده شده را به صورت زیر می‌نویسیم:

$$f(x) = 16(\cos 3x \cos 6x \cos 12x \cos 24x)^2$$

اکنون عبارت داخل پرانتز را در  $\sin 3x$  ضرب و تقسیم می‌کنیم

$$f(x) = 16 \left( \frac{\sin 3x \cos 3x \cos 6x \cos 12x \cos 24x}{\sin 3x} \right)^2$$

از اتحاد مثلثاتی  $\sin \alpha \cos \alpha = \frac{1}{2} \sin 2\alpha$  به دست می‌آید

$$\sin 3x \cos 3x = \frac{1}{2} \sin 6x$$

**۲۵۵۷- گزینه ۴** عبارت مورد نظر را  $A$  می‌نامیم. در این صورت

$$A = (a^2 + b^2 - 2ab)^2 (a^2 + b^2 + 2ab)^2 = ((a-b)^2)^2 ((a+b)^2)^2$$

$$= (((a-b)(a+b))^2)^2$$

از اتحاد مزدوج استفاده می‌کنیم.

$$A = ((a^2 - b^2)^2)^2 = (a^4 - 2a^2b^2 + b^4)^2$$

اکنون توجه کنید که

$$a^4 = (\sqrt{\sqrt{6-2}})^4 = \sqrt{6-2}, \quad b^4 = (\sqrt{\sqrt{6+2}})^4 = \sqrt{6+2}$$

$$a^2b^2 = (\sqrt{\sqrt{6-2}})^2 \times (\sqrt{\sqrt{6+2}})^2 = \sqrt{6-2} \times \sqrt{6+2}$$

$$= \sqrt{(\sqrt{6-2})(\sqrt{6+2})} = \sqrt{6-4} = \sqrt{2}$$

بنابراین

$$A = (a^4 - 2a^2b^2 + b^4)^2 = (\sqrt{6-2} - 2\sqrt{2} + \sqrt{6+2})^2$$

$$= (2\sqrt{6} - 2\sqrt{2})^2 = 4(\sqrt{6} - \sqrt{2})^2 = 4(6 + 2 - 2\sqrt{12})$$

چون  $\sqrt{12} = 2\sqrt{3}$ ، پس

$$A = 4(8 - 4\sqrt{3}) = 16(2 - \sqrt{3})$$

**۲۵۵۸- گزینه ۴** فرض می‌کنیم  $\sqrt[3]{x} = t$ . در این صورت معادله مورد

نظر به شکل مقابل در می‌آید:

$$(t^2 + \frac{1}{t} + 1)(t^2 - 1) = 2t \Rightarrow \left(\frac{t^3 + 1 + t^2}{t^2}\right)(t^2 - 1) = 2t$$

برای اینکه معادله را ساده کنیم، دو طرف آن را در  $t^2$  ضرب می‌کنیم

$$(t^4 + t^2 + 1)(t^2 - 1) = 2t^3$$

اکنون توجه کنید که می‌توانیم سمت چپ معادله را به کمک اتحاد جاق و لاغر

ساده کنیم

$$(t^2)^3 - 1^3 = 2t^3 \Rightarrow (t^3)^2 - 2t^3 - 1 = 0 \quad (*)$$

چون  $\sqrt[3]{x} = t$ ، پس  $x = t^3$ ، در نتیجه معادله (\*) می‌شود  $x^2 - 2x - 1 = 0$ ،

$$\text{که مجموع جواب‌های آن برابر است با } \frac{-(-2)}{1} = 2.$$

**۲۵۵۹- گزینه ۱** **راه حل اول** توجه کنید که چون  $x_1$  و  $x_2$  جواب‌های

معادله  $x^2 + x - 5 = 0$  هستند، پس  $x_1 + x_2 = -1$  و  $x_1x_2 = -5$ . اکنون

می‌توانیم مجموع جواب‌های معادله جدید را به صورت زیر حساب کنیم:

$$S = \frac{1}{(x_1+1)^3} + \frac{1}{(x_2+1)^3} \xrightarrow{\text{مخرج مشترک}} S = \frac{(x_1+1)^3 + (x_2+1)^3}{(x_1+1)^3(x_2+1)^3}$$

از اتحاد  $a^3+b^3=(a+b)^3-3ab(a+b)$  استفاده می‌کنیم و صورت کسر

را به صورت زیر می‌نویسیم:

$$S = \frac{(x_1+1+x_2+1)^3 - 3(x_1+1)(x_2+1)(x_1+1+x_2+1)}{((x_1+1)(x_2+1))^3}$$

$$= \frac{(x_1+x_2+2)^3 - 3(x_1+x_2+x_1x_2+1)(x_1+x_2+2)}{(x_1+x_2+x_1x_2+1)^3}$$

$$= \frac{(-1+2)^3 - 3(-1-5+1)(-1+2)}{(-1-5+1)^3} = \frac{1 - 3(-5)(1)}{(-5)^3} = -\frac{16}{125}$$

چون انتهای کمان  $\alpha$  در ناحیه سوم مثلثاتی است، پس  $\cos \alpha < 0$ ، یعنی

$$\cos \alpha = -\frac{4}{5}$$

$$\sin 2\alpha = \frac{2 \tan \alpha}{1 + \tan^2 \alpha} = \frac{2(\frac{3}{4})}{1 + \frac{9}{16}} = \frac{24}{25}$$

$$\cos 2\alpha = \frac{1 - \tan^2 \alpha}{1 + \tan^2 \alpha} = \frac{1 - \frac{9}{16}}{1 + \frac{9}{16}} = \frac{7}{25}$$

$$\cot 2\alpha = \frac{\cos 2\alpha}{\sin 2\alpha} = \frac{7}{24}$$

$$\frac{\sin 2\alpha - \cos 2\alpha}{\cot 2\alpha} = \frac{\frac{24}{25} - \frac{7}{25}}{\frac{7}{24}} = \frac{17}{175}$$

می‌توان نوشت **گزینه ۳ - ۲۵۶۲**

$$\cos^2 x - \sin^2 x \cos 2x = 1 \Rightarrow 1 - \cos^2 x + \sin^2 x \cos 2x = 0$$

$$\sin^2 x + \sin^2 x \cos 2x = 0 \Rightarrow \sin^2 x (1 + \cos 2x) = 0$$

$$\begin{cases} \sin^2 x = 0 \Rightarrow \sin x = 0 \Rightarrow x = k\pi, k \in \mathbb{Z} \\ \cos 2x = -1 \Rightarrow 2x = (2k+1)\pi \Rightarrow x = \frac{(2k+1)\pi}{2}, k \in \mathbb{Z} \end{cases}$$

برای اینکه جواب‌های واقع در بازه  $[0, 2\pi]$  را پیدا کنیم، جدول زیر را تشکیل می‌دهیم:

k	۰	۱	۲	۳
$k\pi$	۰	$\pi$	$2\pi$	$3\pi$
$\frac{(2k+1)\pi}{2}$	$\frac{\pi}{2}$	$\frac{3\pi}{2}$	$\frac{5\pi}{2}$	$\frac{7\pi}{2}$

از این جدول معلوم می‌شود که جواب‌های مورد نظر  $0, \frac{\pi}{2}, \pi, \frac{3\pi}{2}, 2\pi$  هستند، که تعداد آن‌ها پنج‌تاست.

**گزینه ۱ - ۲۵۶۳** راه‌حل اول ابتدا توجه کنید که  $f(x) = \frac{g(x)}{h(x)}$  که در آن

$$h(x) = \sqrt{x^2 - 1} + 1 \text{ و } g(x) = \log_4(x^2 - x - 2)$$

تابع  $f$ ، دامنه تابع‌های  $g$  و  $h$  را به دست می‌آوریم، از آن‌ها اشتراک می‌گیریم و در آخر

جواب‌های معادله  $h(x) = 0$  را از آن حذف می‌کنیم، یعنی

$$D_f = (D_g \cap D_h) - \{x \mid x \in D_h, h(x) = 0\}$$

برای پیدا کردن دامنه تابع  $g$  باید نامعادله  $x^2 - x - 2 > 0$  را حل کنیم:

$$x^2 - x - 2 > 0 \xrightarrow{\text{اتحاد جمله مشترک}} (x-2)(x+1) > 0 \Rightarrow x < -1 \text{ یا } x > 2$$

پس  $D_g = (-\infty, -1) \cup (2, +\infty)$ . از طرف دیگر، برای پیدا کردن دامنه تابع

$$h \text{ باید نامعادله } x^2 - 1 \geq 0 \Rightarrow x^2 \geq 1 \Rightarrow x \geq 1 \text{ یا } x \leq -1$$

در نتیجه

$$f(x) = 16 \left( \frac{\frac{1}{2} \sin 6x \cos 6x \cos 12x \cos 24x}{\sin 3x} \right)^2$$

به طور مشابه  $\sin 6x \cos 6x = \frac{1}{2} \sin 12x$ ، پس

$$f(x) = 16 \left( \frac{\frac{1}{2} \times \frac{1}{2} \sin 12x \cos 12x \cos 24x}{\sin 3x} \right)^2$$

به طور مشابه با انجام دو مرحله دیگر عبارت را به ساده‌ترین صورت می‌نویسیم.

$$f(x) = 16 \left( \frac{\frac{1}{2} \times \frac{1}{2} \times \frac{1}{2} \sin 24x \cos 24x}{\sin 3x} \right)^2$$

$$= 16 \left( \frac{\frac{1}{2} \times \frac{1}{2} \times \frac{1}{2} \times \frac{1}{2} \sin 48x}{\sin 3x} \right)^2 = \frac{\sin^2 48x}{16 \sin^2 3x}$$

بنابراین

$$f\left(\frac{\pi}{36}\right) = \frac{\sin^2 \frac{48\pi}{36}}{16 \sin^2 \frac{3\pi}{36}} = \frac{\sin^2 \frac{4\pi}{3}}{16 \sin^2 \frac{\pi}{12}} = \frac{\sin^2(\pi + \frac{\pi}{3}) \sin(\pi + \alpha)}{2 \sin^2 \alpha} = -\sin \alpha$$

$$f\left(\frac{\pi}{36}\right) = \frac{(-\sin \frac{\pi}{3})^2}{16(1 - \cos \frac{2\pi}{12})} = \frac{\sin^2 \frac{\pi}{3}}{16(1 - \cos \frac{\pi}{6})} = \frac{(\frac{\sqrt{3}}{2})^2}{16(1 - \frac{\sqrt{3}}{2})} = \frac{3}{4(2 - \sqrt{3})}$$

در نهایت صورت و مخرج را در مزدوج  $2 - \sqrt{3}$ ، یعنی  $2 + \sqrt{3}$  ضرب

می‌کنیم

$$f\left(\frac{\pi}{36}\right) = \frac{3}{36} \times \frac{2 + \sqrt{3}}{16(2 - \sqrt{3})} \times \frac{2 + \sqrt{3}}{2 + \sqrt{3}} = \frac{3(2 + \sqrt{3})}{16(4 - 3)} = \frac{6 + 3\sqrt{3}}{16}$$

**راه‌حل سوم** عبارت  $f(x)$  را به شکل زیر ساده می‌کنیم:

$$f(x) = (2 \cos^2 3x)(2 \cos^2 6x)(2 \cos^2 12x)(2 \cos^2 24x) \\ = (1 + \cos 6x)(1 + \cos 12x)(1 + \cos 24x)(1 + \cos 48x)$$

بنابراین

$$f\left(\frac{\pi}{36}\right) = (1 + \cos \frac{6\pi}{36})(1 + \cos \frac{12\pi}{36})(1 + \cos \frac{24\pi}{36})(1 + \cos \frac{48\pi}{36}) \\ = (1 + \cos \frac{\pi}{6})(1 + \cos \frac{\pi}{3})(1 + \cos \frac{2\pi}{3})(1 + \cos \frac{4\pi}{3}) \\ = (1 + \frac{\sqrt{3}}{2})(1 + \frac{1}{2})(1 - \frac{1}{2})(1 - \frac{1}{2}) = \frac{2 + \sqrt{3}}{2} \times \frac{3}{2} \times \frac{1}{2} \times \frac{1}{2} = \frac{6 + 3\sqrt{3}}{16}$$

**گزینه ۲ - ۲۵۶۱** توجه کنید که

$$\cos(2\alpha - \frac{\pi}{2}) = \sin 2\alpha, \quad \cos(\alpha + \pi) = -\cos \alpha$$

بنابراین عبارت مورد نظر برابر است با  $\frac{\sin 2\alpha - \cos \alpha}{\cot 2\alpha}$ . اکنون مقادیر

$\cos \alpha$  و  $\sin 2\alpha$  را حساب می‌کنیم. چون  $\tan \alpha = \frac{3}{4}$ ، پس می‌توان

نوشت

$$1 + \tan^2 \alpha = \frac{1}{\cos^2 \alpha} \Rightarrow 1 + \frac{9}{16} = \frac{1}{\cos^2 \alpha} \Rightarrow \cos^2 \alpha = \frac{16}{25}$$

توجه کنید که چون  $2y = x^2 \geq 0$ ، پس فقط  $y = 3$  قبول است. در نتیجه

$$x = \sqrt{y+3} - \sqrt{y-3} = \sqrt{6} - \sqrt{0} = \sqrt{6}$$

بنابراین نقطه برخورد منحنی‌ها  $(\sqrt{6}, 3)$  است. که فاصله‌اش از مبدأ برابر است با

$$\sqrt{(\sqrt{6})^2 + 3^2} = \sqrt{6+9} = \sqrt{15}$$

**راه حل دوم** با توجه به ضابطه منحنی  $x = \sqrt{y+3} - \sqrt{y-3}$ ، متوجه

می‌شویم که  $y \geq 3$ . اکنون اگر در ضابطه‌های داده شده قرار دهیم  $y = 3$ ،

برای هر دو به دست می‌آید  $x = \sqrt{6}$ ، یعنی  $(\sqrt{6}, 3)$  نقطه تلاقی دو منحنی

است که فاصله آن از مبدأ مختصات برابر است با  $\sqrt{(\sqrt{6})^2 + 3^2} = \sqrt{15}$ .

**۲۵۶۶- گزینه ۲** در صورت از  $3^x$  و در مخرج از  $2^{x-2}$  فاکتور می‌گیریم:

$$\frac{3^x(1+3+3^2+3^3+3^4+3^5)}{2^{x-2}(1+2+2^2+2^3+2^4+2^5)} = 52 \Rightarrow \frac{3^x \times 364}{2^{x-2} \times 63} = 52$$

$$\frac{3^{x-2} \times 9 \times 52 \times 7}{2^{x-2} \times 9 \times 7} = 52 \Rightarrow \frac{3^{x-2}}{2^{x-2}} = 1 \Rightarrow \left(\frac{3}{2}\right)^{x-2} = 1 = \left(\frac{3}{2}\right)^0 \Rightarrow x-2=0 \Rightarrow x=2$$

**۲۵۶۷- گزینه ۳** ابتدا توجه کنید که انتقال به اندازه  $\frac{\pi}{2}$  در امتداد محور

$x$  در جهت مثبت معادل  $\frac{\pi}{2}$  واحد انتقال به راست و انتقال به اندازه  $\frac{\pi}{2}$  در

امتداد محور  $y$  در جهت منفی معادل  $\frac{\pi}{2}$  واحد فقط یک فاصله انتقال به پایین

است. پس

$$y = 2|\sin x| \xrightarrow{\text{واحد به راست } \frac{\pi}{2}} y = 2\left|\sin\left(x - \frac{\pi}{2}\right)\right|$$

چون که  $\sin\left(x - \frac{\pi}{2}\right) = -\cos x$  پس

$$y = 2|-\cos x| = 2|\cos x| \xrightarrow{\text{واحد به پایین } \frac{3}{2}} y = 2|\cos x| - \frac{3}{2}$$

بنابراین با انجام انتقال‌های خواسته شده، نمودار تابع با ضابطه

$y = 2|\cos x| - \frac{3}{2}$  به دست می‌آید. برای پیدا کردن تعداد نقاط برخورد نمودار

تابع بالا با محور  $x$  در فاصله  $[0, \pi]$ ، باید تعداد جواب‌های معادله

$2|\cos x| - \frac{3}{2} = 0$  را در این فاصله پیدا کنیم. اکنون با استفاده از تعریف تابع

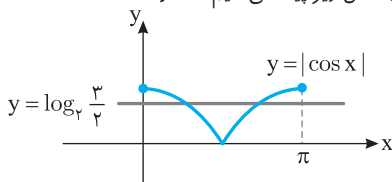
لگاریتم داریم

$$2|\cos x| - \frac{3}{2} = 0 \Rightarrow 2|\cos x| = \frac{3}{2} \Rightarrow |\cos x| = \log_2 \frac{3}{2}$$

توجه کنید که  $2 < \log_2 \frac{3}{2} < 1$ ، پس  $0 < \log_2 \frac{3}{2} < 1$ . اکنون

تعداد نقاط برخورد خط  $y = \log_2 \frac{3}{2}$  و نمودار تابع  $y = |\cos x|$  را روی بازه

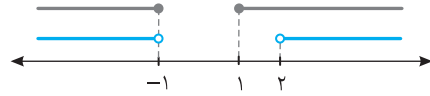
$[0, \pi]$  از روی شکل زیر پیدا می‌کنیم که دوتا است.



پس  $D_h = (-\infty, -1] \cup [1, +\infty)$ . توجه کنید که معادله  $h(x) = 0$

ندارد، زیرا  $\sqrt{x^2 - 1} + 1$  همواره مثبت است. بنابراین

$$D_f = ((-\infty, -1) \cup (2, +\infty)) \cap ((-\infty, -1] \cup [1, +\infty)) = (-\infty, -1) \cup (2, +\infty)$$



**راه حل دوم** توجه کنید که عدد ۳ در دامنه تابع  $f$  است، زیرا

$$f(3) = \frac{\log_4(9-3-2)}{\sqrt{9-1}+1} = \frac{\log_4 4}{\sqrt{8}+1} = \frac{1}{2\sqrt{2}+1}$$

پس گزینه‌های (۲) و (۴) حذف می‌شوند، زیرا ۳ عضو آن‌ها نیست. از طرف دیگر،

چون ۲ عضو مجموعه گزینه (۱) نیست، ولی عضو مجموعه گزینه (۳) است، پس

کافی است ببینیم ۲ در دامنه تابع  $f$  هست یا خیر. توجه کنید که

$$f(2) = \frac{\log_4(4-2-2)}{\sqrt{4-1}+1} = \frac{\log_4 0}{\sqrt{3}+1}$$

چون  $\log_4 0$  تعریف نشده است، پس عدد ۲ در دامنه تابع  $f$  نیست، یعنی

گزینه (۳) نیز حذف می‌شود. بنابراین گزینه (۱) دامنه تابع  $f$  است.

**۲۵۶۴- گزینه ۲** **راه حل اول** چون  $-\frac{1}{2} \leq x < \frac{1}{2}$ ، پس  $-\frac{3}{2} \leq 3x < \frac{3}{2}$

بنابراین

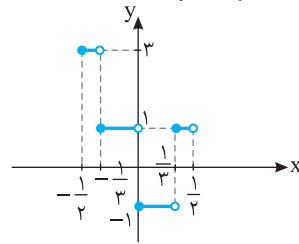
$$-\frac{3}{2} \leq 3x < -1 \Rightarrow [3x] = -2, -\frac{1}{2} \leq x < -\frac{1}{3} \Rightarrow f(x) = 2|-2| - 1 = 3$$

$$-1 \leq 3x < 0 \Rightarrow [3x] = -1, -\frac{1}{3} \leq x < 0 \Rightarrow f(x) = 2|-1| - 1 = 1$$

$$0 \leq 3x < 1 \Rightarrow [3x] = 0, 0 \leq x < \frac{1}{3} \Rightarrow f(x) = 2|0| - 1 = -1$$

$$1 \leq 3x < \frac{3}{2} \Rightarrow [3x] = 1, \frac{1}{3} \leq x < \frac{1}{2} \Rightarrow f(x) = 2|1| - 1 = 1$$

در نتیجه نمودار تابع  $f$  به صورت زیر است:



**راه حل دوم** توجه کنید که اگر  $x \rightarrow 0^-$ ، آن‌گاه  $3x \rightarrow 0^-$ ، پس  $[3x] = -1$ .

در نتیجه  $\lim_{x \rightarrow 0^-} f(x) = \lim_{x \rightarrow 0^-} (2|[3x]| - 1) = 2|-1| - 1 = 1$

همچنین اگر  $x \rightarrow 0^+$ ، آن‌گاه  $3x \rightarrow 0^+$ ، پس  $[3x] = 0$ . در نتیجه

$$\lim_{x \rightarrow 0^+} f(x) = \lim_{x \rightarrow 0^+} (2|[3x]| - 1) = 2|0| - 1 = -1$$

فقط گزینه (۲) این شرایط را دارد.

**۲۵۶۵- گزینه ۴** **راه حل اول** نقطه برخورد منحنی‌ها جواب دستگاه زیر است:

$$\begin{cases} 2y = x^2 \\ x = \sqrt{y+3} - \sqrt{y-3} \end{cases}$$

دو طرف معادله دوم را به توان دو می‌رسانیم و به جای  $x^2$  قرار می‌دهیم

$$x^2 = (\sqrt{y+3} - \sqrt{y-3})^2 \Rightarrow 2y = y+3+y-3-2\sqrt{(y+3)(y-3)}$$

$$2y = 2y - 2\sqrt{y^2 - 9} \Rightarrow -2\sqrt{y^2 - 9} = 0 \Rightarrow y^2 - 9 = 0 \Rightarrow y = \pm 3$$

$$g(f) = f^{-1}(f) - 3 = a \Rightarrow f^{-1}(f) = a + 3$$

$$\xrightarrow{\text{تعریف تابع وارون}} f(a+3) = 2$$

پس

$$2 + \sqrt{a+3-1} = 2 \Rightarrow \sqrt{a+2} = 0 \Rightarrow a = -2$$

توجه کنید که **۳- گزینه ۲۵۷۱**

$$(g \circ f)(x) = g(f(x)) = \begin{cases} 1 & f(x) > 0 \\ 0 & f(x) = 0 \\ -1 & f(x) < 0 \end{cases}$$

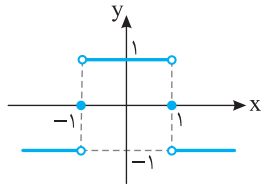
از طرف دیگر، جدول تعیین علامت  $f(x)$  به صورت زیر است:

$x$	$-\infty$	$-1$	$1$	$+\infty$
$1-x^2$		-	+	-

بنابراین

$$(g \circ f)(x) = \begin{cases} 1 & x \in (-1, 1) \\ 0 & x = \pm 1 \\ -1 & x \in (-\infty, -1) \cup (1, +\infty) \end{cases}$$

پس نمودار تابع  $g \circ f$  به صورت زیر است، که در نقاط  $x = \pm 1$  ناپیوسته است.



توجه کنید که **۲- گزینه ۲۵۷۲**

$$f(x) = \begin{cases} \frac{x^2(x^2-4)}{x^2-1} & x^2 \geq 4 \\ \frac{-x^2(x^2-4)}{x^2-1} & x^2 \leq 4, x \neq \pm 1 \end{cases}$$

از طرف دیگر، اگر  $g(x) = \frac{x^2(x^2-4)}{x^2-1} = \frac{x^4-4x^2}{x^2-1}$ ، آن گاه

$$g'(x) = \frac{(4x^3 - 8x)(x^2-1) - (2x)(x^4-4x^2)}{(x^2-1)^2} = \frac{2x((x^2-1)^2 + 3)}{(x^2-1)^2}$$

بنابراین

$$f'(x) = \begin{cases} g'(x) & x > 2 \text{ یا } x < -2 \\ -g'(x) & -2 < x < 2, x \neq \pm 1 \end{cases}$$

توجه کنید که تابع  $f$  در نقطه‌های  $2$  و  $-2$  مشتق پذیر نیست، زیرا این عددها ریشه‌های ساده عبارت داخل قدرمطلق هستند. همچنین،

$$f'(x) = 0 \Rightarrow g'(x) = 0 \Rightarrow x = 0$$

پس نقاط بحرانی تابع  $f$  نقطه‌های  $2$ ،  $-2$  و  $0$  هستند، که مطابق جدول زیر

هر سه طول نقاط اکسترمم نسبی تابع  $f$  هستند ( $x \neq \pm 1$ ):

$x$	$-\infty$	$-2$	$0$	$2$	$+\infty$
$f'(x)$		-	+	-	+

**۲۵۶۸- گزینه ۱** اگر فرض کنیم  $a = \log_x y$ ، آن گاه  $\frac{1}{a} = \log_y x$

بنابراین از تساوی داده شده به دست می‌آید

$$a - 2\left(\frac{1}{a}\right) = 1 \xrightarrow{\times a} a^2 - 2 = a \Rightarrow a^2 - a - 2 = 0$$

به کمک اتحاد جمله مشترک عبارت بالا را تجزیه می‌کنیم

$$(a+1)(a-2) = 0 \Rightarrow a = -1, a = 2$$

چون  $x, y > 1$ ، پس  $a = \log_x y > 0$ ، در نتیجه فقط  $a = 2$  قابل قبول است.

پس

$$\log_x y = 2 \Rightarrow y = x^2$$

**۲۵۶۹- گزینه ۱** راه حل اول اگر  $x \rightarrow \frac{\pi}{6}^-$ ، آن گاه  $\frac{1}{2} \rightarrow \sin x$  و در

نتیجه  $2 \sin x \rightarrow 1^-$ ، پس  $2 \sin x - 1 \rightarrow 0^-$ ، بنابراین  $[2 \sin x - 1] = -1$ .

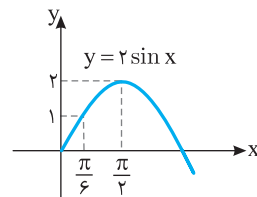
یعنی

$$\lim_{x \rightarrow \frac{\pi}{6}^-} [2 \sin x - 1] = -1$$

راه حل دوم چون به ازای هر عدد حقیقی  $x$  و هر عدد صحیح  $k$ ،

$[x+k] = [x] + k$ ، پس  $[2 \sin x - 1] = [2 \sin x] - 1$ ، اکنون به نمودار تابع

$y = 2 \sin x$  در شکل زیر توجه کنید.



از روی این نمودار معلوم می‌شود که

$$x \rightarrow \frac{\pi}{6}^- \Rightarrow 0 < 2 \sin x < 1 \Rightarrow [2 \sin x] = 0$$

بنابراین

$$\lim_{x \rightarrow \frac{\pi}{6}^-} ([2 \sin x] - 1) = \lim_{x \rightarrow \frac{\pi}{6}^-} (0 - 1) = -1$$

**۲۵۷۰- گزینه ۳** راه حل اول ابتدا توجه کنید که برای به دست آوردن

ضابطه تابع وارون،  $x$  را بر حسب  $y$  به دست می‌آوریم

$$f(x) = y = 2 + \sqrt{x-1} \Rightarrow y-2 = \sqrt{x-1} \xrightarrow{\text{به توان دو}}$$

$$(y-2)^2 = x-1 \Rightarrow x = (y-2)^2 + 1$$

بنابراین  $f^{-1}(x) = (x-2)^2 + 1$ . اگر این نمودار را  $2$  واحد در جهت مثبت

محور  $x$  و سپس  $3$  واحد در جهت منفی محور  $y$  انتقال دهیم، نمودار تابع

$g(x) = f^{-1}(x-2) - 3$  به دست می‌آید. بنابراین

$$g(4) = f^{-1}(4-2) - 3 = f^{-1}(2) - 3 = (2-2)^2 + 1 - 3 = -2$$

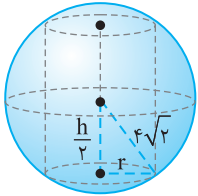
راه حل دوم فریفته نمودار تابع  $f(x) = 2 + \sqrt{x-1}$  نسبت به خط  $y = x$

نمودار تابع  $f^{-1}$  است. بنابراین  $g(x) = f^{-1}(x-2) - 3$ ، قرار می‌دهیم

$g(4) = a$  و از تعریف تابع معکوس استفاده می‌کنیم. در نتیجه

اکنون از تساوی  $b = 2a - 2ak$  و شرط  $b + c = a$  می‌توان نتیجه گرفت  
 $ak^2 + bk + a - b = 2a \Rightarrow ak^2 + (2a - 2ak)k + a - (2a - 2ak) = 2a$   
 $a(k^2 + 2k - 2k^2 + 1 - 2 + 2k) = 2a \xrightarrow{a \neq 0} -k^2 + 4k - 1 = 2$   
 $k^2 - 4k + 3 = 0 \xrightarrow{\text{اتحاد جمله مشترک}} (k-1)(k-3) = 0 \Rightarrow k=1, k=3$

پس بیشترین مقدار  $k$  برابر با ۳ است.



**۲۵۷۶- گزینه ۲** شکل مقابل را ببینید.  
 مساحت جانبی استوانه برابر است با  $S = 2\pi rh$ .  
 از طرف دیگر، بنابر قضیه فیثاغورس،

$$r^2 + \left(\frac{h}{2}\right)^2 = (r\sqrt{2})^2 \Rightarrow r^2 = 3r^2 - \frac{h^2}{4}$$

$$r = \sqrt{3r^2 - \frac{h^2}{4}}$$

$$S = 2\pi \sqrt{3r^2 - \frac{h^2}{4}} \times h = 2\pi \sqrt{\frac{(12r^2 - h^2)h^2}{4}} = \pi \sqrt{-h^4 + 12rh^2}$$

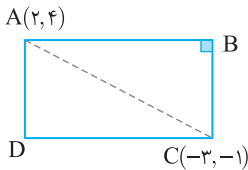
برای اینکه  $S$  ماکزیمم باشد، باید  $-h^4 + 12rh^2$  ماکزیمم باشد. توجه کنید که

$$y = -h^4 + 12rh^2 \Rightarrow y' = -4h^3 + 24rh = 0$$

$$y' = 0 \Rightarrow -4h(h^2 - 6r) = 0 \Rightarrow h^2 = 6r$$

بنابراین ماکزیمم  $S$  به ازای  $h^2 = 6r$  به دست می‌آید، که برابر است با

$$S = \pi \sqrt{-6r^2 + 12r \times 6r} = 6r\pi$$



**۲۵۷۷- گزینه ۳ راه حل اول**

ابتدا معادله خطی را که ضلع  $AB$  روی آن است، می‌نویسیم

$$y - 4 = 3(x - 2) \Rightarrow 3x - y - 2 = 0$$

فاصله نقطه  $C$  از خط به دست آمده برابر است با

$$CB = \frac{|3(-3) - (-1) - 2|}{\sqrt{3^2 + (-1)^2}} = \frac{10}{\sqrt{10}} = \sqrt{10}$$

از طرف دیگر،  $AC = \sqrt{(2+3)^2 + (4+1)^2} = \sqrt{50}$

اکنون با استفاده از قضیه فیثاغورس در مثلث  $ABC$ ، طول  $AB$  را به دست می‌آوریم

$$AB^2 + BC^2 = AC^2 \Rightarrow AB^2 + 10 = 50 \Rightarrow AB = \sqrt{40} = 2\sqrt{10}$$

پس محیط مستطیل برابر است با  $2(\sqrt{10} + 2\sqrt{10}) = 6\sqrt{10}$ .

**راه حل دوم** ابتدا معادلات اضلاع  $AB$  و  $BC$  را می‌نویسیم

$$AB: 3x - y - 2 = 0$$

$$BC \perp AB \Rightarrow m_{BC} = -\frac{1}{m_{AB}} = -\frac{1}{3} \Rightarrow y - (-1) = -\frac{1}{3}(x - (-3))$$

$$BC: x + 3y + 6 = 0$$

محل تلاقی اضلاع  $AB$  و  $BC$  همان نقطه  $B$  است.

$$\begin{cases} 3x - y - 2 = 0 \\ x + 3y + 6 = 0 \end{cases} \Rightarrow B(0, -2)$$

اکنون طول پاره‌خط‌های  $AB$  و  $BC$  را به دست می‌آوریم و سپس محیط مستطیل را محاسبه می‌کنیم.

$$AB = \sqrt{(2-0)^2 + (4+2)^2} = \sqrt{4+36} = \sqrt{40} = 2\sqrt{10}$$

$$BC = \sqrt{(0+3)^2 + (-2+1)^2} = \sqrt{9+1} = \sqrt{10}$$

در نتیجه  $2(AB+BC) = 2(2\sqrt{10} + \sqrt{10}) = 6\sqrt{10}$

**۲۵۷۳- گزینه ۳** اگر مختصات نقطه  $A$  واقع بر سهمی  $f(x) = x^2$

به صورت  $(x, x^2)$  باشد، مختصات نقطه  $A'$ ، یعنی قرینه  $A$  نسبت به

نیمساز نواحی اول و سوم، به صورت  $(x^2, x)$  است. بنابراین

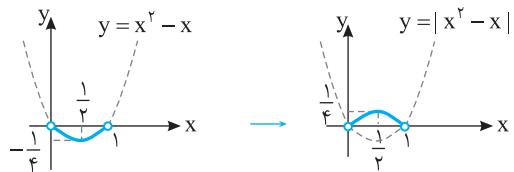
$$AA' = \sqrt{(x-x^2)^2 + (x^2-x)^2} = \sqrt{2(x^2-x)^2} = \sqrt{2}|x^2-x|$$

از طرف دیگر، چون طول نقطه  $A$  بین دو طول متوالی از محل برخورد تابع  $f$  با خط

نیمساز نواحی اول و سوم (خط  $y=x$ )، یعنی نقاط  $(0,0)$  و  $(1,1)$  قرار دارد،

پس باید ماکزیمم  $AA'$  را در بازه  $(0,1)$  پیدا کنیم. برای پیدا کردن ماکزیمم

تابع  $y = |x^2 - x|$  در بازه  $(0,1)$  از روش رسم نمودار تابع استفاده می‌کنیم.



بنابراین بیشترین مقدار  $AA'$  در بازه  $(0,1)$  به ازای  $x = \frac{1}{2}$  به دست می‌آید،

$$AA' = \sqrt{2} \left| \frac{1}{4} - \frac{1}{2} \right| = \sqrt{2} \times \frac{1}{4} = \frac{\sqrt{2}}{4}$$

که برابر می‌شود با

**۲۵۷۴- گزینه ۴** ابتدا توجه کنید که

$$(f \circ g)' \left( \frac{3}{\sqrt{8}} \right) = g' \left( \frac{3}{\sqrt{8}} \right) f' \left( g \left( \frac{3}{\sqrt{8}} \right) \right)$$

توجه کنید که  $g \left( \frac{3}{\sqrt{8}} \right) = \frac{1}{\sqrt{2 \left( \left( \frac{3}{\sqrt{8}} \right)^2 - 1 \right)}} = \frac{1}{\sqrt{2 \left( \frac{9}{8} - 1 \right)}} = 2$  پس باید مقدار

$g' \left( \frac{3}{\sqrt{8}} \right) f'(2)$  را حساب کنیم. مقدار  $g' \left( \frac{3}{\sqrt{8}} \right)$  را به سادگی می‌توان حساب کرد

$$g(x) = (x^2 - 1)^{-\frac{1}{3}} \Rightarrow g'(x) = \left(-\frac{1}{3}\right)(2x)(x^2 - 1)^{-\frac{4}{3} - 1}$$

$$= -\frac{2}{3}x(x^2 - 1)^{-\frac{7}{3}}$$

$$g' \left( \frac{3}{\sqrt{8}} \right) = -\frac{2}{3} \left( \frac{3}{\sqrt{8}} \right) \left( \frac{9}{8} - 1 \right)^{-\frac{7}{3}} = -8\sqrt{2}$$

برای پیدا کردن مقدار  $f'(2)$  ابتدا ضابطه تابع  $f$  را در یک همسایگی نقطه

$x=2$  پیدا می‌کنیم. توجه کنید که

$$x \rightarrow 2 \Rightarrow x^2 \rightarrow 4 \Rightarrow 4 < x^2 + \frac{1}{x} < 5 \Rightarrow \left[ x^2 + \frac{1}{x} \right] = 4$$

در نتیجه  $f(x) = (4x)^2 + 1 = 16x^2 + 1 \Rightarrow f'(x) = 32x \Rightarrow f'(2) = 64$

بنابراین  $(f \circ g)' \left( \frac{3}{\sqrt{8}} \right) = (-8\sqrt{2})(64) = 4(-128\sqrt{2})$

**۲۵۷۵- گزینه ۳** توجه کنید که  $g'(x) = 2ax + b$  و  $g''(x) = 2a$

بنابراین

$$f(x) = \begin{cases} g(x) & x \geq k \\ g'(x) & x < k \end{cases} \Rightarrow f'(x) = \begin{cases} g'(x) & x \geq k \\ g''(x) & x < k \end{cases}$$

چون تابع  $f$  در نقطه  $x=k$  مشتق پذیر است، پس

$$g(k) = g'(k) \Rightarrow ak^2 + bk + c = 2ak + b$$

$$g'(k) = g''(k) \Rightarrow 2ak + b = 2a \Rightarrow b = 2a - 2ak$$

۲۵۸۰- گزینه ۳ فرض می‌کنیم پول اولیه علی  $X$  و پول اولیه اکرم  $Y$  باشد.

در این صورت

$$\begin{cases} x+y=100 \\ (x-10)(y+10)=475 \end{cases}$$

از معادله اول به دست می‌آید  $x=100-y$  و در نتیجه معادله دوم را می‌توان

این‌طور نوشت

$$(100-y-10)(y+10)=475 \Rightarrow (100-(y+10))(y+10)=475$$

$$100(y+10)-(y+10)^2=475 \Rightarrow (y+10)^2-100(y+10)+475=0$$

اگر فرض کنیم  $y+10=A$ ، معادله به صورت زیر درمی‌آید:

$$A^2-100A+475=0$$

از اتحاد جمله مشترک استفاده و سمت چپ معادله را تجزیه می‌کنیم.

$$(A-5)(A-95)=0 \begin{cases} A=5 \Rightarrow y+10=5 \Rightarrow y=-5 \text{ (غ.ق.)} \\ A=95 \Rightarrow y+10=95 \Rightarrow y=85 \text{ تومان} \end{cases}$$

۲۵۸۱- گزینه ۱ راه‌حل اول توجه کنید که چون  $x_1$  و  $x_2$  جواب‌های

معادله  $x^2-x-4=0$  هستند، پس  $x_1+x_2=1$  و  $x_1x_2=-4$  اکنون

می‌توانیم مجموع جواب‌های معادله جدید را به صورت زیر حساب کنیم:

$$S=(x_1^3+\frac{1}{x_2})+(x_2^3+\frac{1}{x_1})=x_1^3+x_2^3+\frac{1}{x_1}+\frac{1}{x_2}$$

با استفاده از اتحاد  $a^3+b^3=(a+b)^3-3ab(a+b)$  و نیز مخرج مشترک

گرفتن، عبارت را به صورت زیر می‌نویسیم:

$$S=(x_1+x_2)^3-3x_1x_2(x_1+x_2)+\frac{x_1+x_2}{x_1x_2}=1-3(-4)(1)+\frac{1}{-4}=\frac{51}{-4}$$

همچنین حاصل ضرب جواب‌های معادله جدید به صورت زیر به دست می‌آید:

$$\begin{aligned} P &= (x_1^3+\frac{1}{x_2})(x_2^3+\frac{1}{x_1})=x_1^3x_2^3+x_1^2+x_2^2+\frac{1}{x_1x_2} \\ &= (x_1x_2)^3+(x_1+x_2)^2-2x_1x_2+\frac{1}{x_1x_2}=(-4)^3+1-2(-4)+\frac{1}{-4} \\ &= -\frac{221}{4} \end{aligned}$$

بنابراین معادله جدید به صورت  $x^2-\frac{51}{4}x-\frac{221}{4}=0$  است، که اگر دو

طرف آن را در ۴ ضرب کنیم، می‌شود  $4x^2-51x-221=0$ .

راه‌حل دوم توجه کنید که

$$\xrightarrow{\times x} x^3=x^2+4x=(x+4)+4x=5x+4$$

$$x=x^2-4 \Rightarrow x^2=x+4$$

بنابراین  $x_1^3=5x_1+4$  و  $x_2^3=5x_2+4$  از طرف دیگر،

$$x_1x_2=-4 \Rightarrow \frac{1}{x_1}=-\frac{x_2}{4}, \quad \frac{1}{x_2}=-\frac{x_1}{4}$$

۲۵۷۸- گزینه ۲ توجه کنید که

$a=h\sqrt{3}$ ، پس  $a=\frac{2}{\sqrt{3}}h$ ، در نتیجه

یعنی  $3a=\frac{3 \times 2h}{\sqrt{3}}=2\sqrt{3}h$

$3a=2\sqrt{3}h$  محیط مثلث. از طرف دیگر،

چون محیط مثلث برابر  $\sqrt{270}$  است، پس

$$2\sqrt{3}h=\sqrt{270} \Rightarrow h=\frac{\sqrt{270}}{2\sqrt{3}}=\frac{3}{2}\sqrt{10}$$

اگر مختصات نقطه  $A$  به صورت  $(a, b)$  باشد، آن‌گاه

$$h=AH=\frac{|3a-b-5|}{\sqrt{3^2+(-1)^2}}=\frac{|3a-b-5|}{\sqrt{10}}=\frac{3}{2}\sqrt{10}$$

$$|3a-b-5|=\frac{3}{2}\sqrt{10} \times \sqrt{10}=15 \quad (*)$$

از طرف دیگر، شیب خطی که ضلع  $BC$  روی آن است، برابر ۳ است. چون

$AH$  بر  $BC$  عمود است، پس شیب خطی که ارتفاع  $AH$  روی آن است، قرینه

معکوس ۳، یعنی برابر  $-\frac{1}{3}$  است. به این ترتیب،

$$\frac{b-1}{a-2}=-\frac{1}{3} \Rightarrow 3b-3=2-a \Rightarrow a=5-3b$$

بنابراین اگر در تساوی (\*) به جای  $a$  قرار دهیم  $5-3b$ ، به دست می‌آید

$$|3(5-3b)-b-5|=15$$

$$|10-10b|=15 \Rightarrow \begin{cases} b=-\frac{1}{2} \Rightarrow a=\frac{13}{2} \\ b=\frac{5}{2} \Rightarrow a=-\frac{5}{2} \end{cases}$$

در نتیجه  $A$  می‌تواند یکی از نقطه‌های  $(-\frac{1}{2}, \frac{13}{2})$  و  $(\frac{5}{2}, -\frac{5}{2})$  باشد.

۲۵۷۹- گزینه ۲ راه‌حل اول با استفاده از اتحاد مزدوج می‌توان نوشت

$$\begin{aligned} (a+\frac{1}{a}+\sqrt{2})^2(a+\frac{1}{a}-\sqrt{2})^2 &= ((a+\frac{1}{a})^2-(\sqrt{2})^2)^2 \\ &= (a^2+\frac{1}{a^2}+2-2)^2 = (a^2+\frac{1}{a^2})^2 = a^4+\frac{1}{a^4}+2 \end{aligned}$$

اکنون توجه کنید که  $a^4=\sqrt[4]{7-4\sqrt{3}} \Rightarrow a^4=7-4\sqrt{3}$

$$\frac{1}{a^4}=\frac{1}{7-4\sqrt{3}} \times \frac{7+4\sqrt{3}}{7+4\sqrt{3}} = \frac{7+4\sqrt{3}}{49-48} = 7+4\sqrt{3}$$

بنابراین عبارت مورد نظر برابر است با

$$a^4+\frac{1}{a^4}+2=(7-4\sqrt{3})+(7+4\sqrt{3})+2=16$$

راه‌حل دوم ابتدا توجه کنید که

$$a=\sqrt[4]{7-4\sqrt{3}}=\sqrt{\sqrt{2-\sqrt{3}}}=\sqrt{2-\sqrt{3}} \Rightarrow a^2=2-\sqrt{3}$$

$$\frac{1}{a^2}=\frac{1}{2-\sqrt{3}} \times \frac{2+\sqrt{3}}{2+\sqrt{3}} = \frac{2+\sqrt{3}}{4-3} = 2+\sqrt{3}$$

بنابراین

$$\begin{aligned} (a+\frac{1}{a}+\sqrt{2})^2(a+\frac{1}{a}-\sqrt{2})^2 &= ((a+\frac{1}{a})^2-(\sqrt{2})^2)^2 = (a^2+\frac{1}{a^2}+2-2)^2 \\ &= (a^2+\frac{1}{a^2})^2 = (2-\sqrt{3}+2+\sqrt{3})^2 = 16 \end{aligned}$$

بنابراین

$$f\left(\frac{\pi}{12}\right) = \frac{\sin^2 \frac{32\pi}{12} - \sin^2 \left(3\pi - \frac{4\pi}{12}\right)}{32 \sin^2 \frac{\pi}{12}} = \frac{\sin^2 \frac{\pi}{3}}{32 \times \frac{1}{4} (1 - \cos \frac{2\pi}{12})}$$

$$= \frac{\frac{3}{4}}{16(1 - \frac{\sqrt{3}}{2})} = \frac{3}{32(2 - \sqrt{3})} = \frac{3(2 + \sqrt{3})}{32(4 - 3)} = \frac{6 + \sqrt{27}}{32}$$

۲۵۸۳- گزینه ۳ توجه کنید که

$$\sin\left(\alpha + \frac{\pi}{2}\right) = \cos \alpha, \quad \sin(\alpha - \pi) = -\sin \alpha$$

از طرف دیگر،  $\sin^2 \alpha = 1 - \cos^2 \alpha = 1 - \frac{4}{9} = \frac{5}{9}$  چون انتهای کمان  $\alpha$  در

ناحیه چهارم مثلثاتی است. پس  $\sin \alpha < 0$ ، یعنی  $\sin \alpha = -\frac{\sqrt{5}}{3}$  در نتیجه

$$\tan \alpha = \frac{\sin \alpha}{\cos \alpha} = \frac{-\frac{\sqrt{5}}{3}}{\frac{2}{3}} = -\frac{\sqrt{5}}{2}$$

بنابراین مقدار عبارت مورد نظر برابر است با

$$\frac{\cos \alpha + \sin \alpha}{|\tan^2 \alpha - 1|} = \frac{\frac{2}{3} - \frac{\sqrt{5}}{3}}{\left|\frac{5}{4} - 1\right|} = \frac{2 - \sqrt{5}}{3} = \frac{4(2 - \sqrt{5})}{3}$$

۲۵۸۴- گزینه ۲ معادله مثلثاتی را به صورت زیر می نویسیم:

$$\Delta \sin^2 x + 2 \cos 3x + 2 = 0 \Rightarrow \Delta \sin^2 x + 2(\cos 3x + 1) = 0$$

$$\Delta \sin^2 x + 2\left(2 \cos^2 \frac{3x}{2}\right) = 0 \Rightarrow \Delta \sin^2 x + 4 \cos^2 \frac{3x}{2} = 0$$

چون  $\Delta \sin^2 x$  و  $4 \cos^2 \frac{3x}{2}$  غیرمنفی اند، پس باید هر دو برابر صفر

باشند. بنابراین جوابهای مشترک معادلههای مثلثاتی  $\sin^2 x = 0$  و

$$\cos^2 \frac{3x}{2} = 0$$

جوابهای معادله مثلثاتی مورد نظر هستند:

$$\sin^2 x = 0 \Rightarrow \sin x = 0 \Rightarrow x = k\pi, k \in \mathbb{Z}$$

$$\cos^2 \frac{3x}{2} = 0 \Rightarrow \cos \frac{3x}{2} = 0 \Rightarrow \frac{3x}{2} = (2k+1)\frac{\pi}{2} \Rightarrow x = (2k+1)\frac{\pi}{3}, k \in \mathbb{Z}$$

برای اینکه جوابهای در بازه  $[-\pi, \pi]$  را پیدا کنیم، جدول زیر را تشکیل می دهیم:

k	-۲	-۱	۰	۱	۲
$k\pi$	$-\pi$	$-\pi$	۰	$\pi$	$\pi$
$(2k+1)\frac{\pi}{3}$	$-\pi$	$-\frac{\pi}{3}$	$\frac{\pi}{3}$	$\pi$	$\frac{5\pi}{3}$

از این جدول معلوم می شود که جوابهای مورد نظر  $x = \pi$  و  $x = -\pi$  هستند که تعداد آنها دوتا است.

اکنون می توانیم مجموع و حاصل ضرب جوابهای معادله جدید را به صورت زیر به دست آوریم:

$$S = \left(x_1^2 + \frac{1}{x_1}\right) + \left(x_2^2 + \frac{1}{x_2}\right) = (\Delta x_1 + 4 - \frac{x_1}{4}) + (\Delta x_2 + 4 - \frac{x_2}{4})$$

$$= \frac{19}{4}(x_1 + x_2) + 8 = \frac{19}{4}(1) + 8 = \frac{51}{4}$$

$$P = \left(x_1^2 + \frac{1}{x_1}\right)\left(x_2^2 + \frac{1}{x_2}\right) = (\Delta x_1 + 4 - \frac{x_1}{4})(\Delta x_2 + 4 - \frac{x_2}{4})$$

$$= \left(\frac{19}{4}x_1 + 4\right)\left(\frac{19}{4}x_2 + 4\right) = \left(\frac{19}{4}\right)^2 x_1 x_2 + 19(x_1 + x_2) + 16 = -\frac{221}{4}$$

بنابراین معادله جدید به صورت زیر است:

$$x^2 - \frac{51}{4}x - \frac{221}{4} = 0 \Rightarrow 4x^2 - 51x - 221 = 0$$

۲۵۸۲- گزینه ۱ راه حل اول می توان نوشت

$$f\left(\frac{\pi}{12}\right) = 32 \cos^2 \frac{\pi}{12} \cos^2 \frac{2\pi}{12} \cos^2 \frac{4\pi}{12} \cos^2 \frac{8\pi}{12} \cos^2 \frac{16\pi}{12}$$

$$= 32 \cos^2 \frac{\pi}{12} \cos^2 \frac{\pi}{6} \cos^2 \frac{\pi}{3} \cos^2 \frac{2\pi}{3} \cos^2 \frac{4\pi}{3}$$

$$= 32 \cos^2 \frac{\pi}{12} \left(\frac{\sqrt{3}}{2}\right)^2 \left(\frac{1}{2}\right)^2 \left(-\frac{1}{2}\right)^2 \left(-\frac{1}{2}\right)^2 = \frac{3}{8} \cos^2 \frac{\pi}{12}$$

اکنون برای اینکه  $\cos^2 \frac{\pi}{12}$  را حساب کنیم، از اتحاد مثلثاتی

$$\cos^2 \alpha = \frac{1}{2}(1 + \cos 2\alpha)$$

بنابراین

$$f\left(\frac{\pi}{12}\right) = \frac{3}{8} \cos^2 \frac{\pi}{12} = \frac{3}{8} \left(\frac{1}{2}(1 + \cos \frac{\pi}{6})\right) = \frac{3}{16} \left(1 + \frac{\sqrt{3}}{2}\right) = \frac{6 + 3\sqrt{3}}{32}$$

$$= \frac{6 + \sqrt{27}}{32}$$

۲۵۸۳- گزینه ۲ راه حل دوم

اکنون عبارت داخل پرانتز را در  $\sin x$  ضرب و تقسیم می کنیم

$$f(x) = 32 \left(\frac{\sin x \cos x \cos 2x \cos 4x \cos 8x \cos 16x}{\sin x}\right)^2$$

از اتحاد مثلثاتی  $\sin x \cos x = \frac{1}{2} \sin 2x$  به دست می آید

$$f(x) = 32 \left(\frac{\frac{1}{2} \sin 2x \cos 2x \cos 4x \cos 8x \cos 16x}{\sin x}\right)^2$$

به طور مشابه  $\sin 2x \cos 2x = \frac{1}{2} \sin 4x$ ، پس

$$f(x) = 32 \left(\frac{\frac{1}{4} \sin 4x \cos 4x \cos 8x \cos 16x}{\sin x}\right)^2$$

به طور مشابه با انجام سه مرحله دیگر عبارت را به ساده ترین صورت می نویسیم.

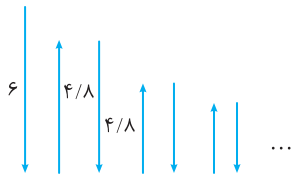
$$f(x) = 32 \left(\frac{\frac{1}{8} \sin 8x \cos 8x \cos 16x}{\sin x}\right)^2 = 32 \left(\frac{1}{16} \frac{\sin 16x \cos 16x}{\sin x}\right)^2$$

$$= 32 \left(\frac{\frac{1}{32} \sin 32x}{\sin x}\right)^2 = \frac{\sin^2 32x}{32 \sin^2 x}$$



توجه کنید که می‌توانیم از  $(\frac{1}{8})^{99}$  صرف نظر کنیم، زیرا عددی بسیار کوچک

است. بنابراین  $S = 6 + 12 \times \frac{1}{8} \times \frac{1}{1 - \frac{1}{8}} = 54$  متر



**۲۵۸۸- گزینه ۱** ابتدا توجه کنید که ۳ واحد انتقال در امتداد محور X در

جهت منفی معادل ۳ واحد انتقال به چپ و ۲ واحد انتقال در امتداد محور Y در

جهت منفی معادل ۲ واحد انتقال به پایین است. اکنون به تبدیلات زیر توجه کنید:

$$y = 2^x + |x| \xrightarrow{\text{۳ واحد به چپ}} y = 2^{x+3} + |x+3|$$

$$\xrightarrow{\text{۲ واحد به پایین}} y = 2^{x+3} + |x+3| - 2$$

بنابراین با انجام انتقال‌های خواسته شده، نمودار تابع با ضابطه

$$y = 2^{x+3} + |x+3| - 2$$

تابع با محور X باید جواب معادله زیر را پیدا کنیم:

$$2^{x+3} + |x+3| - 2 = 0 \Rightarrow 2^{x+3} + |x+3| = 2^1 \Rightarrow x+3 + |x+3| = 1$$

$$|x+3| = -x-2 \Rightarrow \begin{cases} x+3 = -x-2 \Rightarrow x = -\frac{5}{2} \\ -(x+3) = -x-2 \text{ جواب ندارد} \end{cases}$$

**۲۵۸۹- گزینه ۳** راه حل اول مقدار X را برابر ۹ قرار می‌دهیم و معادله را

ساده می‌کنیم.

$$2 \log_a a + \log_a \sqrt{9} = 2 \Rightarrow 2 \log_a a + \log_a 3 = 2$$

$$2x \left( \frac{1}{2} \log_a a \right) + \log_a 3 = 2 \Rightarrow \log_a a + \frac{1}{\log_a a} = 2$$

دو طرف معادله را در  $\log_a a$  ضرب می‌کنیم:

$$(\log_a a)^2 + 1 = 2 \log_a a \Rightarrow (\log_a a)^2 - 2 \log_a a + 1 = 0$$

اکنون با استفاده از اتحاد مربع تفاضل دو جمله می‌توان نوشت

$$(\log_a a - 1)^2 = 0 \Rightarrow \log_a a = 1 \Rightarrow a = 3^1 = 3$$

راه حل دوم می‌توان نوشت

$$2 \log_x a + \log_a \sqrt{x} = 2 \Rightarrow \log_{\frac{1}{x^2}} a + \log_a \sqrt{x} = 2$$

$$\log_{\sqrt{x}} a + \log_a \sqrt{x} = 2 \Rightarrow \log_{\sqrt{x}} a + \frac{1}{\log_{\sqrt{x}} a} = 2$$

چون هر عدد حقیقی و معکوسش هم علامت هستند و مجموع  $\log_{\sqrt{x}} a$  و

معکوسش برابر عددی مثبت است، پس  $\log_{\sqrt{x}} a > 0$ . همچنین، چون

مجموع عدد حقیقی مثبت  $\log_{\sqrt{x}} a$  و معکوسش برابر ۲ است، پس این

عدد برابر ۱ است. بنابراین

$$\log_{\sqrt{x}} a = 1 \xrightarrow{x=9} \log_{\sqrt{9}} a = 1 \Rightarrow \log_3 a = 1 \Rightarrow a = 3^1 = 3$$

**۲۵۸۵- گزینه ۴** راه حل اول باید نامعادله  $|x^2 - 2| - x > 0$  را حل کنیم:

$$|x^2 - 2| - x > 0 \Rightarrow |x^2 - 2| > x$$

توجه کنید که همواره  $|x^2 - 2| \geq 0$ . پس تمام Xهای منفی و نیز  $x = 0$  در این

نامعادله صدق می‌کنند:  $x \in (-\infty, 0]$  (۱)

اکنون فرض می‌کنیم X مثبت باشد. در این صورت

$$|x^2 - 2| > x \Rightarrow \begin{cases} x^2 - 2 > x \Rightarrow x^2 - x - 2 = (x+1)(x-2) > 0 \\ x^2 - 2 < -x \Rightarrow x^2 + x - 2 = (x-1)(x+2) < 0 \end{cases}$$

$$\begin{cases} x - 2 > 0 \\ x - 1 < 0 \end{cases} \Rightarrow \begin{cases} x \in (2, +\infty) & (2) \\ x \in (0, 1) & (3) \end{cases}$$

بنابراین مجموعه جواب‌های نامعادله مورد نظر، یعنی دامنه تابع f برابر اجتماع

جواب‌های (۱)، (۲) و (۳) است:

$$D_f = (-\infty, 0] \cup (0, 1) \cup (2, +\infty) = (-\infty, 1) \cup (2, +\infty)$$

**راه حل دوم** توجه کنید که عدد ۲ در دامنه تابع f نیست، زیرا

$f(2) = \log_4 (|4 - 2| - 2) = \log_4 0$  که تعریف نشده است. بنابراین

گزینه‌های (۲) و (۳) حذف می‌شوند. زیرا عدد ۲ عضو آن‌ها هست. همچنین

عدد صفر در دامنه تابع f هست، زیرا  $f(0) = \log_4 (|0 - 2| - 0) = \log_4 2 = \frac{1}{2}$

بنابراین گزینه (۱) حذف می‌شود. زیرا عدد صفر عضو آن نیست. در نتیجه

گزینه (۴) درست است.

**۲۵۸۶- گزینه ۲** ابتدا نشان می‌دهیم تابع  $f(x) = \sqrt{x+3} - 1$  با دامنه

$$D_f = [-3, +\infty)$$

می‌توان نوشت

$$x_1, x_2 \geq -3: x_1 < x_2 \Rightarrow x_1 + 3 < x_2 + 3 \Rightarrow \sqrt{x_1 + 3} < \sqrt{x_2 + 3}$$

$$\sqrt{x_1 + 3} - 1 < \sqrt{x_2 + 3} - 1 \Rightarrow f(x_1) < f(x_2)$$

چون تابع f اکیداً صعودی است، پس نمودار تابع f نمودار تابع وارون خود را

روی خط  $y = x$  قطع می‌کند. در نتیجه باید معادله  $\sqrt{x+3} - 1 = x$  را حل

کنیم تا طول نقطه M به دست بیاید:

$$\sqrt{x+3} - 1 = x \Rightarrow \sqrt{x+3} = x+1 \xrightarrow{\text{دو طرف را به توان ۲ می‌رسانیم}}$$

$$x+3 = (x+1)^2 \Rightarrow x+3 = x^2 + 2x+1 \Rightarrow x^2 + x - 2 = 0$$

$$\xrightarrow{\text{اتحاد جمله مشترک}} (x-1)(x+2) = 0 \Rightarrow x = 1, x = -2$$

توجه کنید که  $x = -2$  در معادله مورد نظر صدق نمی‌کند. بنابراین  $x = 1$  و

عرض نقطه M برابر است با  $f(1) = \sqrt{1+3} - 1 = 2 - 1 = 1$

در نتیجه فاصله نقطه M از مبدأ مختصات برابر است با  $OM = \sqrt{1^2 + 1^2} = \sqrt{2}$ .

**۲۵۸۷- گزینه ۱** توجه کنید که هر بار که توپ بالا می‌رود، به همان اندازه

هم پایین می‌آید. بنابراین مجموع مورد نظر برابر است با

$$S = 6 + 2 \left( \frac{1}{8} \times 6 + \left( \frac{1}{8} \right)^2 \times 6 + \dots + \left( \frac{1}{8} \right)^{99} \times 6 \right)$$

$$= 6 + 2 \times 6 \left( \frac{1}{8} + \left( \frac{1}{8} \right)^2 + \dots + \left( \frac{1}{8} \right)^{99} \right)$$

عبارت داخل پرانتز مجموع ۹۹ جمله نخست یک دنباله هندسی با جمله اول

$a_1 = \frac{1}{8}$  و قدرنسبت  $q = \frac{1}{8}$  است. بنابراین

$$S = 6 + 12 \times \frac{1}{8} \times \frac{\left( \frac{1}{8} \right)^{99} - 1}{\frac{1}{8} - 1}$$

۲۵۹۲- گزینه ۱ توجه کنید که

$$(f \circ g)(x) = f(g(x)) = \begin{cases} f(1) = 0 & x > 0 \\ f(0) = 0 & x = 0 \\ f(-1) = 0 & x < 0 \end{cases}$$

بنابراین  $(f \circ g)(x) = 0$ . در نتیجه

$$((f \circ g) \circ g)(x) = (f \circ (f \circ g))(x) = f((f \circ g)(x)) = f(0) = 0$$

یعنی  $(f \circ g) \circ g$  تابع ثابت صفر است. پس نقطه ناپیوستگی ندارد.

۲۵۹۳- گزینه ۲ ابتدا توجه کنید که مطابق جدول تعیین علامت زیر،

عبارت  $3-x^2$  روی بازه  $[-1/5, \sqrt{3}]$  نامنفی است.

x	$-\infty$	$-\sqrt{3}$	$-1/5$	$\sqrt{3}$	$+\infty$
$3-x^2$		-	+	-	

بنابراین  $|3-x^2| = 3-x^2$  و در نتیجه  $f(x) = x(3-x^2) = 3x-x^3$

چون تابع  $f$  در هر نقطه از بازه  $(-1/5, \sqrt{3})$  مشتق پذیر است، پس طول‌های نقاط بحرانی آن در این بازه از حل معادله  $f'(x) = 0$  به دست می‌آیند. اکنون

توجه کنید که

$$f'(x) = 3-3x^2 = 3(1-x^2), \quad f'(x) = 0 \Rightarrow 1-x^2 = 0 \Rightarrow x = \pm 1$$

بنابراین باید مقادیر  $f(\pm 1)$ ،  $f(-1/5)$  و  $f(\sqrt{3})$  را با هم مقایسه کنیم:

$$f(1) = 2, \quad f(-1) = -2, \quad f(-1/5) = -\frac{9}{8}, \quad f(\sqrt{3}) = 0$$

در نتیجه مینیمم مطلق تابع  $f$  برابر است با  $f(-1) = -2$  (توجه کنید که چون مقادیر  $f$  به ازای عددهای مثبت، مثبت‌اند، پس کافی بود مقادیر تابع  $f$  را فقط برای عددهای منفی حساب می‌کردیم).

۲۵۹۴- گزینه ۲ اگر  $A$  نقطه  $(x, \sqrt[3]{-x})$ ، یعنی نقطه  $(x, -\sqrt[3]{x})$

باشد، آن‌گاه  $A'$ ، یعنی قرینه  $A$  نسبت به نیمساز نواحی دوم و چهارم نقطه  $(\sqrt[3]{x}, -x)$  است. بنابراین

$$AA' = \sqrt{(x-\sqrt[3]{x})^2 + (-\sqrt[3]{x}+x)^2} = \sqrt{2(x-\sqrt[3]{x})^2} = \sqrt{2}|x-\sqrt[3]{x}|$$

چون  $x \in [0, 1]$ ، پس  $x \leq \sqrt[3]{x}$  و در نتیجه  $AA' = \sqrt{2}(\sqrt[3]{x}-x)$ . بنابراین

باید ماکزیمم مطلق تابع  $g(x) = \sqrt{2}(\sqrt[3]{x}-x)$  را روی بازه  $[0, 1]$  پیدا کنیم.

توجه کنید که

$$g'(x) = \sqrt{2} \left( \frac{1}{3\sqrt[3]{x^2}} - 1 \right)$$

$$g'(x) = 0 \Rightarrow \frac{1}{3\sqrt[3]{x^2}} - 1 = 0 \Rightarrow \sqrt[3]{x^2} = \frac{1}{3} \Rightarrow x = \frac{1}{\sqrt{27}} = \frac{1}{3\sqrt{3}}$$

چون  $g(1) = g(0) = 0$ ، پس ماکزیمم مطلق تابع  $g$  به ازای  $x = \frac{1}{3\sqrt{3}}$  به دست

می‌آید و برابر است با (توجه کنید که  $\sqrt[3]{x^2} = \frac{1}{3}$ ، پس  $\sqrt[3]{x} = \frac{1}{\sqrt{3}}$ )

$$g\left(\frac{1}{3\sqrt{3}}\right) = \sqrt{2} \left( \frac{1}{\sqrt{3}} - \frac{1}{3\sqrt{3}} \right) = \sqrt{2} \times \frac{2}{3\sqrt{3}} = \frac{2\sqrt{2}}{3\sqrt{3}}$$

۲۵۹۰- گزینه ۳ راه حل اول چون خط  $x=2$  محور تقارن سهمی است و

سهمی از نقطه  $(0, 0)$  می‌گذرد، پس سهمی از نقطه  $(4, 0)$  نیز می‌گذرد.

بنابراین معادله سهمی به صورت  $y = a(x-0)(x-4)$  یا  $y = ax(x-4)$  است. چون این سهمی از نقطه  $(2, 1)$  نیز می‌گذرد، پس مختصات این نقطه

در معادله سهمی صدق می‌کنند. بنابراین

$$1 = a \times 2(2-4) \Rightarrow a = -\frac{1}{4}$$

در نتیجه  $f(x) = -\frac{1}{4}x(x-4)$ ، از طرف دیگر، چون خط راست مورد نظر از

نقطه‌های  $(0, 1)$  و  $(4, 0)$  می‌گذرد، معادله آن به صورت زیر است:

$$y - 0 = \frac{0-1}{4-0}(x-4) \Rightarrow y = -\frac{1}{4}(x-4)$$

بنابراین  $g(x) = -\frac{1}{4}(x-4)$ . اکنون توجه کنید که

$$\begin{aligned} \lim_{x \rightarrow 4^-} \frac{f(x)+g(x)}{4-x} &= \lim_{x \rightarrow 4^-} \frac{-\frac{1}{4}x(x-4) - \frac{1}{4}(x-4)}{4-x} \\ &= \lim_{x \rightarrow 4^-} \frac{-\frac{1}{4}(x-4)(x+1)}{-(x-4)} = \lim_{x \rightarrow 4^-} \frac{x+1}{4} = \frac{5}{4} \end{aligned}$$

راه حل دوم چون  $f(4) = g(4) = 0$ ، پس حد مورد نظر را می‌توان به صورت

زیر نوشت:

$$\begin{aligned} \lim_{x \rightarrow 4^-} \frac{f(x)+g(x)}{4-x} &= - \lim_{x \rightarrow 4^-} \frac{(f(x)-f(4))+(g(x)-g(4))}{x-4} \\ &= - \left( \lim_{x \rightarrow 4^-} \frac{f(x)-f(4)}{x-4} + \lim_{x \rightarrow 4^-} \frac{g(x)-g(4)}{x-4} \right) = -(f'_-(4) + g'_-(4)) \end{aligned}$$

از طرف دیگر، سهمی  $f$  و خط راست  $g$  همه‌جا مشتق پذیرند. پس مقدار حد مورد نظر برابر است با  $-(f'(4) + g'(4))$ . اکنون توجه کنید که

$$f(x) = -\frac{1}{4}x(x-4) = -\frac{1}{4}x^2 + x \Rightarrow f'(x) = -\frac{1}{2}x + 1 \Rightarrow f'(4) = -1$$

$$g'(4) = m = -\frac{1}{4}$$

در نتیجه مقدار حد مورد نظر برابر است با  $-(-1 - \frac{1}{4}) = \frac{5}{4}$ .

۲۵۹۱- گزینه ۱ ابتدا ضابطه تابع  $f^{-1}$  را پیدا می‌کنیم. برای این کار  $x$  را

بر حسب  $y$  به دست می‌آوریم:

$$y = \frac{\sqrt{x+1}}{\sqrt{x-1}} \Rightarrow \sqrt{x+1} = y\sqrt{x-1} \Rightarrow \sqrt{x-y}\sqrt{x} = -y-1$$

$$\sqrt{x}(1-y) = -(y+1) \Rightarrow \sqrt{x} = \frac{y+1}{y-1} \Rightarrow x = \left(\frac{y+1}{y-1}\right)^2$$

بنابراین  $f^{-1}(x) = \left(\frac{x+1}{x-1}\right)^2$ . به این ترتیب

$$(f^{-1})'(x) = 2\left(\frac{x+1}{x-1}\right) \left(\frac{-2}{(x-1)^2}\right) = \frac{-4(x+1)}{(x-1)^3}$$

$$\text{شیب خط مماس} = (f^{-1})'(2) = \frac{-4(2+1)}{(2-1)^3} = -12$$

طول نقطه‌های برخورد این خط و سهمی داده شده، یعنی A و B جواب‌های معادله زیر هستند:

$$\begin{aligned} -x^2 + 2x + 1 = x - 1 &\Rightarrow x^2 - x - 2 = 0 \xrightarrow{\text{اتحاد جمله مشترک}} \\ (x+1)(x-2) = 0 &\Rightarrow x_A = 2, x_B = -1 \end{aligned}$$

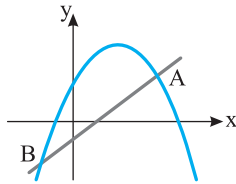
چون این نقطه‌ها روی خط  $y = x - 1$  هستند، پس عرض آن‌ها برابر است با  $A(2, 1)$  و  $B(-1, -2)$  و  $y_B = -1 - 1 = -2$  و  $y_A = 2 - 1 = 1$

و  $B(-1, -2)$  هستند که نقطه وسط آن‌ها  $M(\frac{2-1}{2}, \frac{1-2}{2})$ ، یعنی

$M(\frac{1}{2}, -\frac{1}{2})$  است. از طرف دیگر، رأس سهمی  $y = -x^2 + 2x + 1$  نقطه

$(1, 2)$  است. بنابراین فاصله مورد نظر برابر است با

$$\sqrt{(1-\frac{1}{2})^2 + (2+\frac{1}{2})^2} = \frac{\sqrt{26}}{2} \text{ پس این فاصله } \frac{1}{2} \text{ برابر } \sqrt{26} \text{ است.}$$



**۲۵۹۹- گزینه ۲** فرض کنید مختصات نقطه A به صورت  $(a, b)$  باشد.

چون مثلث ABC متساوی‌الساقین است، پس میانه AM ارتفاع نیز هست.

یعنی خط AM بر خط BC عمود است. اما شیب خط BC برابر  $m_{BC} = -\frac{1}{2}$

است و شیب خط AM برابر  $m_{AM} = \frac{b-2}{a-3}$  است. اکنون می‌توان نوشت

$$\begin{aligned} BC \perp AM &\Rightarrow m_{BC} \times m_{AM} = -1 \\ -\frac{1}{2} \times \frac{b-2}{a-3} = -1 &\Rightarrow b-2 = 2(a-3) \Rightarrow b = 2a-4 \end{aligned}$$

از طرف دیگر، فاصله نقطه A از خط BC برابر با  $5\sqrt{5}$  است. بنابراین

$$\frac{|a+2b-7|}{\sqrt{1^2+2^2}} = 5\sqrt{5} \xrightarrow{b=2a-4} \frac{|a+2a-8-7|}{\sqrt{5}} = 5\sqrt{5}$$

$$|5a-15| = 25 \Rightarrow \begin{cases} 5a-15=25 \\ 5a-15=-25 \end{cases} \Rightarrow \begin{cases} a=8 \\ a=-2 \end{cases}$$

در نتیجه طول نقطه A هرکدام از دو مقدار ۸ و -۲ می‌تواند باشد که با توجه به گزینه‌ها،  $a = -2$  درست است.

**۲۵۹۵- گزینه ۴** ابتدا توجه کنید که وقتی  $x \rightarrow (\frac{\sqrt{5}}{2})^-$ ، آن‌گاه

$g(x) \rightarrow 2^+$  پس در یک همسایگی چپ  $x = \frac{\sqrt{5}}{2}$ ، ضابطه تابع f به صورت

$f(x) = (2x)^3$  است، اکنون می‌توان نوشت

$$(f \circ g)'_-(\frac{\sqrt{5}}{2}) = g'_-(\frac{\sqrt{5}}{2}) f'_+(g(\frac{\sqrt{5}}{2})) = g'_-(\frac{\sqrt{5}}{2}) f'_+(2)$$

مقدار  $g'_-(\frac{\sqrt{5}}{2})$  را به سادگی می‌توان حساب کرد

$$\begin{aligned} g(x) &= (x^2-1)^{-\frac{1}{2}} \Rightarrow g'(x) = -\frac{1}{2}(2x)(x^2-1)^{-\frac{3}{2}} = \frac{-x}{\sqrt{(x^2-1)^3}} \\ g'_-(\frac{\sqrt{5}}{2}) &= \frac{-\frac{\sqrt{5}}{2}}{(\frac{1}{2})^3} = -4\sqrt{5} \end{aligned}$$

از طرف دیگر،

$$f(x) = (2x)^3 = 8x^3 \Rightarrow f'(x) = 24x^2 \Rightarrow f'_+(2) = 96$$

پس

$$(f \circ g)'_-(\frac{\sqrt{5}}{2}) = (-4\sqrt{5}) \times 96 = (-48\sqrt{5})(8)$$

یعنی  $(f \circ g)'_-(\frac{\sqrt{5}}{2})$  هشت برابر  $-48\sqrt{5}$  است.

**۲۵۹۶- گزینه ۱** توجه کنید که  $g'(x) = 2ax + 5$  و  $g''(x) = 2a$

بنابراین

$$f(x) = \begin{cases} g(x) & x \leq 2 \\ g'(x) & x > 2 \end{cases} \Rightarrow f'(x) = \begin{cases} g'(x) & x \leq 2 \\ g''(x) & x > 2 \end{cases}$$

چون تابع f در نقطه  $x = 2$  مشتق‌پذیر است، پس

$$\begin{aligned} g(2) = g'(2) &\Rightarrow 4a + 1 + b = 4a + 5 \Rightarrow b = -5 \\ g'(2) = g''(2) &\Rightarrow 4a + 5 = 2a \Rightarrow a = -\frac{5}{2} \Rightarrow a + b = -\frac{15}{2} \end{aligned}$$

**۲۵۹۷- گزینه ۳** هر نقطه روی سهمی  $y^2 = 4x$  به صورت  $A(\frac{t^2}{4}, t)$

است. فاصله نقطه A از نقطه  $M(3, 0)$  برابر است با

$$\begin{aligned} AM &= \sqrt{(\frac{t^2}{4}-3)^2 + (t-0)^2} = \sqrt{\frac{t^4}{16} - \frac{3}{2}t^2 + 9 + t^2} \\ &= \sqrt{\frac{t^4 - 8t^2 + 144}{16}} = \frac{1}{4}\sqrt{(t^2-4)^2 + 128} \end{aligned}$$

بنابراین کمترین مقدار AM به ازای  $t^2 = 4$  به دست می‌آید و برابر است با

$$\frac{1}{4}\sqrt{128} = 2\sqrt{2}$$

**۲۵۹۸- گزینه ۴** ابتدا توجه کنید که چون عرض از مبدأ خط مورد نظر

برابر -۱ است، پس این خط از نقطه  $(0, -1)$  می‌گذرد. بنابراین معادله این

خط به صورت زیر است:

$$y - 0 = \frac{0+1}{1-0}(x-1) \Rightarrow y = x - 1$$