

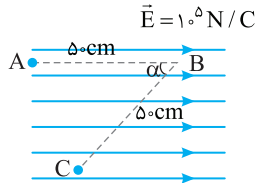
پاسخ پرسش‌های چهارگزینه‌ای کنکور ۱۴۰۱

درصد تغییرات نیروی الکتریکی خواهد شد:

$$\frac{\Delta F}{F_1} \times 100 = \frac{0.7F_1 - F_1}{F_1} \times 100 = -30\%$$

۱ ۶ B

**یادآوری** تغییر انرژی پتانسیل الکتریکی یک بار در میدان الکتریکی برابر قرینه کار نیروی میدان وارد بر بار است.



$$\Delta U_E = -W_E \Rightarrow \Delta U_E = -F_E d \cos \alpha$$

$$\xrightarrow{F_E = qE} \Delta U_E = -qEd \cos \alpha$$

۱ تغییر انرژی پتانسیل از A تا B را حساب می‌کنیم:

$$\Delta U_{E_{AB}} = -(-5 \times 10^{-6}) \times 10^5 \times 0.05 \Rightarrow \Delta U_{E_{AB}} = 0.25 \text{ J}$$

۲ تغییر انرژی پتانسیل از B تا C را به دست می‌آوریم:

$$\Delta U_{E_{BC}} = -(-5 \times 10^{-6}) \times 10^5 \times 0.05 \times (-0.6) \Rightarrow \Delta U_{E_{BC}} = -0.15 \text{ J}$$

۳ تغییر انرژی پتانسیل الکتریکی در کل مسیر ABC خواهد شد:

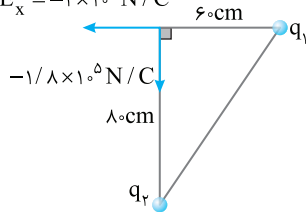
$$\Delta U_{E_{ABC}} = +0.25 - 0.15 = +0.1 \text{ J}$$

بنابراین انرژی پتانسیل الکتریکی بار ۱J افزایش می‌یابد.

۴ ۷ B

هر یک از مؤلفه‌های میدان الکتریکی  $\vec{E} = -2 \times 10^5 \vec{i} - 1/\sqrt{2} \times 10^5 \vec{j}$  یکی از بارها است.

$$E_x = -2 \times 10^5 \text{ N/C}$$



$$E_x = -2 \times 10^5 \text{ N/C}$$

میدان الکتریکی حاصل از بار  $q_1$

است و چون میدان به سوی خارج بار است این بار مثبت است.

$$E = k \frac{|q|}{r^2} \Rightarrow 2 \times 10^5 = 9 \times 10^9 \frac{|q_1|}{(0.6)^2} \Rightarrow q_1 = +8 \mu\text{C}$$

مؤلفه  $E_y = -1/\sqrt{2} \times 10^5 \text{ N/C}$  میدان الکتریکی حاصل از بار  $q_2$  بوده و چون میدان به سوی بار است، بار  $q_2$  منفی است.

$$E = k \frac{|q|}{r^2} \Rightarrow 1/\sqrt{2} \times 10^5 = 9 \times 10^9 \frac{|q_2|}{(0.8)^2} \rightarrow$$

$$q_2 = -12/\sqrt{2} \times 10^{-6} \text{ C} \Rightarrow q_2 = -12/\sqrt{2} \mu\text{C}$$

۲ ۸ B

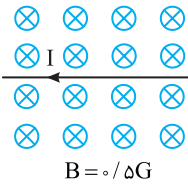
**خط فکری** ولتاژ دو سر خازن با عایق و انرژی ذخیره شده در خازن در این حالت داده شده است بنابراین با استفاده از رابطه  $U = \frac{1}{2} CV^2$  ظرفیت خازن با عایق را به دست آورده سپس ثابت دی‌الکتریک را حساب می‌کنیم.

۱ ظرفیت خازن با دی‌الکتریک خواهد شد:

$$U = \frac{1}{2} CV^2 \xrightarrow{\frac{U=2 \times 10^{-2} \text{ J}}{V=2 \text{ V}}} 2 \times 10^{-2} = \frac{1}{2} C \times 4 \Rightarrow$$

$$\Rightarrow C = 1 \times 10^{-6} \text{ F} \Rightarrow C = 1 \mu\text{F}$$

۴ ۱ B



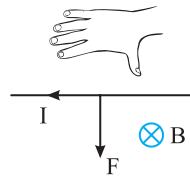
۱ اندازه نیروی مغناطیسی از رابطه  $F = IlB \sin \alpha$  به دست می‌آید.  $\alpha$  زاویه بین B و I است.

**یادآوری** هر گاوس برابر  $10^{-4}$  تسلا است.

$$B = 0.5 \text{ G}$$

$$F = IlB \sin \alpha \xrightarrow{\alpha=90^\circ, l=r/fm} I = r/fm$$

$$F = 2/5 \times 2/4 \times (0.5 \times 10^{-4}) \Rightarrow F = 3 \times 10^{-4} \text{ N}$$

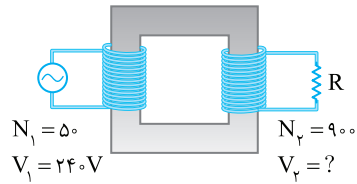


۲ برای به دست آوردن جهت، چهار انگشت دست راست را در جهت جریان می‌گیریم به طوری که کف دست در جهت میدان مغناطیسی درون شود باشد، در این حالت شست دست راست جهت نیرو را مشخص می‌کند، بنابراین نیرو به سمت پایین است.

۴ ۲

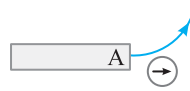
در یک مبدل تعداد دور با ولتاژ دو سر مبدل رابطه مستقیم دارد:

$$\frac{V_p}{N_p} = \frac{N_p}{N_1} \Rightarrow \frac{V_p}{240} = \frac{90}{50} \Rightarrow V_p = 432 \text{ V}$$

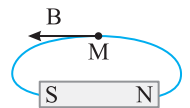


۴ ۳ A

**نکته** عقربه مغناطیسی جهت میدان در یک نقطه را نشان می‌دهد.



۱ با توجه به شکل جهت میدان مغناطیسی اطراف A با توجه به عقربه مغناطیسی به گونه‌ای است که خط میدان از قطب A خارج می‌شود و این قطب همان N است:



۲ میدان مغناطیسی در هر نقطه بر خط میدان مماس است:

۲ ۴ A


معادله جریان متناوب برابر  $I = I_{\max} \sin \frac{\pi}{T} t$  است:

$$\begin{cases} I_{\max} = 2 \text{ A} \\ T = 0.2 \text{ s} \end{cases} \Rightarrow I = 2 \sin \frac{\pi}{0.2} t \Rightarrow I = 2 \sin 10\pi t$$

۲ ۵ A

فاصله بین دو بار ۲۰٪ افزایش یافته بنابراین:  $r_2 = r_1 + 0.2r_1 \Rightarrow r_2 = 1.2r_1$  قانون کولن را در دو حالت نوشته و بر هم تقسیم می‌کنیم:

$$\frac{F_2}{F_1} = \frac{k \frac{|q_1||q_2|}{r_2^2}}{k \frac{|q_1||q_2|}{r_1^2}} \Rightarrow \frac{F_2}{F_1} = \left(\frac{r_1}{r_2}\right)^2 = \frac{1}{1.44} \Rightarrow F_2 = 0.7F_1$$

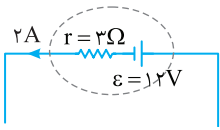


۴ ۱۲ A

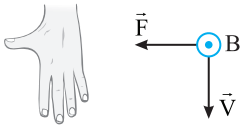
توان ورودی به باتری از رابطه زیر به دست می آید:

$$P = \varepsilon I + I^2 r \Rightarrow P = 12 \times 2 + 2(2)^2$$

$$\Rightarrow P = 24 + 12 \Rightarrow P = 36 \text{ W}$$



۳ ۱۳ A



با توجه به قاعده دست راست، چهار انگشت باز دست راست را در جهت  $V$  رو به پایین گرفته به صورتی که انگشت باز شست دست جهت نیرو به سمت چپ را نشان دهد در این صورت

کف دست شما رو به بیرون صفحه کاغذ بوده و جهت میدان را نشان می دهد یعنی میدان مغناطیسی برنوسو است اما بار ذره منفی بوده (بار الکترون) پس جهت به دست آمده با قاعده دست راست را وارون کرده و جهت میدان مغناطیسی درونسو می شود.

۱ ۱۴ B

خط نگر

برای حل این تست باید تک تک گزینه ها بررسی شود و اگر شانس بیاوریم گزینه (۱) درست باشد و دیگر نیازی به بررسی بقیه گزینه ها نیست. برای بررسی هر گزینه باید یک رابطه ریاضی که در آن کمیت مورد نظر وجود دارد را به کار ببرید.

برای میدان مغناطیسی استفاده از رابطه نیروی وارد بر سیم حامل جریان در میدان مغناطیسی بهترین انتخاب است.

$$F = I l B \sin \theta$$

یکای فرعی نیرو  $\text{kgm/s}^2$ ، یکای جریان آمپر (A) یکای طول (m) و نسبت های مثلثاتی یکا ندارند از این رو:

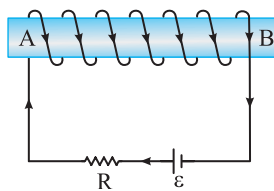
$$\text{kgm/s}^2 = A \cdot m [B] \Rightarrow [B] = \frac{\text{kg}}{\text{As}^2}$$

بنابراین نیازی به بررسی گزینه های دیگر نیست.

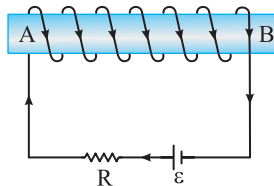
۲ ۱۵ A

نکته

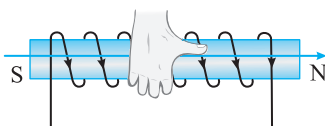
سوی جریان در مدار خارجی یک باتری از پایانه مثبت به سوی پایانه منفی است.



جهت جریان را مشخص می کنیم جریان ساعتگرد است.



با توجه قاعده دست راست جهت میدان درون سیملوله را مشخص می کنیم، چهار انگشت دست راست را در سوی جریان سیملوله می چرخانیم، در این حالت انگشت باز شست دست راست جهت راست را نشان می دهد که جهت میدان مغناطیسی است و قطب N نیز در همین سمت است.



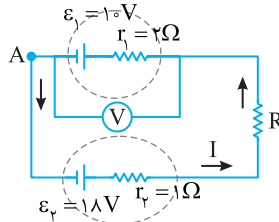
۲ به کمک رابطه ساختمانی ظرفیت خازن،  $K$  را حساب می کنیم:

$$\begin{cases} C = \kappa \varepsilon_0 \frac{A}{d} \\ C_0 = \varepsilon_0 \frac{A}{d} \end{cases} \Rightarrow \frac{C}{C_0} = \kappa \Rightarrow \kappa = \frac{10}{5} = 2$$

۳ ۹ B

خط نگر

به مدار نگاه کنید. نیروی محرکه باتری  $\varepsilon_1$  از نیروی محرکه باتری  $\varepsilon_2$  بیشتر است و جریان دو باتری ناهمسو هستند نتیجه می گیریم باتری  $\varepsilon_2$  مولد و باتری  $\varepsilon_1$  مصرف کننده است. وقتی باتری مصرف کننده است،



ولتاژ دو سر آن  $V_1 = \varepsilon_1 + I r_1$  خواهد شد بنابراین ابتدا جریان مدار را به کمک ولتاژ دو سر باتری  $\varepsilon_1$  به دست می آوریم سپس اختلاف پتانسیل دو سر آن را حساب می کنیم.

۱ ولتاژ دو سر باتری  $\varepsilon_1$ ،  $14 \text{ V}$  است بنابراین:

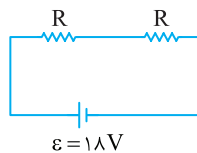
$$V_1 = \varepsilon_1 + I r_1 \Rightarrow 14 = 10 + I \times 2 \Rightarrow I = 2 \text{ A}$$

۲ از نقطه A در جهت جریان قدم می زنیم:

$$V_A + \varepsilon_2 - I r_2 - V_R - 14 = V_A \Rightarrow 18 - 2 - V_R - 14 = 0 \Rightarrow V_R = 2 \text{ V}$$

۴ ۱۰ B

وقتی کلید باز است در مدار دو مقاومت وجود دارد و توان مصرفی مدار خواهد شد:



$$P_1 = \frac{\varepsilon^2}{2R} \Rightarrow P_1 = \frac{(18)^2}{2R} = \frac{9 \times 18}{R}$$

وقتی کلید بسته می شود مقاومت معادل مدار خواهد شد:

$$R_{eq} = R + \frac{R}{2} = \frac{3R}{2}$$

توان در این حالت را به دست می آوریم:

$$P_2 = \frac{\varepsilon^2}{\frac{3R}{2}} \Rightarrow P_2 = \frac{2\varepsilon^2}{3R} \Rightarrow P_2 = \frac{2 \times 18 \times 18}{3R} \Rightarrow P_2 = \frac{12 \times 18}{R}$$

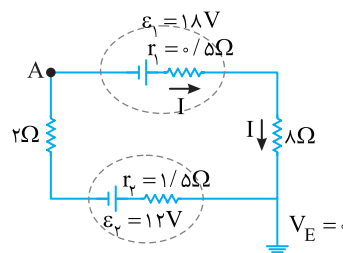
بنا به فرض مسئله اختلاف توان ها برابر  $9 \text{ W}$  است از این رو خواهیم داشت:

$$P_2 - P_1 = 9 \Rightarrow \frac{12 \times 18}{R} - \frac{9 \times 18}{R} = 9$$

$$\Rightarrow \frac{12-9}{R} \times 18 = 9 \Rightarrow (12-9) \times 2 = R \Rightarrow R = 6 \Omega$$

۲ ۱۱ B

از مقایسه  $\varepsilon_1$  و  $\varepsilon_2$  مشخص می شود که  $\varepsilon_1 > \varepsilon_2$  بوده و جریان مدار ساعتگرد است. در این حالت  $\varepsilon_1$  مولد و  $\varepsilon_2$  مصرف کننده است و جریان مدار خواهد شد:




$$I = \frac{\varepsilon_1 - \varepsilon_2}{R_{eq} + r_1 + r_2} \Rightarrow I = \frac{18 - 12}{10 + 2} \Rightarrow I = 0.5 \text{ A}$$

از A در جهت جریان تا نقطه اتصال به زمین قدم می زنیم:

$$V_A + \varepsilon_1 - I r_1 - I = 0 \Rightarrow V_A + 18 - 0.5 \times 0.5 - 8 \times 0.5 = 0$$

$$\Rightarrow V_A = -13.75 \text{ V}$$



۱۸ ۳ B

۱ نیروهای وارد بر  $q_1$  را حساب می‌کنیم. بار  $q_1$  و  $q_2$  همنام بوده و یکدیگر را دفع می‌کنند و بارهای  $q_1$  و  $q_3$  ناهمنام بوده و یکدیگر را جذب می‌کنند. به کمک قانون کولن نیروها را به دست می‌آوریم.

$$F_{r1} = k \frac{|q_1||q_2|}{r_{12}^2} = k \frac{2q_1^2}{x^2}$$

$$F_{r1} = k \frac{|q_1||q_3|}{r_{13}^2} = k \frac{4q_1^2}{9x^2}$$

$q_1$        $q_2 = 2q_1$        $q_3 = -4q_1$

۲ دو نیرو خلاف جهت هم‌اند و اندازه نیروی خالص وارد بر  $q_1$  برابر تفاضل  $F_{r1}$

و  $F_{r1}$  است:

$$F_1 = F_{r1} - F_{r3} = 2k \frac{q_1^2}{x^2} - 4k \frac{q_1^2}{9x^2} = \frac{14}{9} k \frac{q_1^2}{x^2}$$

۳ نیروهای وارد بر  $q_3$  را حساب می‌کنیم. بنا به قانون سوم نیوتن نیرویی که  $q_3$  به  $q_1$  وارد می‌کند با نیرویی که  $q_1$  به  $q_3$  وارد کرده برابر است. از این‌رو اندازه  $F_{r3}$

نیز برابر  $\frac{4}{9} k \frac{q_1^2}{x^2}$  است:

$$F_{r3} = k \frac{2q_1 \times 4q_1}{4x^2} = 2k \frac{q_1^2}{x^2}$$

۴ دو نیرو هم‌جهت‌اند:

$$F_r = F_{r3} + F_{13} = 2k \frac{q_1^2}{x^2} + \frac{4}{9} k \frac{q_1^2}{x^2} = \frac{22}{9} k \frac{q_1^2}{x^2}$$

۵ حال نسبت  $F_1$  به  $F_r$  را حساب می‌کنیم:

$$\frac{F_1}{F_r} = \frac{\frac{14}{9} k \frac{q_1^2}{x^2}}{\frac{22}{9} k \frac{q_1^2}{x^2}} = \frac{14}{22} = \frac{7}{11}$$

روش دیگر:

در حل این نوع مسائل می‌توانید نیرویی که دو بار الکتریکی یکسان  $q_1$  در فاصله  $x$  بر هم وارد می‌کنند را  $F$  فرض کنیم و با توجه به قانون کولن  $F = k \frac{|q_1||q_2|}{r^2}$  نیروهای دیگر را بر حسب  $F$  به دست آوریم.

۱ نیرویی که بار  $q_2 = 2q_1$  بر بار  $q_1$  در فاصله  $x$  وارد می‌کند برابر  $F_{r1} = 2F$  و

نیرویی که بار  $q_3 = 4q_1$  در فاصله  $3x$  وارد می‌کند برابر  $F_{r3} = \frac{4}{9}F$  و نیروی خالص وارد بر  $q_1$  خواهد شد:

$$F_1 = 2F - \frac{4}{9}F \Rightarrow F_1 = \frac{18F - 4F}{9} \Rightarrow F_1 = \frac{14}{9}F$$

۲ نیرویی که بار  $q_1$  بر بار  $q_3$  وارد می‌کند بنا به قانون سوم نیوتن هم‌اندازه نیرویی

است که بار  $q_3$  به بار  $q_1$  وارد می‌کند.

$$F_{13} = \frac{4}{9}F$$

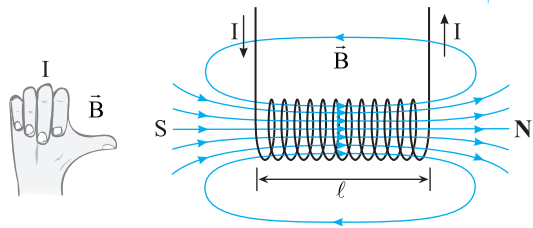
۳ نیرویی که بار  $q_2 = 2q_1$  بر بار  $q_3 = 4q_1$  در فاصله  $2x$  وارد می‌کند  $F_{r3} = 2F$  و نیروی خالص وارد بر  $F_r$  خواهد شد:

$$F_r = F + \frac{4}{9}F = \frac{13}{9}F$$

۴ نسبت  $F_1/F_r$  خواهد شد:

$$\frac{F_1}{F_r} = \frac{\frac{14}{9}F}{\frac{13}{9}F} = \frac{14}{13}$$

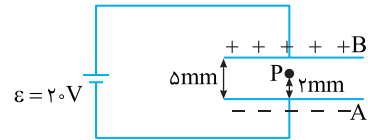
یادآوری: قاعده دست راست برای جهت میدان مغناطیسی در سیم‌لوله حامل جریان.



۱۶ ۲ B

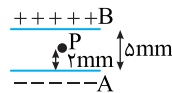
یادآوری: اختلاف پتانسیل بین دو نقطه در میدان الکتریکی یکنواخت برابر  $\Delta V = Ed$  است که در آن  $d$  فاصله دو نقطه در امتداد خطوط میدان است.

دو صفحه خازن به باتری متصل است و اختلاف پتانسیل دو سر خازن ثابت و برابر  $20V$  است. اختلاف پتانسیل بین نقطه  $P$  و صفحه منفی  $A$  برابر  $V_P - V_A = Ed_{AP}$  است. که  $E$  میدان الکتریکی بین صفحات است. با دور شدن صفحه  $B$  فاصله  $A$  و  $P$  از هم تغییر نکرده و  $2mm$  می‌ماند اما میدان الکتریکی تغییر می‌کند:

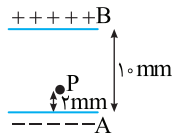


۱ در هر حالت میدان الکتریکی را حساب می‌کنیم.

حالت اول:  $E_1 = \frac{V}{d_1} \rightarrow E_1 = \frac{20}{5 \times 10^{-3}} = 4000 \frac{V}{m}$



حالت دوم:  $E_2 = \frac{V}{d_2} \rightarrow E_2 = \frac{20}{10 \times 10^{-3}} = 2000 \frac{V}{m}$



۲ اختلاف پتانسیل بین  $P$  و  $A$  در هر حالت خواهد شد:

حالت اول:  $\Delta V_{AP} = V_P - V_A \rightarrow 4000 \times 2 \times 10^{-3} = V_P - V_A \rightarrow V_P = 8 - V_A$

حالت دوم:  $\Delta V'_{AP} = V'_P - V_A \rightarrow 2000 \times 2 \times 10^{-3} = V'_P - V_A \rightarrow V'_P = 4 + V_A$

بنابراین پتانسیل نقطه  $P$ ،  $4V$  کاهش یافته است.

۱۷ ۱ B

یادآوری: در جابه‌جایی در جهت خطوط میدان پتانسیل الکتریکی کاهش می‌یابد.

با توجه به سؤال از  $A$  تا  $B$  در خلاف جهت خطوط میدان ذره جابه‌جا شده و  $V_A > V_B$  است پس  $V_A - V_B$  مثبت است.

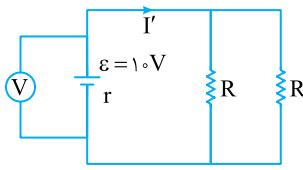

یادآوری: اختلاف پتانسیل الکتریکی از رابطه  $\Delta V = Ed \cos \theta$  به دست می‌آید.

یادآوری: هرچه تراکم خطوط میدان الکتریکی بیشتر، اندازه میدان الکتریکی بیشتر بوده و میدان قوی‌تر است. با توجه به شکل تراکم خطوط از  $A$  تا  $B$  در شکل (۳) بزرگتر از شکل (۲) و در شکل (۲) بزرگتر از شکل (۱) است. بنابراین:

$$\Delta V_3 = E_3 d \cos \theta$$

$$\Delta V_3 = E_3 d \cos \theta \xrightarrow{E_3 > E_2 > E_1} \Delta V_3 > \Delta V_2 > \Delta V_1$$

$$\Delta V_1 = E_1 d \cos \theta$$



۳ اگر دو کلید بسته شود هر دو مقاومت R در مدار قرار می‌گیرند و با هم موازی‌اند:

$$\frac{1}{R_{eq}} = \frac{1}{R} + \frac{1}{R} \rightarrow \frac{1}{R_{eq}} = \frac{2}{R} \rightarrow R_{eq} = \frac{R}{2}$$

$$I'_{مدار} = \frac{\varepsilon}{r + R_{eq}} \rightarrow I'_{مدار} = \frac{10}{r + \frac{R}{2}} \rightarrow I'_{مدار} = \frac{10}{r + 0.75R}$$

$$\rightarrow I'_{مدار} = \frac{10}{1.75R}$$

۴ اختلاف پتانسیل دو سر باتری برابر  $V' = \varepsilon - I'r$  است:

$$V' = \varepsilon - I'r_{مدار} \Rightarrow V' = 10 - r \cdot \frac{10}{1.75R} \Rightarrow V' = 10 - \frac{10r}{1.75}$$

$$\Rightarrow V' = \frac{1.75R - 10r}{1.75} \Rightarrow V' = \frac{7.5R - 10r}{7} = \frac{3}{7}V$$

میانبر: اختلاف پتانسیل دو سر باتری بر حسب مقاومت خارجی مدار ( $R_{eq}$ )

$$V = \frac{R_{eq}}{R_{eq} + r} \varepsilon$$

از رابطه زیر به دست می‌آید.

با استفاده از این رابطه نیازی به محاسبه جریان نیست.

۲۲ B

۱ آمپر سنج جریان اصلی مدار را  $0.8A$  نشان داده است از این رو جریان گذرنده از

سه مقاومت متوالی  $9\Omega$  و  $R$  و  $4\Omega$  برابر  $0.8A$  است.

۲ ولت‌سنج به دو سر مقاومت R بسته شده و ولتاژ دو سر آن را  $12V$  نشان می‌دهیم: مقاومت R را حساب می‌کنیم:

$$\begin{cases} V = 12V \\ I = 0.8A \end{cases} \Rightarrow R = \frac{V}{I} \Rightarrow R = \frac{12}{0.8} \Rightarrow R = \frac{120}{8} = 15\Omega$$

۳ مقاومت معادل خواهد شد:

$$R_{eq} = 4 + 15 + 9 \Rightarrow R_{eq} = 28\Omega$$

۴ به کمک جریان مدار نیروی محرکه باتری را به دست می‌آوریم.

$$I = \frac{\varepsilon}{R_{eq} + r} \Rightarrow 0.8 = \frac{\varepsilon}{28 + 2} \Rightarrow \varepsilon = 24V$$

۲۳ B

خط فکری: با توجه به اعداد روی مدار، جریان مدار  $1/5A$  است به کمک جریان

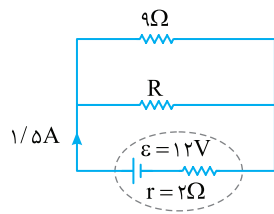
ابتدا مقاومت معادل مدار را حساب کنید. سپس به کمک مقاومت معادل به سراغ یافتن مقدار مقاومت R بروید با داشتن مقاومت R می‌توانید جریان R (و یا ولتاژ دو سر R) را حساب کرده و توان مصرفی آن را بیابید. البته ما جریان R را به دست آورده‌ایم.

۱ جریان مدار  $1/5A$  است. با توجه به مدار  $I_{مدار} = \frac{\varepsilon}{R_{eq} + r}$  مقدار  $R_{eq}$  را

به دست می‌آوریم:

$$1/5 = \frac{12}{R_{eq} + 2} \rightarrow 1/5(R_{eq} + 2) = 12 \rightarrow 1/5R_{eq} + 2/5 = 12 \rightarrow 1/5R_{eq} = 9 \rightarrow R_{eq} = 45\Omega$$

۲ مقاومت R و  $9\Omega$  موازی‌اند:



$$\frac{1}{R} + \frac{1}{9} = \frac{1}{45} \Rightarrow \frac{1}{R} = \frac{1}{45} - \frac{1}{9} = \frac{1 - 5}{45} = \frac{-4}{45}$$

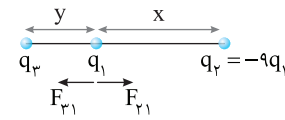
$$\Rightarrow \frac{1}{R} = \frac{3}{18} - \frac{2}{18} = \frac{1}{18}$$

$$\Rightarrow \frac{1}{R} = \frac{1}{18} \Rightarrow R = 18\Omega$$

۱۹ B

۱ ابتدا دقت کنید در هر چهار گزینه، بار  $q_3$  در سمت چپ بار  $q_1$  قرار می‌گیرد

بنابراین طرز قرار گرفتن بارها به شکل زیر است.



۲ با توجه به فرض مسئله نیروهای

وارد بر هر بار از جمله بار  $q_1$  صفر

است. از طرفی بار  $q_1$  و  $q_2$  ناهمنام

هستند و نیروی  $F_{21}$  جاذبه است. بنابراین نیرویی که  $q_3$  بر  $q_1$  وارد می‌کند نیز باید جاذبه و به سمت چپ باشد یعنی  $q_3$  نیز باید با  $q_1$  ناهمنام باشد بنابراین  $q_3$  منفی

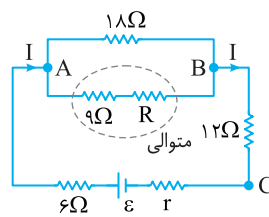
است در نتیجه گزینه‌های (۱) و (۲) حذف شده و مقدار بار  $q_1$  خواهد بود.

۳ با برابر قرار دادن نیروهای  $F_{21}$  و  $F_{31}$ ، مقدار  $y$  را بر حسب  $x$  به دست می‌آوریم.

$$F_{21} = F_{31} \Rightarrow k \frac{|q_2||q_1|}{x^2} = k \frac{|q_3||q_1|}{y^2} \Rightarrow \frac{|q_2|}{x^2} = \frac{|q_3|}{y^2} = \frac{9q_1}{x^2} = \frac{q_1}{y^2}$$

$$\Rightarrow y^2 = \frac{x^2}{9} \Rightarrow y = \frac{x}{3}$$

۲۰ B



خط فکری: به فرض مسئله دقت

کنید اختلاف پتانسیل دو سر مقاومت

$18\Omega (V_{AB})$  با اختلاف پتانسیل دو سر

مقاومت  $12\Omega (V_{BC})$  برابر است.

بنابراین باید مقاومت  $R_{AB}$  با مقاومت

$R_{BC}$  برابر باشد. با توجه به این مطلب مسئله را حل می‌کنیم.

در گام اول مقاومت معادل بین دو نقطه AB را حساب می‌کنیم. مقاومت R و  $9\Omega$

متوالی و معادل آن‌ها با مقاومت  $18\Omega$  موازی است. بنابراین:

$$\frac{1}{R_{AB}} = \frac{1}{18} + \frac{1}{R+9} \Rightarrow R_{AB} = \frac{(18)(R+9)}{27+R}$$

در گام دوم برای آن که  $V_{AB} = V_{BC}$  باشد باید مقاومت  $R_{AB}$  با مقاومت  $R_{BC}$

برابر باشد از این رو:

$$V_{AB} = V_{BC} \Rightarrow IR_{AB} = IR_{BC} \Rightarrow$$

$$R_{AB} = R_{BC} = \frac{18(R+9)}{27+R} = 12 \Rightarrow \frac{3(R+9)}{27+R} = 2$$

$$\Rightarrow 3R + 27 = 54 + 2R \Rightarrow R = 27\Omega$$

۲۱ B

۱ اگر تنها یکی از کلیدها بسته باشد، فقط یکی از مقاومت‌های R در مدار قرار

می‌گیرد و مدار به شکل زیر است. در این حالت ولت‌سنج ولتاژ دو سر باتری را  $6V$  نشان می‌دهد و جریان مدار خواهد شد:

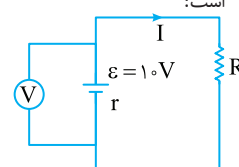
$$I = \frac{\varepsilon}{R+r} \rightarrow I = \frac{10}{R+r}$$


۲ اختلاف پتانسیل دو سر باتری برابر  $V = \varepsilon - I'r$  است:

$$v = \varepsilon - I'r \xrightarrow{r=6V} 6 = 10 - \frac{10r}{R+r}$$

$$\Rightarrow \frac{10r}{R+r} = 4 \Rightarrow 10r = 4R + 4r$$

$$\Rightarrow 6r = 4R \Rightarrow R = 1.5r$$





## نشرالگو

۲۷ ۳ A

**۱** جهت جریان سیم را مشخص می‌کنیم. چرخش چهار انگشت دست راست را مطابق شکل در سوی چرخش خطوط میدان مغناطیسی حاصل از سیم قرار دهید در این حالت انگشت باز شست شما به سمت چپ خواهد بود که نشان می‌دهد جریان سیم به سوی چپ است ( $\leftarrow I$ ).

**۲** چها رانگشت باز دست راست خود را در جهت جریان به گونه‌ای قرار دهید که کف دست شما رو به صفحه کاغذ (درونسو) باشد. در این حالت انگشت باز شست شما رو به پایین خواهد بود. یعنی نیروی وارد بر سیم رو به پایین است. ( $F \downarrow$ )

۲۸ ۱ B

**خط نگر** باید جهت میدان مغناطیسی سیم راست را در محل حلقه مشخص کنید. سپس با توجه به قانون لنز و چگونگی تغییر میدان مغناطیسی جهت جریان حلقه را به دست می‌آوریم.

**۱** در گزینه (۱) جریان سیم راست رو به پایین است و با توجه به قاعده دست راست جهت میدان مغناطیسی ناشی از جریان درون حلقه درونسو است.

**۲** جریان در حال کاهش بوده و میدان B نیز در حال کاهش است. از این رو بنا به قانون لنز جهت میدان مغناطیسی القایی ( $B'$ ) باید هم جهت B بوده تا با کاهش میدان مخالفت کند یعنی  $B'$  نیز درونسو است.

**۳** به کمک قاعده دست راست مشخص می‌شود که جریان حلقه باید ساعتگرد باشد و گزینه (۱) درست است. بنابراین بررسی سه گزینه دیگر لازم نیست.

**میانبر** هرگاه جریان سیم راست در حال کاهش باشد جریان القایی ( $I'$ ) مطابق شکل روبرو همسو با آن است و هرگاه جریان در حال افزایش باشد، جریان القایی ( $I'$ ) ناهمسو با آن است.

در حال افزایش

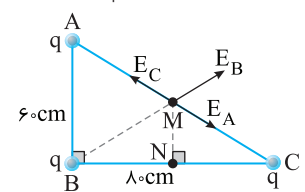
۲۹ ۱ B

**۱** فاصله بارهای واقع در رأس‌های A و C تا نقطه M وسط AC برابر بوده و با توجه به مثبت و یکسان بودن بارها، میدان الکتریکی حاصل از بارهای  $q_C$  و  $q_A$  در نقطه M هم اندازه و خلاف جهت هم بوده و یکدیگر را خنثی می‌کنند. ( $E_A = E_C$ )، بنابراین میدان الکتریکی خالص در نقطه M همان میدان الکتریکی ناشی از بار الکتریکی واقع در نقطه B است. از اینجا به بعد باید به سراغ هندسه برویم و فاصله BM را حساب کنیم.

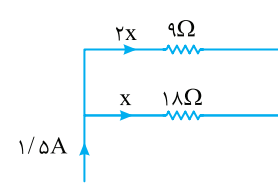
**۲** طول ضلع AC را حساب می‌کنیم.

$$AC^2 = AB^2 + BC^2$$

$$\Rightarrow AC^2 = 6^2 + 8^2$$

$$\Rightarrow AC = 10 \text{ cm}$$


**یادآوری** جریان در مقاومت‌های موازی به نسبت وارون مقدار مقاومت تقسیم می‌شود.



**۳** جریان عبوری از مقاومت  $18 \Omega$

را  $x$  بگیرد. جریان مقاومت  $9 \Omega$  برابر

$2x$  می‌شود:

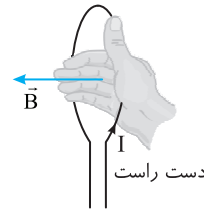
$$x + 2x = 1/5 \text{ A} \Rightarrow 3x = 1/5$$

$$\Rightarrow x = 1/15 \text{ A}$$

**۴** توان مصرفی مقاومت  $18 \Omega$  برابر است با:

$$P = RI^2 \rightarrow P = 18 \times (1/15)^2 \rightarrow P = 18 \times \frac{1}{225} = \frac{4}{25} \text{ W}$$

۲۴ ۲ A



**یادآوری** قاعده دست راست: انگشت شست

دست راست را مطابق شکل در جهت جریان قرار

می‌دهیم، خم کردن چهار انگشت جهت بردار میدان

را نشان می‌دهد.

در نقطه A میدان مغناطیسی برونسو بوده بنابراین جریان الکتریکی حلقه ساعتگرد و میدان مغناطیسی در مرکز حلقه درونسو است.

**میانبر** در نقطه‌ای مانند A در خارج حلقه جهت میدان خلاف جهت میدان در مرکز حلقه است.

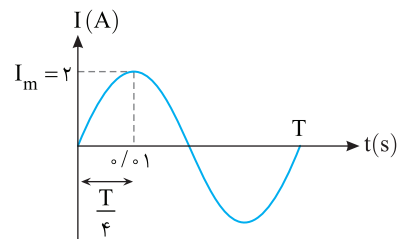
۲۵ ۲ B

با توجه به نمودار جریان بیشینه برابر ۲A بوده و دوره خواهد شد:

$$\frac{T}{4} = 0.1 \text{ s} \Rightarrow T = 0.4 \text{ s}$$

اکنون معادله جریان را می‌نویسیم:

$$I = I_m \sin \frac{2\pi}{T} t \Rightarrow I = 2 \sin \frac{2\pi}{0.4} t \Rightarrow I = 2 \sin 5\pi t$$



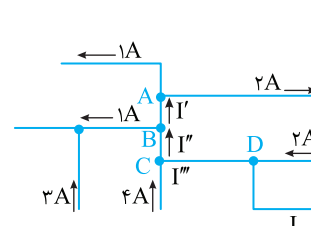
۲۶ ۱ B

**یادآوری** قاعده انشعاب: مجموع جریان‌هایی که به هر نقطه انشعاب وارد می‌شود

برابر با مجموع جریان‌هایی است که از آن نقطه انشعاب خارج می‌شود.

**خط نگر** محل اتصال انشعاب‌ها (گره‌ها) را نام‌گذاری می‌کنیم و قانون انشعاب

جریان‌ها را برای این گره‌ها می‌نویسیم تا مقدار و سوی جریان I مشخص شود.



جریان‌های ۱A و ۲A از انشعاب

A خارج می‌شوند، بنابراین جریان

وارد می‌شود.  $I' = 1 + 2 = 3 \text{ A}$  به این انشعاب

جریان‌های ۱A و  $I' = 3 \text{ A}$  از

انشعاب B خارج می‌شوند بنابراین


جریان  $I'' = 3 + 1 = 4 \text{ A}$  به این انشعاب وارد می‌شود.

برای انشعاب C مشخص است که جریان  $I''' = 4 - 4 = 0$  بوده از این رو برای انشعاب

D خواهیم داشت:

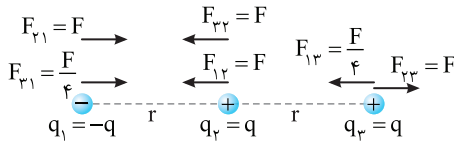
$I = 2 \text{ A}$

و I در سوی (۲) است.



**۳۲** B

**خط نگرسی** بارها را نامگذاری کنید و بردارهای نیرویی که بر هر بار توسط دو بار دیگر وارد می شود را رسم کنید تا بتوانید مشخص کنید بزرگترین و کوچکترین نیروی خالص بر کدام بارها وارد می شود. اگر نیروی بین دو بار  $q$  به فاصله  $r$  را برابر  $F$  بگیریم نیروی بین دو بار  $-q$  و  $+q$  که در فاصله  $2r$  از هم قرار دارند برابر  $\frac{F}{4}$  می شود. با توجه به این نکات مسئله قابل حل است.



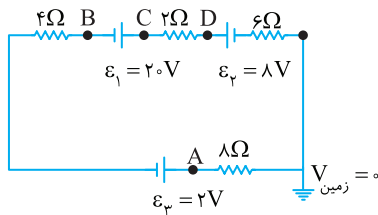
۱. نیروهای وارد بر  $q_2 = q$  که در وسط دو بار دیگر است هم جهت بوده و نیروی خالص وارد بر  $q_2$  برابر است با:  
 $F_2 = F + F = 2F$
۲. اندازه نیروی خالص وارد بر  $q_1$  خواهد شد:  
 $F_1 = F + \frac{F}{4} = \frac{5F}{4}$
۳. نیروهای وارد بر بار  $q_3$  در خلاف جهت هم بوده و اندازه نیروی خالص وارد بر  $q_3$  خواهد شد:  
 $F_3 = F - \frac{F}{4} = \frac{3F}{4}$
۴. بنابراین بزرگترین نیرو  $2F$  و کوچکترین نیرو  $\frac{3F}{4}$  است از این رو:

$$\frac{2F}{\frac{3F}{4}} = \frac{\lambda}{3}$$

**۳۳** B

به مدار نگاه کنید. نیروی محرکه  $\varepsilon_1 = 20V$  از مجموع نیروهای محرکه دو باتری  $\varepsilon_2$  و  $\varepsilon_3$  ( $\varepsilon_2 + \varepsilon_3 = 8 + 2 = 10V$ ) بزرگتر بوده و جهت جریان ساعتگرد و اندازه جریان الکتریکی مدار خواهد شد:

$$I = \frac{\varepsilon_1 - (\varepsilon_2 + \varepsilon_3)}{R_{eq}} \Rightarrow I = \frac{20 - 10}{4 + 2 + 6 + 8} \Rightarrow I = \frac{10}{20} = 0.5A$$



- یادآوری** پتانسیل الکتریکی هر نقطه از مدار یعنی اختلاف پتانسیل بین آن نقطه و اتصال به زمین.
- به ترتیب پتانسیل الکتریکی نقاط  $A, B, C, D$  را حساب می کنیم.
- پتانسیل نقطه  $A$ : از  $A$  تا اتصال زمین در خلاف جهت جریان قدم می زنیم.  
 $V_A + 8 \times 0.5 = 0 \Rightarrow V_A = -4V$
- پتانسیل نقطه  $B$ : از  $B$  در جهت جریان قدم می زنیم.  
 $V_B + 20 - 0.5 \times 2 - 8 - 0.5 \times 6 = 0 \Rightarrow V_B = -8V$
- پتانسیل نقطه  $C$ :  
 $V_C - 0.5 \times 2 - 8 - 0.5 \times 6 = 0 \Rightarrow V_C = 12V$
- پتانسیل نقطه  $D$ :  
 $V_D - 8 - 0.5 \times 6 = 0 \Rightarrow V_D = 11V$

بنابراین پتانسیل نقطه  $C$  از بقیه نقاط بیشتر است.

**میانی** باتری  $\varepsilon_1$  مولد بوده و نقطه  $C$  از قطب مثبت آن کمترین فاصله را دارد بنابراین پتانسیل آن نسبت به نقاط دیگر بیشتر است.

۳. فاصله  $MC$  را به دست می آوریم:  
 $MC = \frac{AC}{2} = 50 \text{ cm}$

۴. هرگاه از وسط ضلع  $AC$  خطی به موازات ضلع  $AB$  رسم کنیم، ضلع  $BC$  را نصف می کند. یعنی نقطه  $N$  وسط  $BC$  بوده و طول ضلع  $BN = NC = \frac{\lambda}{2} = 40 \text{ cm}$  است.

۵. در مثلث قائم الزاویه  $CMN$ ، طول  $MN$  را حساب می کنیم.

$$MC^2 = MN^2 + NC^2 \Rightarrow 50^2 = MN^2 + 40^2 \Rightarrow MN = 30 \text{ cm}$$

۶. در مثلث قائم الزاویه  $BMN$ ، طول ضلع  $BM$  را به دست می آوریم.

$$BM^2 = BN^2 + MN^2 \Rightarrow BM^2 = 40^2 + 30^2 \Rightarrow BM = 50 \text{ cm}$$

۷. اکنون مقدار بار  $q$  را حساب می کنیم.

$$E = k \frac{q}{r^2} \Rightarrow 9 \times 10^4 = 9 \times 10^9 \frac{q}{(0.5)^2} \Rightarrow q = 0.25 \times 10^{-5} C$$

$$\Rightarrow q = 2.5 \times 10^{-6} \Rightarrow q = 2.5 \mu C$$

**۳۰** B

۱. نیروی وارد بر الکترون را به دست می آوریم.

$$E = \frac{F}{q} \Rightarrow F = qE \xrightarrow{E=25N/C, q=1.6 \times 10^{-19} C}$$

$$F = 1.25 \times 10^{-19} \times 1.6 \times 10^{-19} \Rightarrow F = 2 \times 10^{-17} N$$

۲. شتاب حرکت الکترون را به کمک قانون دوم نیوتون حساب می کنیم.

$$F_E = ma \xrightarrow{m=9.1 \times 10^{-31} kg} 2 \times 10^{-17} = 9.1 \times 10^{-31} a \Rightarrow a = 2.2 \times 10^{13} m/s^2$$

۳. زمان جابه جایی  $10 \text{ cm}$  را با شتاب  $2.2 \times 10^{13} m/s^2$  به کمک معادله حرکت با شتاب ثابت به دست می آوریم:

$$\Delta x = \frac{1}{2} a t^2 \Rightarrow 0.1 = \frac{1}{2} \times 2.2 \times 10^{13} t^2 \Rightarrow t^2 = 10^{-14} \Rightarrow t = 10^{-7} s$$

$$t = 10^{-7} \times 10^9 \Rightarrow t = 100 \text{ ns}$$

برای تبدیل به نانوثانیه

**یادآوری** تغییر انرژی پتانسیل الکتریکی قرینه کار نیروی میدان است.  
 $\Delta U_E = -W_E$

۴. تغییر انرژی پتانسیل الکتریکی خواهد شد:

$$\Delta U_E = -(F_E d) \Rightarrow \Delta U_E = -2 \times 10^{-17} \times 0.1$$

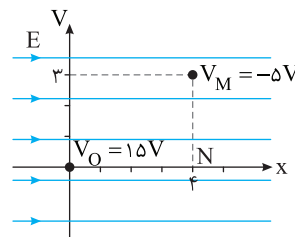
$$\Rightarrow \Delta U_E = -2 \times 10^{-18} J \Rightarrow \Delta U_E = -2 \times 10^{-18} J \times \frac{1 eV}{1.6 \times 10^{-19} J}$$

$$\Rightarrow \Delta U_E = -12.5 eV$$

ضرب تبدیل زول به eV

**۳۱** B

**یادآوری** هرگاه در جهت خطوط میدان الکتریکی جابه جا شویم پتانسیل نقاط فضا کاهش می یابد. در حرکت از مبدأ تا نقطه  $M(4, 3)$  پتانسیل الکتریکی از  $15V$  به  $-5V$  کاهش یافته بنابراین باید جهت میدان الکتریکی در جهت مثبت محور  $X$  باشد.



**نکته** نقاط واقع بر خط عمود بر میدان الکتریکی هم پتانسیل هستند.


فقط  $M$  و  $N$  روی خط  $MN$  عمود بر خطوط میدان قرار دارند و پتانسیل آن ها یکی است، بنابراین:

$$V_N - V_O = V_M - V_O = -5 - (15) = -20V$$

**یادآوری** اختلاف پتانسیل بین دو نقطه در میدان الکتریکی برابر  $|\Delta V| = Ed$  است.

بزرگی میدان الکتریکی را حساب می کنیم.

$$20 = E(d_{NO}) \Rightarrow 20 = E(0.4) \Rightarrow E = \frac{2000}{4} = 500 N/C$$



## نشرالگو

۱ ۳۴ B

۱ ابتدا مقاومت معادل هر قسمت را حساب می‌کنیم.

مقاومت‌های  $R_3$  و  $R_4$  متوالی هستند.

$$R_{34} = 10 + 30 = 40 \Omega$$

مقاومت‌های  $R_1$  و  $R_2$  موازی هستند.

$$\frac{1}{R_{CB}} = \frac{1}{5} + \frac{1}{20} + \frac{1}{40} = \frac{8+2+1}{40} \Rightarrow R_{CB} = \frac{40}{11} \Omega$$

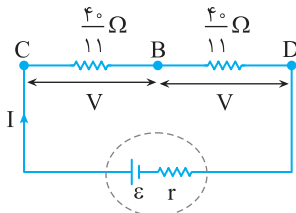
مقاومت معادل بین B و D خواهد شد:

$$\frac{1}{R_{DB}} = \frac{1}{40} + \frac{1}{4} = \frac{1+10}{40} \Rightarrow R_{DB} = \frac{40}{11} \Omega$$

۲ بنابراین شکل مدار به صورت زیر است. مقاومت‌های  $R_{CB}$  و  $R_{DB}$  با هم

برابر بوده از این رو ولتاژ دو سر هر دو مقاومت یکسان است.

$$V_{CB} = V_{BD} = V$$



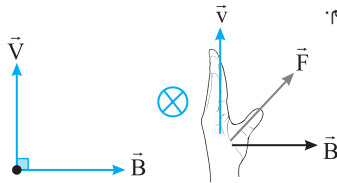
وقتی ولتاژ دو سر مقاومت‌ها برابر است با توجه به رابطه  $P = \frac{V^2}{R}$ ، مقاومت کوچکتر

دارای توان مصرفی بیشتری است. بنابراین توان مصرفی مقاومت  $R_2 = 40 \Omega$  از بقیه

بیشتر است.

۱ ۳۶ A

یادآوری: برای به دست آوردن جهت نیروی مغناطیسی وارد بر یک ذره باردار مثبت ۴ انگشت باز دست راست را در جهت  $\vec{v}$  قرار داده به طوریکه کف دست در جهت میدان مغناطیسی باشد. در این صورت شصت دست راست جهت نیروی مغناطیسی را نشان می‌دهد. البته اگر بار ذره منفی باشد، جهت به دست آورده را قرینه می‌کنیم و یا از دست چپ استفاده می‌کنیم.

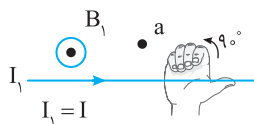


چون بار الکترون منفی است، جهت نیرو قرینه شده و برونسو است.

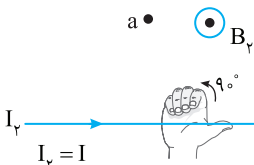
۲ ۳۷ B

یادآوری: برای به دست آوردن جهت میدان مغناطیسی ناشی از سیم حامل جریان، انگشت باز شصت دست راست را در جهت جریان قرار می‌دهیم به گونه‌ای که چهار انگشت دست راست در جهت خط واصل بین سیم و نقطه‌ای که میدان در آن خواسته شده قرار گیرد. حال اگر چهار انگشت دست راست را  $90^\circ$  خم کنیم، جهت میدان مغناطیسی در آن نقطه به دست می‌آید:

الف) میدان مغناطیسی سیم  $I_1$  و  $I_2$  در نقطه a:

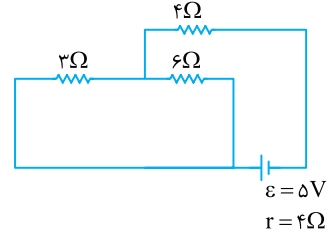


هر دو میدان برونسو بوده بنابراین میدان در نقطه a برونسو است.



خط فکری ← برای یافتن توان تولیدی باتری ( $P = \epsilon I$ ) ابتدا باید مقاومت معادل را

در هر حالت حساب کنید سپس جریان مدار را به دست بیاورید تا بتوانید مقدار P در آن حالت را معین کنید.



حالت اول: دو دست مقاومت‌های  $3 \Omega$  و  $6 \Omega$  در دست هم بوده و این دو مقاومت

موازی هستند و مقاومت معادل آن‌ها خواهد شد:

$$R_{36} = \frac{3 \times 6}{3+6} = 2 \Omega$$

مقاومت  $4 \Omega$  با مقاومت معادل ۳ و ۶ اهمی متوالی است. بنابراین مقاومت معادل مدار برابر است با:

$$R_{eq} = 2 + 4 = 6 \Omega$$

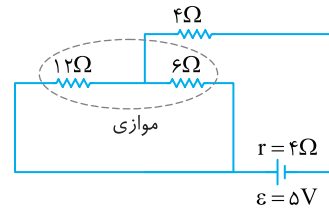
جریان مدار را حساب می‌کنیم:

$$I = \frac{\epsilon}{R_{eq} + r} \Rightarrow I = \frac{5}{6+4} \Rightarrow I = 0.5 \text{ A}$$

توان تولیدی باتری خواهد شد:

$$P = \epsilon I \Rightarrow P = 5 \times 0.5 = 2.5 \text{ W}$$

حالت دوم: با قرار دادن مقاومت  $12 \Omega$  به جای  $3 \Omega$  مقاومت معادل خواهد شد:



$$R'_{eq} = \frac{12 \times 6}{12+6} + 4 \Rightarrow R'_{eq} = 4 + 4 = 8 \Omega$$

جریان مدار را حساب می‌کنیم:

$$I' = \frac{\epsilon}{R'_{eq} + r} = \frac{5}{8+4} \Rightarrow I' = \frac{5}{12} \text{ A}$$

توان تولیدی باتری را به دست می‌آوریم.

$$P' = \epsilon I' \Rightarrow P' = 5 \times \frac{5}{12} \Rightarrow P' = \frac{25}{12} \text{ W}$$

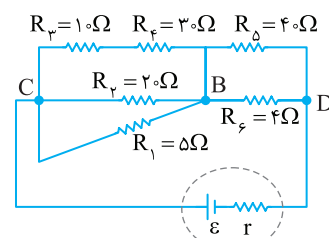
تغییر توان تولیدی باتری را حساب می‌کنیم.

$$P - P' = \frac{5}{2} - \frac{25}{12} \Rightarrow \Delta P = \frac{30-25}{12} \Rightarrow \Delta P = \frac{5}{12} \text{ W}$$


۴ ۳۵ B

در یک نگاه دقیق به شکل مسئله مشخص است که جریان کل مدار در انشعاب C به سرشاخه و در انشعاب D به دو شاخه تقسیم می‌شود و سهم مقاومت  $R_5 = 4 \Omega$  از

جریان کل مدار از بقیه مقاومت‌ها بیشتر بوده و با توجه به رابطه  $P = RI^2$  توان این مقاومت از بقیه بیشتر است.

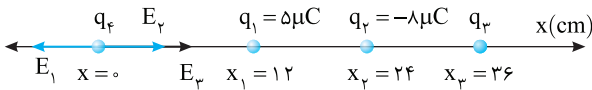






۲ ۴۰ B

میدان الکتریکی یار  $q_1$  در محل  $q_4$  به سمت چپ (خلاف محور Xها) و میدان الکتریکی یار  $q_2$  در محل  $q_4$  به سمت راست (در جهت محور Xها) بوده و با آنکه  $|q_2| > |q_1|$  است اما چون فاصله  $q_2$  تا  $q_4$ ، دو برابر فاصله  $q_1$  تا  $q_4$  است بنابراین میدان یار  $q_2$  از یار  $q_1$  ضعیف تر است از این رو باید میدان الکتریکی یار  $q_3$  در جهت میدان  $q_2$  یعنی رو به راست باشد. بنابراین یار  $q_3$  باید منفی باشد. از این رو می توان نوشت:

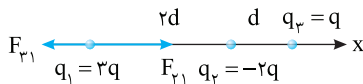


$$E_p = E_1 - E_2 = k \frac{|q_1|}{r_1^2} - k \frac{|q_2|}{r_2^2} \Rightarrow \frac{kq_3}{(36)^2} = \frac{k(5)}{(12)^2} - \frac{k(8)}{(24)^2}$$

$$\frac{q_3}{36^2} = \frac{5}{144} - \frac{8}{576} \Rightarrow \frac{q_3}{9} = \frac{5}{36} - \frac{2}{144} \Rightarrow \frac{q_3}{9} = \frac{10}{144} - \frac{2}{144} \Rightarrow \frac{q_3}{9} = \frac{8}{144} \Rightarrow q_3 = -27 \mu C$$

۳ ۴۱ B

نیروی وارد بر یار  $q_1 = 3q$  از طرف دو یار دیگر را رسم کرده و مقدار نیروها را به دست می آوریم.

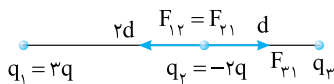


نیرویهای  $F_{12}$  و  $F_{13}$  در خلاف جهت هم بوده اندازه برآیند آنها از تفاضل آنها به دست می آید و بنا به فرض مسئله خواهیم داشت:

$$F = F_{12} - F_{13} \Rightarrow F = \frac{3}{2} k \frac{q^2}{d^2} - k \frac{q^2}{3d^2} \Rightarrow F = \frac{9-2}{6} k \frac{q^2}{d^2} \Rightarrow F = \frac{7}{6} k \frac{q^2}{d^2}$$

این نیرو در جهت مثبت محور Xهاست.

نیروهای وارد بر یار  $q_2 = -2q$  را رسم کرده، اندازه آنها را به دست آورید. سپس برآیند آنها را حساب کنید.



نیروی که  $q_1$  بر  $q_2$  وارد می کند با نیرویی که  $q_2$  بر  $q_1$  وارد می کند برابر است.

$$F_{12} = F_{21} = \frac{3}{2} k \frac{q^2}{d^2}$$

نیرویی که  $q_3$  بر  $q_2$  وارد می کند خواهد داشت:

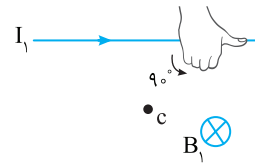
$$F_{23} = k \frac{|q_2||q_3|}{d^2} \Rightarrow F_{23} = k \frac{2q \times q}{d^2} = 2k \frac{q^2}{d^2}$$

برآیند نیروهای وارد بر یار  $q_2$  را به دست می آوریم.

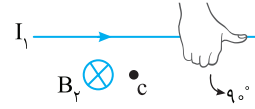
$$F' = F_{23} - F_{12} = 2k \frac{q^2}{d^2} - \frac{3}{2} k \frac{q^2}{d^2} \Rightarrow F' = \frac{1}{2} k \frac{q^2}{d^2}$$

این نیرو در جهت مثبت محور Xهاست.

(ب) میدان مغناطیسی در نقطه C ناشی از  $I_1$  و  $I_2$ :

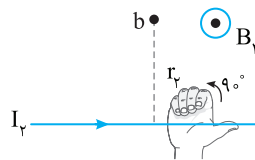
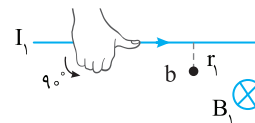


هر دو میدان در نقطه C درونسو بوده بنابراین میدان در نقطه C درونسو است.



میدان مغناطیسی حاصل از سیم راست با جریان سیم رابطه مستقیم و با فاصله رابطه عکس دارد.

(پ) میدان مغناطیسی در نقطه b ناشی از سیم  $I_1$  درونسو و ناشی از سیم  $I_2$  برونسو است.



جریان دو سیم برابر اما نقطه b از سیم (2) دورتر است، پس  $B_1 > B_2$  بوده و میدان خالص در جهت میدان قوی تر یعنی درونسو خواهد بود.

۳ ۳۸ B

۱ یا توجه به تعریف ظرفیت خازن:

$$C = \frac{q}{V} \Rightarrow q = CV \Rightarrow \begin{cases} q_1 = CV_1 \\ q_2 = CV_2 \end{cases} \Rightarrow \Delta q = C \Delta V$$

با توجه به فرض مسئله  $\Delta V = 1V$  و  $C = 8 \mu F$  است بنابراین:  $\Delta q = 8 \times 1 = 8 \mu C$

تغییر تعداد الکترون های هر صفحه را حساب می کنیم:

$$\Delta q = ne \Rightarrow n = \frac{\Delta q}{e} = \frac{8 \times 10^{-6}}{1.6 \times 10^{-19}} = 5 \times 10^{13}$$

۱ ۳۹ B

خط فکری ابتدا به کمک قضیه کار و انرژی جنبشی ( $W_E = \Delta K$ ) کار نیروی

میدان الکتریکی وارد بر ذره باردار را حساب کنید. کار نیروی میدان الکتریکی قرینه تغییر انرژی پتانسیل الکتریکی ذره است. ( $W_E = -\Delta U_E$ ) بنابراین با توجه به

تعریف اختلاف پتانسیل الکتریکی ( $\Delta V = \frac{\Delta U}{q}$ ) مسئله را حل کنید.

۱ تنها نیروی وارد بر ذره، نیروی میدان الکتریکی است و کار این نیرو، خواهد شد:

$$W_E = \Delta K \Rightarrow W_E = \frac{1}{2} m v_f^2 - \frac{1}{2} m v_i^2 \Rightarrow \frac{m = 4 \times 10^{-9} \text{ kg}}{v_i = 1 \text{ m/s}, v_f = 2 \text{ m/s}}$$

$$W_E = \frac{1}{2} \times 4 \times 10^{-9} (4^2 - 1^2) \Rightarrow W_E = 6 \times 10^{-7} \text{ J}$$


۲ تغییر انرژی پتانسیل الکتریکی ذره برابر است با:

$$W_E = -\Delta U_E \Rightarrow \Delta U_E = -6 \times 10^{-7} \text{ J}$$

۳ اختلاف پتانسیل بین نقاط A و B را حساب می کنیم.

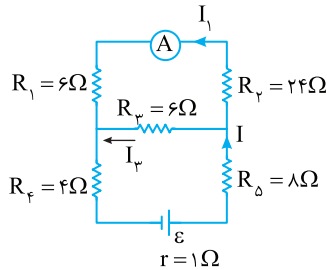
$$V_B - V_A = \frac{\Delta U}{q} = \frac{-6 \times 10^{-7} \text{ J}}{5 \times 10^{-9} \text{ C}} \Rightarrow V_B - V_A = -120 \text{ V}$$





۴۴ C

**خط فکری** با مسئله‌ای طولانی سروکار دارید. ابتدا در حالت کلید باز باید مقاومت مدار را بررسی کنید و جریان گذرنده از آمپرسنج را برحسب جریان کل مدار را به دست بیاورید. سپس در حالت کلید بسته، همین مسیر را طی کنید و مسئله را حل کنید. دقت کنید  $\varepsilon$  (نیروی محرکه باتری) پارامتری است که در محاسبات حذف خواهد شد.



**یادآوری** آمپرسنج آرمانی

شبيهه یک سیم بدون مقاومت فرض می‌شود.

کلید باز: در این حالت مدار به شکل روبه‌رو درمی‌آید.

که در آن مقاومت‌های  $R_1$  و  $R_4$  متوالی و با مقاومت  $R_3$  موازی هستند.

$$R_{1,2} = R_1 + R_2 = 6 + 24 \Rightarrow R_{1,2} = 30\Omega$$

$$\frac{1}{R_{1,2,3}} = \frac{1}{R_{1,2}} + \frac{1}{R_3} \Rightarrow \frac{1}{R_{1,2,3}} = \frac{1}{30} + \frac{1}{6} = \frac{1+5}{30} \Rightarrow R_{1,2,3} = 5\Omega$$

مقاومت معادل  $R_{1,2,3}$  با مقاومت‌های  $R_4$  و  $R_5$  متوالی بوده مقاومت کل مدار خواهد شد.

$$R_{eq} = R_{1,2,3} + R_4 + R_5 \Rightarrow R_{eq} = 5 + 4 + 8 \Rightarrow R_{eq} = 17\Omega$$

$$I = \frac{\varepsilon}{R_{eq} + r} \Rightarrow I = \frac{\varepsilon}{17 + 1} \Rightarrow I = \frac{\varepsilon}{18}$$

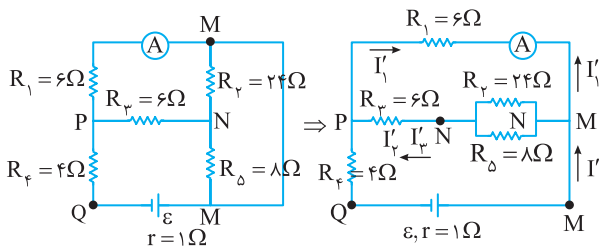
در مقاومت‌های موازی جریان به نسبت وارون مقاومت‌ها تقسیم می‌شود.

$$\frac{I_1}{I_3} = \frac{R_3}{R_{1,2}} \Rightarrow \frac{I_1}{I_3} = \frac{6}{30} \Rightarrow I_3 = 5I_1 \xrightarrow{I = I_1 + I_3} \frac{\varepsilon}{18} = I_1 + 5I_1 \Rightarrow I_1 = \frac{1}{6} \left( \frac{\varepsilon}{18} \right)$$

نگران نباشید تازه در ابتدای مسیر حل مسئله هستیم.

کلید K بسته:

در این حالت با نام‌گذاری نقاط مدار را باید مجدداً رسم کنیم تا بتوانیم موازی و متوالی بودن مقاومت‌ها را تشخیص بدهیم.



باید مقاومت معادل را حساب کنیم.

$$R_{2,5} = \frac{24 \times 8}{24 + 8} \Rightarrow R_{2,5} = 6\Omega$$

$R_5$  و  $R_6$  موازی هستند.

$$R_{2,3,5} = 6 + 6 \Rightarrow R_{2,3,5} = 12\Omega$$

مقاومت  $R_3$  با  $R_{2,5}$  متوالی:

$$R_{1,2,3,5} = \frac{6 \times 12}{6 + 12} \Rightarrow R_{1,2,3,5} = 4\Omega$$

مقاومت  $R_1$  با  $R_{2,3,5}$  موازی:

مقاومت معادل مدار خواهد شد:

$$R'_{eq} = R_{1,2,3,5} + R_4 = 4 + 4 \Rightarrow R'_{eq} = 8\Omega$$

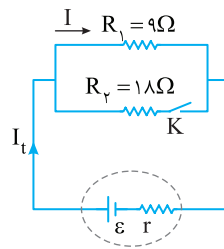
جریان مدار در این حالت برابر است با:

$$I' = \frac{\varepsilon}{R'_{eq}} \Rightarrow I' = \frac{\varepsilon}{8 + 1} \Rightarrow I' = \frac{\varepsilon}{9}$$

۵ اکنون  $F'$  را بر  $F$  تقسیم می‌کنیم.

$$\frac{F'}{F} = \frac{\frac{1}{6} k \frac{q^2}{d^2}}{\frac{1}{2} k \frac{q^2}{d^2}} = \frac{2}{3} \Rightarrow F' = \frac{2}{3} F$$

۴۲ B



۱ کلید K بسته: در این حالت مقاومت‌های

$R_1 = 9\Omega$  و  $R_2 = 18\Omega$  با هم موازی

هستند و در مقاومت‌های موازی، جریان به

نسبت وارون مقاومت‌ها تقسیم می‌شود بنابراین

وقتی جریان مقاومت  $9\Omega$ ،  $I = 2A$  است

جریان مقاومت  $18\Omega$  نصف  $I$  یعنی  $1A$  بوده

و جریان کل مدار برابر خواهد شد با:

$$I_t = 2 + 1 = 3A$$

۲ مقاومت معادل مدار در این حالت خواهد شد:

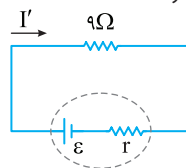
$$\frac{1}{R_{eq}} = \frac{1}{R_1} + \frac{1}{R_2} = \frac{1}{9} + \frac{1}{18} \Rightarrow \frac{1}{R_{eq}} = \frac{2+1}{18} \Rightarrow R_{eq} = 6\Omega$$

۳ جریان مدار در این حالت برابر است با:

$$I = \frac{\varepsilon}{R_{eq} + r} \Rightarrow 3 = \frac{\varepsilon}{6 + r} \quad (I)$$

۴ کلید K باز: تنها مقاومت مدار  $R_1 = 9\Omega$  است که بنا به فرض مسئله جریان آن

$2.5A$  افزایش می‌یابد و برابر  $I' = 2.5A = 2 + 0.5A$  می‌شود.



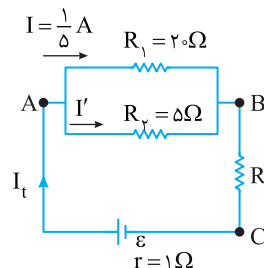
$$I' = \frac{\varepsilon}{R'_{eq}} \Rightarrow 2.5 = \frac{\varepsilon}{9 + r} \quad (II)$$

از این رو می‌توان نوشت:

۵ رابطه (I) را بر رابطه (II) تقسیم می‌کنیم.

$$\frac{3}{2.5} = \frac{6+r}{9+r} \Rightarrow \frac{6}{2.5} + \frac{r}{2.5} = \frac{6}{3} + \frac{r}{6+r} \Rightarrow 2.4 + 0.4r = 2 + \frac{r}{6+r} \Rightarrow r = 3\Omega$$

۴۳ B



به شکل نگاه کنید.

۱ اختلاف پتانسیل دو سر مقاومت

$20\Omega$  همان اختلاف پتانسیل بین نقاط A

و B است از این رو:

$$V_{AB} = IR_1 \Rightarrow V_{AB} = \frac{1}{5} \times 20 = 4V$$

۲ ولتاژ دو سر مقاومت  $5\Omega$  نیز  $4V$  بوده و جریان آن خواهد شد:

$$V = I'R_2 \Rightarrow 4 = I' \times 5 \Rightarrow I' = \frac{4}{5} A$$

۳ جریان مدار را حساب می‌کنیم.


$$I_t = I + I' = \frac{1}{5} + \frac{4}{5} \Rightarrow I_t = 1A$$

۴ اختلاف پتانسیل دو سر باتری خواهد شد:

$$V = V_{AB} + V_{BC} \Rightarrow V = 4 + 3 = 7V$$

۵ اکنون می‌توان نیروی محرکه باتری را به دست آورد.

$$V = \varepsilon - Ir \Rightarrow 7 = \varepsilon - 1 \times 1 \Rightarrow \varepsilon = 8V$$



۸. جریان کل مدار به نسبت ۲ به ۱ بین شاخه آمپرسنج و شاخه موازی با آن تقسیم می‌شود یعنی جریان  $I$  به سه قسمت تقسیم شده و دو قسمت آن از آمپرسنج می‌گذرد.

$$I'_1 = 2 \times \frac{I}{3} \Rightarrow I'_1 = \frac{2}{3} \varepsilon$$

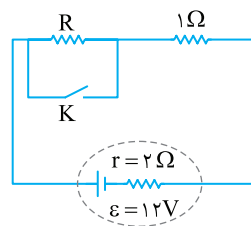
۹. اکنون نسبت  $\frac{I'_1}{I_1}$  را به دست می‌آوریم.

$$\frac{I'_1}{I_1} = \frac{\frac{2}{3} \varepsilon}{\frac{1}{6} \varepsilon} \Rightarrow \frac{I'_1}{I_1} = 8$$

۲ ۴۵ B

یادآوری هرگاه در یک مدار توان خروجی باتری برای  $R_1$  و  $R_2$  یکسان باشد. بین مقاومت درونی باتری ( $r$ ) و مقاومت‌های  $R_1$  و  $R_2$  رابطه زیر برقرار است:

$$r = \sqrt{R_1 R_2}$$



وقتی کلید باز است مقاومت کل مدار  $R_1 = R + 1$  است.

وقتی کلید وصل است مقاومت  $R$  اتصال کوتاه شده و از مدار حذف می‌شود در این حالت مقاومت کل مدار برابر  $R_2 = 1\Omega$  است.

توان خروجی در دو حالت  $R_1$  و  $R_2$  (قطع

و وصل کلید) برابر است، از این رو:

$$r = \sqrt{R_1 R_2} \Rightarrow 2 = \sqrt{(R+1) \times 1} \Rightarrow 4 = R+1 \Rightarrow R = 3\Omega$$