

انٹرنیٹ
نشرالگو

تتمتہ
تمرین امتحان

فیزک دہم

ریاضے

رضا خالو، امیرعلی میری

پاسخہای
تشریحی

سؤالات
امتحانی

سؤالات
تکمیلی

سؤالات
تالیفی

درس نامہ
سؤال محور

مقدمه مؤلف

به نام خدا

سلام به شما دهمی‌های عزیز

سال دهم، سال ورود شما به مقطع جدید (دوره دوم دبیرستان) رو تبریک می‌گیم. سالی که شما احساس می‌کنید برای وفق دادن خودتون با شرایط جدید وقت کافی دارید. البته احساس چندان اشتباهی نیست اما با توجه به اینکه در طراحی جدید آزمون سراسری دانشگاه‌ها، سوابق تحصیلی یا همون نمرات امتحاناتون در آخر سال تأثیر مهمی داره شما باید از ابتدای سال به فکر این آزمون‌ها باشید. همون‌طور که ما به فکر بودیم و برای این موضوع کتابی با شرح حال زیر نوشتیم.

داستان کتاب ما از این قراره که کتاب رو به ۶ قسمت تقسیم کردیم:

۱ درس‌نامه: امتحان نهایی در درس فیزیک معمولاً شامل دو بخش است. یک بخش **حفظی** با سؤال‌های جای خالی، تعریف کنید، درست و نادرست و ... از متن کتاب و بخش دیگر **مسئله‌های محاسباتی**.

الف) برای بخش حفظی، در درس‌نامه تمام قسمت‌های حفظی و مهم متن کتاب درسی را تحت عنوان «خط به خط کتاب درسی» و شکل‌های مهم کتاب را به صورت «عکس و مکث» آوردیم.

ب) برای بخش مسئله‌ها هم، در هر درس‌نامه، مسئله‌ها را تیپ‌بندی کردیم و نکته‌های مهم برای حل مسئله رو در پاسخ اون نوشتیم.

۲ در هر فصل بعد از درس‌نامه کامل، یک‌سری تمرین و کار در منزل برای شما قرار دادیم تا با حل اون‌ها قدرت حل مسئله و آزمون دادن شما بالا بره. در بخش تمارین بیشتر، تمرین‌ها شامل چند قسمت بوده یعنی یک مبحث رو به چند صورت از شما پرسیده‌ایم تا هم شما و هم همکار عزیز ما یعنی معلمتون خیالتون راحت باشه این نمونه سؤال رو یاد گرفتید.

۳ برای محکم‌کاری بیشتر در آخر تمام بخش‌ها مسائل و سؤالاتی با سطح بالاتر گذاشته شده که این سؤال‌ها کمی سخت‌تر هستن. به همین دلیل پیشنهاد می‌کنیم که پس از مشورت با معلم این مسائل رو حل کنین.

۴ در بخش جمع‌بندی مسائل امتحانی بارم‌بندی شده هست که شامل سؤال‌های امتحانی کل فصل بوده و بارم‌بندی اون‌ها رو مشخص کردیم. در پاسخ این مسائل هم کلید تصحیح شبیه امتحانات آموزش و پرورش گذاشته شده. به‌طور مثال مشخص

کردیم که کدوم فرمول باید نوشته بشه و هر بخش از پاسخ چه نمره‌ای داره.

۵ یک سؤال مهم در آزمون نهایی، سؤال‌های مربوط به آزمایش‌کننده‌های کتاب درسی هست که تمام این آزمایش‌کننده‌ها رو در آخر این کتاب و فصل به فصل برای شما قرار دادیم.

۶ حل تمام مسائل و تمرین‌ها در پاسخ‌نامه به‌طور کاملاً تشریحی قرار داره.

در آخر باید بگیم این کتاب

«تمام آن چیزی است که شما برای ۲۰ گرفتن لازم دارید»

در پایان از تلاش صمیمانه کارکنان نشر الگو به ویژه خانم‌ها زهره نوری، شارونا قطبی‌نژاد و آقای محسن شعبان شمیرانی که ویرایش این کتاب بی‌یاری آنان امکان‌پذیر نبود و خانم‌ها فاضله محسنی و مریم احمدی برای تایپ و صفحه‌آرایی کتاب تشکر و قدردانی می‌کنیم.

رضا خالو - امیرعلی میری

فهرست مطالب

فصل اول: فیزیک و اندازه‌گیری

بخش اول: کمیت‌ها - یکاها.....	۲
تمرین‌های بخش اول.....	۵
بخش دوم: تبدیل یکا.....	۷
تمرین‌های بخش دوم.....	۱۱
بخش سوم: اندازه‌گیری.....	۱۴
تمرین‌های بخش سوم.....	۱۵
بخش چهارم: چگالی.....	۱۷

فصل سوم: کار، انرژی و توان

بخش اول: انرژی جنبشی.....	۶۸
تمرین‌های بخش اول.....	۷۰
بخش دوم: کار.....	۷۲
تمرین‌های بخش دوم.....	۷۷
بخش سوم: قضیه کار - انرژی جنبشی.....	۸۰
تمرین‌های بخش سوم.....	۸۴
بخش چهارم: کار و انرژی پتانسیل.....	۸۷
تمرین‌های بخش چهارم.....	۸۹
بخش پنجم: پایستگی انرژی مکانیکی.....	۹۰
تمرین‌های بخش پنجم.....	۹۵
بخش ششم: کار و انرژی درونی - قانون پایستگی انرژی.....	۹۸
تمرین‌های بخش ششم.....	۱۰۳
بخش هفتم: توان و بازده.....	۱۰۵
تمرین‌های بخش هفتم.....	۱۰۹
مسائل تکمیلی.....	۱۱۱
مسائل امتحانی بارم‌بندی شده.....	۱۱۳

فصل دوم: ویژگی‌های فیزیکی مواد

بخش اول: ویژگی‌های ماده - مفاهیم اولیه.....	۳۰
تمرین‌های بخش اول.....	۳۱
بخش دوم: فشار شاره‌ها.....	۳۳
تمرین‌های بخش دوم.....	۳۷
بخش سوم: لوله‌های U شکل.....	۳۹
تمرین‌های بخش سوم.....	۴۰
بخش چهارم: فشار هوا - بارومتر.....	۴۱
تمرین‌های بخش چهارم.....	۴۴
بخش پنجم: فشارسنج شاره‌ها (مانومتر).....	۴۶
تمرین‌های بخش پنجم.....	۴۹

فصل چهارم: دما و گرما

۲۰۹	بخش پنجم: ماشین گرمایی - یخچال
۲۱۵	تمرین‌های بخش پنجم
۲۱۸	مسائل تکمیلی
۲۲۰	مسائل امتحانی بارم‌بندی شده

آزمایش‌های کتاب درسی

۲۲۴	آزمایش‌های فصل ۱، ۲ و ۴
۲۲۵	آزمایش فصل ۵

آزمون‌های نوبت اول

۲۲۶	آزمون ۱
۲۲۸	آزمون ۲
۲۳۰	آزمون ۳

آزمون‌های جامع

۲۳۲	آزمون ۱
۲۳۴	آزمون ۲
۲۳۶	آزمون ۳

فصل ششم: پاسخ‌های تشریحی

۲۴۰	پاسخ‌های تشریحی فصل اول
۲۵۶	پاسخ‌های تشریحی فصل دوم
۲۷۴	پاسخ‌های تشریحی فصل سوم
۳۰۵	پاسخ‌های تشریحی فصل چهارم
۳۳۲	پاسخ‌های تشریحی فصل پنجم
۳۵۴	پاسخ‌های تشریحی آزمایش‌های کتاب درسی
۳۵۷	پاسخ‌های تشریحی آزمون ۱ (نوبت اول)
۳۵۷	پاسخ‌های تشریحی آزمون ۲ (نوبت اول)
۳۵۹	پاسخ‌های تشریحی آزمون ۳ (نوبت اول)
۳۶۱	پاسخ‌های تشریحی آزمون جامع ۱
۳۶۲	پاسخ‌های تشریحی آزمون جامع ۲
۳۶۳	پاسخ‌های تشریحی آزمون جامع ۳

۱۱۸	بخش اول: دما و دماسنجی
۱۲۰	تمرین‌های بخش اول
۱۲۲	بخش دوم: انبساط گرمایی
۱۲۹	تمرین‌های بخش دوم
۱۳۴	بخش سوم: گرما
۱۳۷	تمرین‌های بخش سوم
۱۴۰	بخش چهارم: دمای تعادل
۱۴۳	تمرین‌های بخش چهارم
۱۴۴	بخش پنجم: تغییر حالت‌های ماده
۱۵۱	تمرین‌های بخش پنجم
۱۵۴	بخش ششم: روش‌های انتقال گرما
۱۵۵	تمرین‌های بخش ششم
۱۵۷	بخش هفتم: قوانین گازها
۱۶۳	تمرین‌های بخش هفتم
۱۶۷	مسائل تکمیلی
۱۷۰	مسائل امتحانی بارم‌بندی شده

فصل پنجم: ترمودینامیک

	بخش اول: فرایندهای ترمودینامیکی - قانون اول
۱۷۶	ترمودینامیک
۱۷۹	تمرین‌های بخش اول
۱۸۱	بخش دوم: فرایندهای هم‌حجم و هم‌فشار
۱۸۶	تمرین‌های بخش دوم
	بخش سوم: فرایندهای هم‌دما و بی‌دررو - فرایندهای
۱۸۹	غیرخاص و ترکیب فرایندها
۱۹۶	تمرین‌های بخش سوم
۲۰۱	بخش چهارم: چرخه ترمودینامیکی
۲۰۵	تمرین‌های بخش چهارم

۷۱ به پرسش‌های زیر پاسخ دهید.

- (الف) اگر بر سطح یک شیشه دوداندود چند قطره آب بریزیم، آب به چه صورت بر این سطح قرار می‌گیرد؟ علت را توضیح دهید.
 (ب) علت آن که درون لوله موئین، سطح آب فرو رفته و درون لوله موئین سطح جیوه برآمده است، چیست؟
 (پ) معمولاً دیواره‌های کنار باغچه‌ها مرطوب است، علت را بیان کنید.
 (ت) عامل بالا رفتن نفت از فتیله چراغ نفتی چیست؟

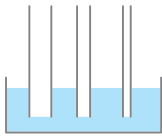
۷۲ یک مایع روی سطح جامدی ریخته‌ایم. در هر حالت نحوه قرارگیری مایع روی سطح را نشان دهید.

- (الف) نیروی هم‌چسبی بین مولکول‌های مایع بیشتر از نیروی دگرچسبی بین مایع و سطح باشد.
 (ب) نیروی هم‌چسبی بین مولکول‌های مایع کمتر از نیروی دگرچسبی بین مایع و سطح باشد.

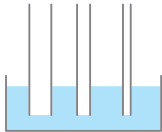
۷۳ در هر یک از پدیده‌های زیر علت پخش شدن مایع چیست؟

- (الف) پخش شدن نفت در سطح آب دریا
 (ب) پخش شدن آب روی سطح تمیز شیشه
 (پ) پخش شدن جوهر در آب


۷۴ (الف) نحوه قرارگیری آب در لوله‌های موئین شکل زیر را به صورت تقریبی نشان دهید.



(ب) نحوه قرارگیری جیوه در لوله‌های موئین شکل زیر را به صورت تقریبی نشان دهید.



۷۵ شکل‌های (الف) و (ب) نحوه قرارگیری دو مایع درون لوله شیشه‌ای را نشان می‌دهد. نیروی هم‌چسبی مایع و نیروی دگرچسبی مایع با شیشه را در هر شکل با هم مقایسه کنید.



بخش دوم: فشار شاره‌ها

صفحه ۳۲ تا ۳۶ کتاب درسی

تعریف فشار برابر است با نسبت اندازه نیروی عمودی وارد بر سطح به مساحت سطح نیوتون $\rightarrow P = \frac{F}{A}$ پاسکال
 متر مربع \rightarrow

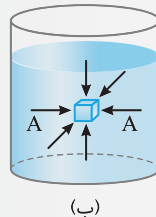
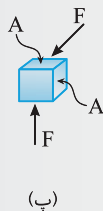
هر پاسکال برابر 1 N/m^2 است.

خطبه خط کتاب

- با وجود اینکه شاره به عنوان کل ساکن است مولکول‌های آن در حال حرکت‌اند.
- نیرویی که توسط شاره به دیواره داخلی ظرف یا به جسم درون شاره وارد می‌شود به دلیل این حرکت‌ها و نیروی تماسی بین مولکولی است.
- برای گازهای رقیق، به علت اینکه فاصله متوسط بین مولکول‌ها زیاد است، تقریباً تمام این نیرو ناشی از برخورد مولکول‌های گاز است.

عکس و مکث کتاب

(الف) برخورد مولکول‌های هوای درون لاستیک به (ب) به هر نقطه از سطح جسم غوطه‌ور در شاره (پ) برای سادگی تنها نیروهای وارد بر دو سطح سطح داخلی آن سبب ایجاد نیروی عمودی می‌شود. (آب) نیرویی عمودی وارد می‌شود. که به صورت عمود است نشان داده شده است.



• تیپ ۲ - ۱: به دست آوردن فشار از نیرو

مسئله ۱



غواصی که مساحت عینک او 180 cm^2 است، در زیر آب در حال غواصی بوده و فشار آب در محل عینک او $2 \times 10^5 \text{ Pa}$ است. نیرویی که توسط آب بر عینک غواص وارد می‌شود چند نیوتون است؟

$$A = 180 \text{ cm}^2 \times \frac{1 \text{ m}^2}{10^4 \text{ cm}^2} \Rightarrow A = 180 \times 10^{-4} \text{ m}^2$$

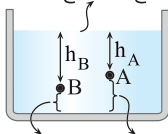
راه‌حل ابتدا باید مساحت عینک را برحسب مترمربع بنویسیم:

به کمک تعریف فشار نیروی وارد بر عینک توسط آب را حساب می‌کنیم:

$$P = \frac{F}{A} \Rightarrow 2 \times 10^5 = \frac{F}{180 \times 10^{-4}} \xrightarrow{\text{طرفین وسطین}} F = 2 \times 10^5 \times 180 \times 10^{-4} \Rightarrow F = 3600 \times 10 \Rightarrow F = 3600 \text{ N}$$

رابطه فشار شاره‌ها برحسب عمق شاره

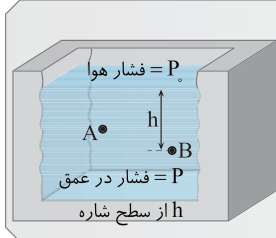
عمق مایع (m) \rightarrow چگالی مایع (kg/m^3)
 شتاب گرانش (m/s^2)
 $P = \rho gh$
 سطح آزاد مایع



- در رابطه فشار شاره، h عمق مایع یعنی فاصله قائم هر نقطه درون مایع تا سطح آزاد مایع است. به طور مثال در شکل روبه‌رو عمق نقطه A ، h_A و عمق نقطه B ، h_B است.

این قسمت عمق A نیست. این قسمت عمق B نیست.

عکس‌ومکث کتاب



برای هر دو شاره ساکن فشار از رابطه ρgh به دست می‌آید اما چون چگالی گازها خیلی کم است، اختلاف فشار بین دو نقطه در محفظه گاز ناچیز است:

$$\begin{cases} P_B > P_A \\ P_{A'} \approx P_{B'} \end{cases}$$

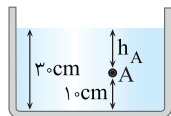
• تیپ ۲ - ۲: فشار حاصل از مایع

مسئله ۲

در یک ظرف تا ارتفاع 30 cm مایعی به چگالی 4 g/cm^3 ریخته شده است. در نقطه A واقع در ارتفاع 10 cm از کف ظرف فشار را بیابید. ($g = 10 \text{ m/s}^2$)

$$\rho = 4 \text{ g/cm}^3 \times 1000 \Rightarrow \rho = 4000 \text{ kg/m}^3$$

راه‌حل تمام یکاها را باید به یکای SI تبدیل کنیم تا فشار برحسب پاسکال به دست آید. برای تبدیل g/cm^3 به kg/m^3 کافی است آن را در عدد 1000 ضرب کرد.



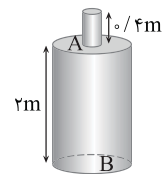
$$h_A = 30 - 10 = 20 \text{ cm} \Rightarrow h = \frac{20}{100} = 0.2 \text{ m}$$

عمق نقطه A از سطح آزاد مایع برابر است با:

$$P = \rho gh \Rightarrow P = 4000 \times 10 \times 0.2 \Rightarrow P = 8000 \text{ Pa}$$

فشار مایع در نقطه A را حساب می‌کنیم:

مسئله ۳



لوله باریکی مطابق شکل، بالای بشکه‌ای وصل شده است. این ظرف تا سر لوله پر از آب است. فشار حاصل از مایع را در A (سر بشکه) و B (ته بشکه) به دست آورید. (فشار جو را در نظر نگیرید و $\rho_{\text{آب}} = 1 \text{ g/cm}^3$)

راه‌حل نکته فشار مایع به چگالی و عمق مایع بستگی دارد و شکل ظرف و مساحت کف آن در فشار مایع بی‌تأثیر است. چگالی آب را برحسب kg/m^3 می‌نویسیم:

$$\rho = 1 \text{ g/cm}^3 \times 1000 = 1000 \text{ kg/m}^3$$

با توجه به رابطه فشار برای مایع، فشار در نقطه A و B را به دست می‌آوریم:

$$P_A = \rho gh_A = 1 \times 10^3 \times 10 \times \frac{4}{10} = 4 \times 10^3 \text{ Pa}$$

$$P_B = \rho gh_B = 1 \times 10^3 \times 10 \times \frac{2}{4} = 24 \times 10^3 \text{ Pa}$$

$$P = P_0 + \rho gh$$

مجموع فشار هوا و فشار مایع

خطبه خط کتاب

P_0 : فشار هوای محیط است. فشار هوا در سطح دریای آزاد حدود 1.0135×10^5 پاسکال (Pa) است که به آن ۱ اتمسفر (atm) گویند. $P_0 = 1 \text{ atm} \approx 1.0135 \times 10^5 \text{ Pa}$. این رابطه نشان می‌دهد فشار در عمق h از سطح شاره، به اندازه ρgh از فشار P_0 در سطح شاره بیشتر است.

• تیپ ۲ - ۳: فشار کل مایع

مسئله ۴

چگالی آب دریاچه ای 1200 kg/m^3 است. در چه عمقی از سطح آب دریاچه، فشار کل برابر ۷ اتمسفر است؟ ($g = 10 \text{ m/s}^2$, $P_0 = 1 \text{ atm} = 10^5 \text{ Pa}$)

راه حل با توجه به فرض مسئله:

$$P = 7 \text{ atm} \Rightarrow P = 7 \times 10^5 \text{ Pa}$$

فشار کل را نوشته و عمق مورد نظر را حساب می کنیم:

$$P = P_0 + \rho gh \Rightarrow 7 \times 10^5 = 10^5 + 1200 \times 10 \times h \Rightarrow 6 \times 10^5 = 12 \times 10^3 \times h \Rightarrow h = 50 \text{ m}$$

• تیپ ۲ - ۴: نیروی حاصل از فشار مایع در عمق h

مسئله ۵

در عمق ۲ متری آب دریاچه ای در بدنه یک قایق تفریحی، یک سوراخ به مساحت 3 cm^2 ایجاد شده است. برای جلوگیری از نفوذ آب به درون قایق چه نیرویی بر سطح سوراخ باید اعمال گردد؟ ($g = 10 \text{ m/s}^2$, $\rho_{\text{آب}} = 1 \text{ g/cm}^3$)

راه حل نکته با توجه به تعریف فشار و فشار مایع می توان نوشت:

$$P = \frac{F}{A} \Rightarrow F = PA \xrightarrow{P = \rho gh} F = \rho ghA$$

چگالی و مساحت را بر حسب یکای SI باید بنویسیم تا نیرو بر حسب نیوتون به دست بیاید.

$$\rho = 1 \text{ g/cm}^3 \times 1000 \Rightarrow \rho = 1000 \text{ kg/m}^3 \quad A = 3 \text{ cm}^2 \times \frac{1 \text{ m}^2}{10^4 \text{ cm}^2} \Rightarrow A = 3 \times 10^{-4} \text{ m}^2$$

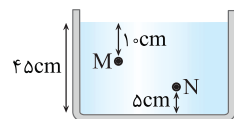
تبدیل به cm^2 به m^2

اکنون نیرو را به دست می آوریم:

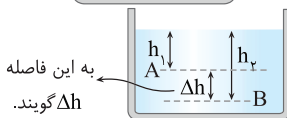
$$F = \rho ghA \Rightarrow F = 1000 \times 10 \times 2 \times 3 \times 10^{-4} \Rightarrow F = 6 \text{ N}$$

• تیپ ۲ - ۵: اختلاف فشار در دو نقطه از یک مایع ساکن

مسئله ۶



مایعی به چگالی 0.8 kg/L درون ظرف شکل روبه رو ریخته شده است. اختلاف فشار بین نقاط M و N را بیابید. ($g = 10 \text{ N/kg}$)



به این فاصله Δh گویند.

راه حل نکته اختلاف فشار دو نقطه از مایع به اختلاف فاصله قائم آنها از هم بستگی دارد.

$$\Delta P_{AB} = P_B - P_A = \rho gh_B - \rho gh_A \Rightarrow \Delta P_{AB} = \rho g(h_B - h_A) \Rightarrow \Delta P_{AB} = \rho g \Delta h_{AB}$$

ابتدا اختلاف عمق نقاط M و N را از روی شکل بر حسب متر به دست می آوریم.

$$\Delta h = 45 - 10 - 5 \Rightarrow \Delta h_{MN} = 30 \text{ cm} = 0.3 \text{ m}$$

یکای چگالی را به یکای SI تبدیل می کنیم.

$$\rho = 0.8 \frac{\text{kg}}{\text{L}} \times \frac{10^3 \text{ L}}{1 \text{ m}^3} \Rightarrow \rho = 800 \text{ kg/m}^3$$

تبدیل لیتر به m^3


اختلاف فشار را حساب می کنیم:

$$\Delta P = \rho g \Delta h \Rightarrow \Delta P_{MN} = 800 \times 10 \times 0.3 \Rightarrow \Delta P_{MN} = 2400 \text{ Pa}$$

• تیپ ۲ - ۶: حل مسئله با استفاده از وزن مایع

مسئله ۷

مقدار 3 kg روغن در یک قابلمه قرار دارد و مساحت کف قابلمه 1200 cm^2 است. فشار وارد بر کف قابلمه چند پاسکال است؟ ($g = 10 \text{ N/kg}$)



راه حل نکته در حل بعضی از مسائل فشار مایع، که مایع در ظرف استوانه ای یا مکعبی شکل قرار دارد یعنی در ظرفی که

سطح مقطع آن در هر ارتفاعی یکسان است، می توان از وزن مایع استفاده کرد.

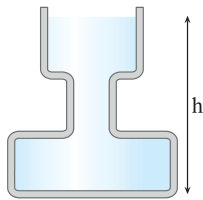
$$P = \frac{F}{A} \xrightarrow{F=W} P = \frac{mg}{A}$$

در این مسئله روغن درون قابلمه ریخته شده است و فشار وارد بر کف خواسته شده است، این فشار ناشی از وزن مایع است. دقت کنید که ارتفاع مایع و چگالی آن داده نشده است پس بهتر است فشار را به صورت زیر به دست آورد:

$$P = \frac{mg}{A} = \frac{3 \times 10}{1200 \times 10^{-4}} \Rightarrow P = \frac{30 \times 10^4}{1200} \Rightarrow P = \frac{3000}{12} \Rightarrow P = 250 \text{ Pa}$$

تبدیل به m^2

مسئله ۸



در شکل روبه‌رو ظرف تا ارتفاع h از آب پر شده است و سطح مقطع ظرف در سه قسمت از بالا به پایین به ترتیب $۰/۰۴\text{m}^2$ ، $۰/۰۲\text{m}^2$ و $۰/۰۸\text{m}^2$ است. اگر ۲ لیتر آب به آب ظرف اضافه کنیم، فشار در کف ظرف چند پاسکال افزایش می‌یابد؟
 ($g=10\text{N/kg}$ ، $\rho_{\text{آب}}=1000\text{kg/m}^3$)

راه‌حل / نکته در کتاب علوم نهم اصل پاسکال به صورت زیر بیان شده است:

اصل پاسکال: هر تغییری در فشار وارد بر هر شاره تراکم‌ناپذیر و محبوس بدون کاهش به تمام قسمت‌های شاره و دیواره‌های ظرف منتقل می‌شود.

$$\rho = \frac{m}{V} \Rightarrow 1000 = \frac{m}{2 \times 10^{-3}} \Rightarrow m = 2\text{ kg} \quad W = mg \Rightarrow W = 2 \times 10 = 20\text{ N}$$

تبدیل به m^3

این آب در دهانه ظرف با مساحت $۰/۰۴\text{m}^2$ ریخته شده است و فشاری برابر مقدار زیر ایجاد می‌کند: $P = \frac{W}{A} \Rightarrow P = \frac{20}{0.04} \Rightarrow P = 500\text{ Pa}$
 طبق اصل پاسکال این فشار به تمام نقاط مایع از جمله کف ظرف وارد شده و فشار وارد بر کف ظرف 500 Pa افزایش می‌یابد.

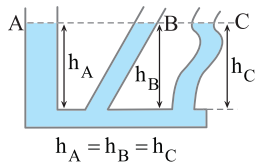
برای حل این مسئله نیز می‌توان از روش دیگری استفاده کرد. در این روش، افزایش ارتفاع آب پس از افزودن 2L آب را حساب می‌کنیم.

$$\Delta V = A \Delta h \Rightarrow 2 \times 10^{-3} = 0.04 \Delta h \Rightarrow \Delta h = 0.05\text{ m}$$

$$\Delta P = \rho g \Delta h \Rightarrow \Delta P = 1000 \times 10 \times 0.05 = 500\text{ Pa}$$

افزایش فشار خواهد شد:

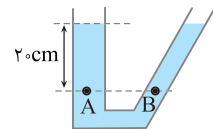
• تیپ ۲ - ۷: ظروف مرتبط



در ظروف مرتبط که محتوی یک مایع معینی هستند، مایع در طرف‌ها هم‌سطح است. علت آن نیز وابستگی فشار مایع به عمق مایع است و این که شکل ظرف در فشار مایع تأثیری ندارد. - در تمام ظرف‌های محتوی مایع، سطح مایع درون ظرف افقی قرار می‌گیرد.

$$h_A = h_B = h_C$$

مسئله ۹



در شکل روبه‌رو مایعی به چگالی 2000 g/L در دو ظرف مرتبط با هم ریخته شده است. فشار در نقطه A چقدر است؟ در نقطه B چطور؟ ($P_0 = 10^5\text{ Pa}$ ، $g = 10\text{ N/kg}$)

راه‌حل / نکته فشار در نقطه A مجموع فشار هوا و فشار مایع به ارتفاع 20 cm است. یکای چگالی را به SI تبدیل می‌کنیم:

$$\rho = 2000 \frac{\text{g}}{\text{L}} \times \frac{1\text{ kg}}{1000\text{ g}} \times \frac{10^{-3}\text{ L}}{1\text{ m}^3} \Rightarrow \rho = 2000\text{ kg/m}^3$$

$$P = \rho g h_A \Rightarrow P_A = 2000 \times 10 \times 0.2 \Rightarrow P_A = 4000\text{ Pa}$$

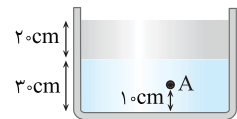
نکته در ظروف مرتبط محتوی یک مایع ساکن فشار در تمام نقاط هم‌عمق با هم برابر است.

$$P_B = P_A = 4000\text{ Pa}$$

عمق نقطه B و عمق نقطه A یکسان است، بنابراین فشار در نقطه B خواهد شد:

• تیپ ۲ - ۸: فشار حاصل از دو یا چند مایع

مسئله ۱۰



در شکل روبه‌رو دو مایع با چگالی‌های 800 kg/m^3 و 900 kg/m^3 درون ظرف استوانه‌ای شکلی ریخته شده‌اند. الف) فشار در کف ظرف چقدر است؟ ب) فشار حاصل از دو مایع در نقطه A را بیابید. ($P_0 = 10^5\text{ Pa}$ ، $g = 10\text{ N/kg}$)

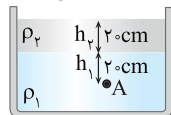
راه‌حل / نکته هرگاه چند مایع مخلوط‌نشده درون ظرفی ریخته می‌شود، مایع‌ها به ترتیب چگالی روی هم قرار می‌گیرند و مایع دارای بیشترین چگالی ته‌نشین می‌شود و مایع دارای کمترین چگالی روی سطح قرار می‌گیرد. $\rho_A > \rho_B > \rho_C$

فشار حاصل از چند مایع درون ظرف مجموع فشار تک تک مایع‌ها است. $P_{\text{ته}} = P_A + P_B + P_C$

الف) مایعی که ته‌نشین شده دارای چگالی 900 kg/m^3 است. فشار در کف ظرف را حساب می‌کنیم: $P_{\text{کف}} = P_0 + P_1 + P_2 \Rightarrow P = P_0 + \rho_1 g h_1 + \rho_2 g h_2$

$$\Rightarrow P_{\text{کف}} = 10^5 + 900 \times 10 \times 0.3 + 800 \times 10 \times 0.2 \Rightarrow P = 10^5 + 27000 + 16000 \Rightarrow P = 104300\text{ Pa}$$

ب) فشار ناشی از دو مایع در نقطه A:



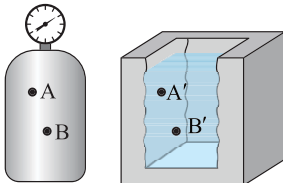
$$P_A = \rho_1 g h_1 + \rho_2 g h_2 \Rightarrow P_A = 900 \times 10 \times 0.2 + 800 \times 10 \times 0.2 \Rightarrow P_A = 18000 + 16000 = 34000\text{ Pa}$$

در این بخش نمونه سؤالاتی که احتمال طرح در امتحان نهایی دارند، برات آماده کردیم تا قوی‌تر تمرین کنی. شماره تیب هر سؤال کنارش اومده که آگه نتونستی حل کنی، بتونی از درس‌نامه اون تیب رو مطالعه کنی.

۷۶ به پرسش‌های زیر پاسخ دهید.



الف) در شکل روبه‌رو تندی خروجی آب از قسمت‌های A و B را با هم مقایسه کنید. شکل ۲-۱۲، صفحه ۳۳ کتاب درسی



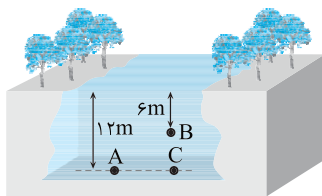
ب) در شکل روبه‌رو نقاط A و B در مخزن گاز و A' و B' نقطه‌ای در یک مایع‌اند. فشار نقاط A و B را با یکدیگر و سپس فشار نقاط A' و B' را نیز با هم مقایسه کنید. شکل ۲-۱۵، صفحه ۳۴ کتاب درسی

۷۷ الف) در عمق ۸ متری مایعی، فشار کل ۱/۷۶ اتمسفر است. اگر فشار هوا ۱ اتمسفر باشد، چگالی مایع را به دست آورید. (تیپ ۲-۲ و ۳-۲) مثال ۲-۲، صفحه ۳۵ کتاب درسی

$$(g = 10 \text{ N/kg}, 1 \text{ atm} = 10^5 \text{ Pa})$$

ب) اگر فشار هوا 10^5 پاسکال باشد، فشار در عمق ۲ متری آب یک استخر چند پاسکال است؟ ($\rho_{\text{آب}} = 1 \text{ g/cm}^3$)

۷۸ الف) در شکل روبه‌رو فشار در نقاط A و B را حساب کنید. ($\rho_{\text{آب}} = 1 \text{ g/cm}^3$, $g = 10 \text{ N/kg}$, $P_0 = 10^5 \text{ Pa}$) مثال ۲-۲، صفحه ۳۵ کتاب درسی



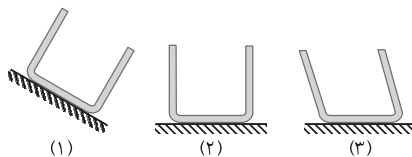
ب) همچنین فشار حاصل از آب را در نقاط A و B به دست آورید. (تیپ ۲-۲ و ۳-۲)
پ) فشار در نقاط A و C را با هم مقایسه کنید.

۷۹ در عمق ۵cm مایعی فشار ۱۰۰kPa و در عمق ۲۰cm آن فشار ۱۰۶kPa است: (تیپ ۲-۲ و ۳-۲) تمرین ۲-۲، صفحه ۳۶ کتاب درسی

الف) چگالی مایع را به دست آورید.

ب) فشار هوای محیط را حساب کنید.

۸۰ در سه ظرف نشان داده شده آب ریخته شده است. در کدام یک از ظرف‌ها نیروی وارد از طرف آب بر دیواره طرف عمود است؟ (تیپ ۲-۲)



۸۱ الف) هواپیمایی در ارتفاعی از سطح زمین در حال پرواز است. فشار هوا در این ارتفاع ۷۰ kPa است. اگر پنجره‌های هواپیما دایره‌هایی با قطر

تمرین ۲-۱، صفحه ۳۶ کتاب درسی

۴۰cm باشد، نیروی وارد بر سطح خارجی این پنجره‌ها چند نیوتون است؟ ($\pi \approx 3$) (تیپ ۲-۱ و ۴-۲)

ب) شناگری در عمق ۵ متری از سطح آب دریاچه‌ای شنا می‌کند. اگر مساحت پرده گوش را یک سانتی‌متر مربع فرض کنیم، بزرگی نیرویی که به پرده گوش این شناگر وارد می‌شود، چند نیوتون است؟ (فشار هوا را 10^5 پاسکال بگیرد و $\rho_{\text{آب}} = 1 \text{ g/cm}^3$)

تمرین ۲-۱، صفحه ۳۶ کتاب درسی

پ) یک زیردریایی در عمق ۲۰۰ متری زیر آب غوطه‌ور است. بالای این زیردریایی دریچه‌ای مربعی به ابعاد $0/8$ متر نصب شده است. برای بازکردن این دریچه حداقل چند نیوتون نیرو لازم است؟ ($\rho_{\text{آب}} = 1 \text{ g/cm}^3$)

مثال ۲-۱، صفحه ۳۳ کتاب درسی

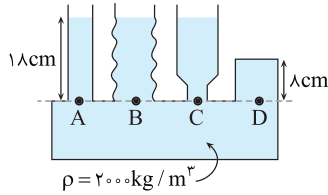
۸۲ در یک لوله استوانه‌ای قائم تا ارتفاع ۱۰cm مایعی به چگالی $7/2 \text{ g/cm}^3$ می‌ریزیم. قطر داخلی لوله ۴cm است. الف) فشار وارد بر کف

استوانه را حساب کنید. ($\pi \approx 3$, $P_0 = 10^5 \text{ Pa}$, $g = 10 \text{ N/kg}$) (تیپ ۲-۶)

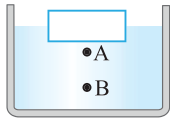
ب) فشار حاصل از مایع در کف استوانه را حساب کنید.

پ) نیروی وارد از طرف مایع بر کف لوله را به دست آورید.

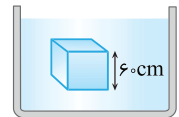
ت) نیروی وارد بر کف لوله را به دست آورید.



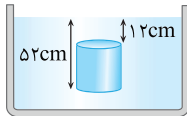
۸۳ در شکل زیر، مایع درون لوله‌های مرتبط در حال تعادل است. الف) فشار در نقاط A، B، C و D را با هم مقایسه کنید. (تیپ ۲-۵ و ۲-۷)
 ب) فشار حاصل از مایع در نقطه D چقدر است؟ ($g = 10 \text{ N/kg}$)
 پ) اگر مساحت مقطع شاخه سمت راست برابر 10 cm^2 باشد، نیروی وارد به انتهای این شاخه چند نیوتون است؟



ت) در ظرف حاوی آب (شکل مقابل) اگر قطعه چوب را روی سطح آب قرار دهیم فشار در نقطه A به اندازه ΔP_A و در نقطه B به اندازه ΔP_B افزایش می‌یابد. ΔP_B و ΔP_A را با هم مقایسه کنید.



۸۴ الف) در شکل زیر جسم درون مایعی غوطه‌ور است. اگر فشار در بالا و زیر جسم به ترتیب 100 و 115 کیلوپاسکال باشد، چگالی شاره را به دست آورید. (تیپ ۲-۵)



ب) استوانه‌ای توپر که شعاع قاعده آن 2 cm است، مطابق شکل درون آب به چگالی 1 g/cm^3 غوطه‌ور است. اختلاف نیرویی که از طرف آب به قاعده‌های پایین و بالای استوانه وارد می‌شود، چند نیوتون است؟ ($\pi \approx 3$)

تمرین ۲-۲، صفحه ۳۶ کتاب درسی

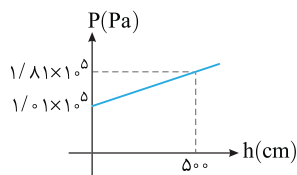
۸۵ در سؤالات زیر نسبت‌های خواسته شده را به دست آورید. (تیپ ۲-۲ و ۲-۴)

الف) دو ظرف مشابه A و B در اختیار داریم. در هر دو ظرف تا ارتفاع یکسان مایع می‌ریزیم. مایع ریخته شده در ظرف A دارای چگالی 1 g/cm^3 و مایع ریخته شده در ظرف B دارای چگالی $1/8 \text{ g/cm}^3$ است. نسبت فشار مایع در کف ظرف A به فشار مایع در کف ظرف B را بیابید.

ب) دو ظرف مکعب شکل A و B در اختیار داریم که ابعاد ظرف A دو برابر ابعاد ظرف B است. اگر هر دو ظرف را از مایع یکسانی پر کنیم، فشار مایع در کف ظرف A چند برابر فشار مایع در کف ظرف B است؟

پ) ظرف مکعب شکل A پر از مایع بوده و فشار در کف ظرف برابر P_A است. اگر تمام مایع را در ظرف مکعب شکل B بریزیم که ابعاد آن دو برابر ظرف A باشد، فشار در کف ظرف P_B می‌شود. نسبت $\frac{P_A}{P_B}$ را بیابید.

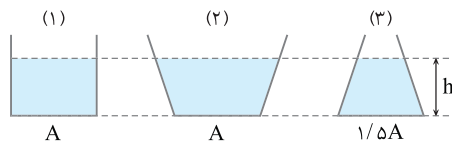
ت) در قسمت‌های (ب) و (پ) نسبت نیروی وارده از طرف مایع بر کف ظرف‌ها را حساب کنید.



۸۶ شکل زیر، نمودار فشار بر حسب عمق مایع (h) را نشان می‌دهد.

الف) چگالی مایع را حساب کنید. ($g = 10 \text{ N/kg}$)

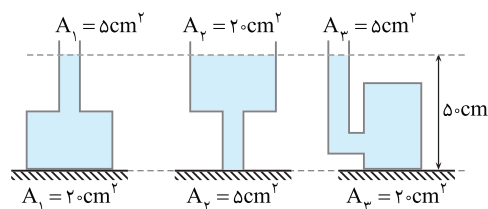
ب) فشار حاصل از مایع در عمق 1 m را بیابید.



۸۷ در ظرف‌های شکل روبه‌رو مقداری آب ریخته شده است. (تیپ ۲-۴)

الف) فشار در کف ظرف‌ها را با هم مقایسه کنید.

ب) نیروی وارد بر کف ظرف‌ها توسط مایع را با هم مقایسه کنید.



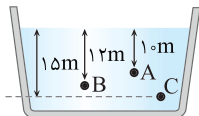
۸۸ در شکل‌های زیر در ظرف‌ها مایعی به چگالی $3/6 \text{ g/cm}^3$ ریخته شده است.

نیرویی که مایع بر کف ظرف وارد می‌کند چند نیوتون است؟ ($g = 10 \text{ N/kg}$)

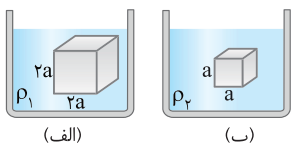
(تیپ ۲-۴)

مسائل تکمیلی

در این قسمت، برای مکمل‌کاری سؤالاتی که کمی سطح بالاتری از آزمون نهایی دارند، آورده‌ایم؛ آنگه فکر می‌کنی که سؤالات بخش‌های قبلی رو کامل بلدی و دنبال سوال سخت‌تر هستی، هتماً این قسمت رو حل کن.

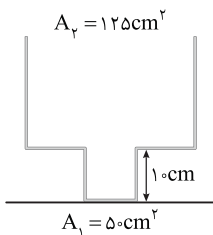


۱ در یک استخر مطابق شکل روبه‌رو مقداری مایع وجود دارد. اگر فشار در نقطه A برابر $2/4 \text{ atm}$ و در نقطه B برابر $2/48 \text{ atm}$ باشد، فشار در نقطه C چند اتمسفر است؟

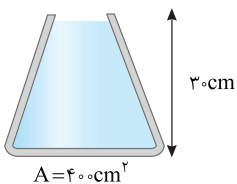


۲ مطابق شکل روبه‌رو دو جسم مکعبی شکل که طول اضلاع آن‌ها a و $2a$ است، در دو ظرف حاوی مایع به چگالی‌های ρ_1 و ρ_2 غوطه‌ور و در حال تعادل هستند. اگر اختلاف فشار بین سطح پایین و سطح بالایی مکعب‌ها در دو مایع با هم برابر باشد، ρ_2 / ρ_1 را به دست آورید.

۳ در یک لوله آزمایش تا ارتفاع ۲۸ سانتی‌متر به جرم‌های مساوی جیوه و آب ریخته‌ایم. فشار وارد بر کف ظرف از طرف دو مایع چند کیلوپاسکال است؟ ($\rho_{\text{H}_2\text{O}} = 1 \text{ g/cm}^3$, $\rho_{\text{Hg}} = 13 \text{ g/cm}^3$)

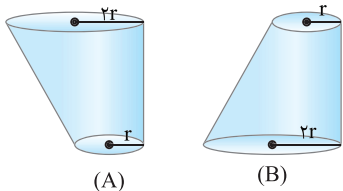


۴ در شکل روبه‌رو اگر $2/5 \text{ L}$ آب به درون ظرف بریزیم ($A_1 = 50 \text{ cm}^2$, $A_2 = 125 \text{ cm}^2$, $\rho_{\text{آب}} = 1 \text{ g/cm}^3$) (الف) فشار وارد بر کف از طرف آب چند پاسکال است؟ (ب) نیروی وارد بر کف ظرف چند نیوتون است؟

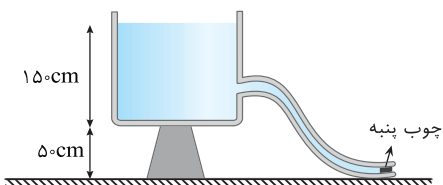


۵ در شکل روبه‌رو ظرفی محتوی آب نشان داده شده است: ($\rho = 1 \text{ g/cm}^3$, $g = 10 \text{ N/kg}$)

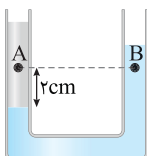
- (الف) فشار وارد بر کف ظرف توسط مایع را بیابید.
- (ب) اگر فشار هوای محیط 1 bar باشد، فشار کل وارد بر کف ظرف را بیابید.
- (پ) نیروی وارد از طرف مایع بر ته ظرف را بیابید؟
- (ت) نیروی کل وارد بر ته ظرف را بیابید؟



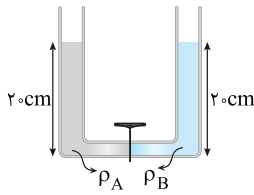
۶ در شکل داده شده حجم و عمق آب در هر دو ظرف مشابه‌اند. (الف) فشار وارد بر کف ظرف‌ها از طرف آب را با هم مقایسه کنید. (ب) نیروهای وارد بر کف ظرف از طرف آب را با هم مقایسه کنید. (پ) نیروی وارد بر سطح افقی که ظرف‌ها روی آن قرار دارند از طرف دو ظرف را با هم مقایسه کنید.



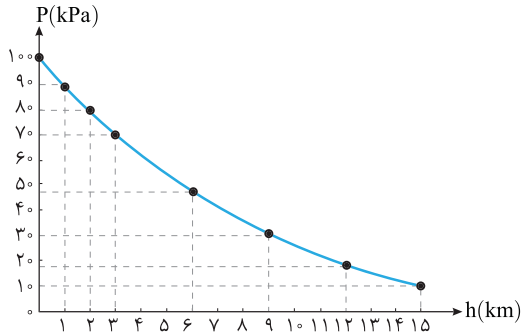
۷ در شکل روبه‌رو، آب یک مخزن توسط شیلنگی به سطح مقطع 5 cm^2 بیرون می‌ریزد. اگر ته شیلنگ توسط چوب‌پنبه بسته شود و جریان آب قطع گردد، نیروی اصطکاک بین چوب‌پنبه و شیلنگ چند نیوتون است؟ ($\rho_{\text{آب}} = 1 \text{ g/cm}^3$, $g = 10 \text{ N/kg}$ و $P_0 = 10^5 \text{ Pa}$)



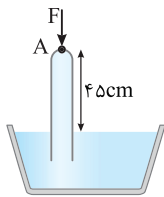
۸ در شکل روبه‌رو دو مایع با چگالی‌های $1/2 \text{ g/cm}^3$ و $9/10 \text{ g/cm}^3$ در یک لوله U شکل قرار دارند. اختلاف فشار بین دو نقطه A و B چند پاسکال است؟



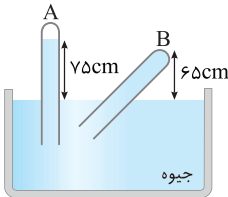
۹ در شکل روبه‌رو، قطر قاعده دو استوانه با هم برابر و قطر لوله رابط ناچیز است. اگر شیر ارتباط را باز کنیم، سطح مایع A چند سانتی‌متر پایین می‌آید؟ ($\rho_A = 2\rho_B$)



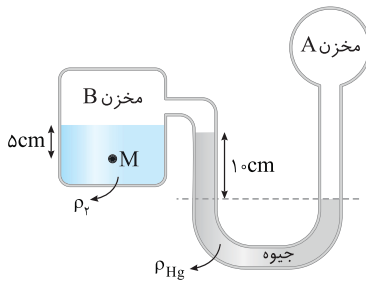
۱۰ شکل روبه‌رو چگالی هوا در ارتفاع‌های مختلف را نشان می‌دهد. اگر اختلاف فشار هوا از سطح زمین تا ۵ km سطح زمین را ΔP_1 و از ۵ km سطح زمین تا ۱۰ km سطح زمین را ΔP_2 بگیریم، ΔP_1 و ΔP_2 را با هم مقایسه کنید.



۱۱ در شکل روبه‌رو لوله به وسیله نیروی $F = 27N$ در نقطه A در حالت تعادل باقی مانده است. فشار هوای محیط چند سانتی‌متر جیوه است؟
(مساحت سطح لوله 5cm^2 و $\rho_{\text{مایع}} = 9\text{g/cm}^3$ و $\rho_{\text{جیوه}} = 13/5\text{g/cm}^3$ است.)



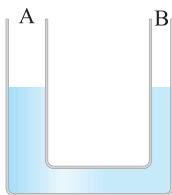
۱۲ در شکل روبه‌رو بالای لوله A تقریباً خلأ است.
(الف) فشار در انتهای لوله B چند سانتی‌متر جیوه و چند پاسکال است؟ ($\rho_{\text{جیوه}} = 13/6\text{g/cm}^3$)
(ب) اگر سطح مقطع لوله‌ها 5cm^2 باشد، نیروی وارد بر انتهای لوله B چند نیوتون است؟



۱۳ در شکل مقابل اگر فشار مخزن A، 84cmHg باشد، فشار در نقطه M چند سانتی‌متر جیوه است؟
($\rho_{\text{ر}} = 6/8\text{g/cm}^3$, $\rho_{\text{Hg}} = 13/6\text{g/cm}^3$)



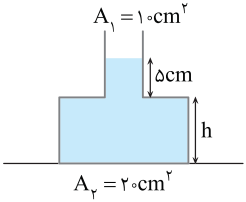

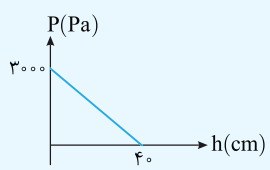
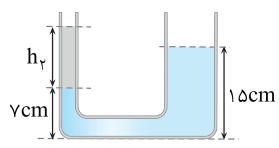
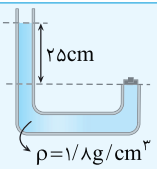
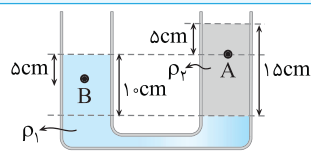
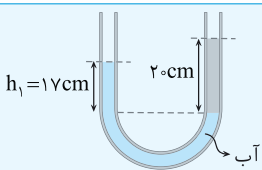
۱۴ در شکل روبه‌رو، چگالی مایع درون لوله $\rho = 12\text{g/cm}^3$ و فشار گاز درون مخزن 10^4Pa است، اگر مخزن سوراخ شود. مایع در شاخه سمت چپ چند سانتی‌متر پایین می‌رود؟
($P_0 = 10^5\text{Pa}$)



۱۵ در شکل روبه‌رو، قطر شاخه B نصف قطر شاخه A است و درون لوله U شکل، جیوه قرار دارد. شاخه A را به یک مخزن گاز وصل می‌کنیم. در شاخه A جیوه ۲ cm پایین می‌رود. فشار پیمانه‌ای مخزن گاز چند سانتی‌متر جیوه است؟

این قسمت جنبه جمع‌بندی دارد و از هر قسمت پندتا سؤال خوب آورده‌ایم، مثل آزمون‌ها، نمره هر قسمت از حل سؤال در پاسخ مشخص شده تا بتوانی حساب کنی که چه نمره‌ای می‌گیری.

ردیف	حالت‌های ماده - نیروی بین مولکولی	بارم
۱	به سؤالات زیر پاسخ دهید. الف) انواع جامدات را نام برده و برای هر کدام مثالی بزنید. ب) تفاوت این جامدها چیست؟	۱ ۰/۵
۲	در عبارتهای زیر کلمه مناسب را انتخاب کنید. الف) سطح جیوه درون لوله موئین (فرورفته - افقی - برآمده) است: ب) آب در لوله موئین روغنی شده (بالا تر - پایین تر) از سطح مایع درون ظرف قرار می‌گیرد. پ) مولکول‌های (جامد، مایع، گاز) به سهولت روی یکدیگر می‌لغزند و جاری می‌شوند. ت) قطره آب که از شیر جدا می‌شود به علت (نیروی دگرچسبی - کشش سطحی) در حین سقوط به صورت قطره باقی می‌ماند. ث) فاصله مولکول‌ها در گازها در حدود (چند ده - 10^{-10}) برابر فاصله آن‌ها در مایع و جامد است. ج) افزودن چند قطره مایع شوینده به آب سبب (افزایش - کاهش) کشش سطحی می‌شود.	۰/۲۵ ۰/۲۵ ۰/۲۵ ۰/۲۵ ۰/۲۵ ۰/۲۵
۳	با توجه به کلمات موجود در کادر زیر عبارتهای داده شده را کامل کنید. «بلورین - نسبت به - پلاسما - کندی - معدنی - فلزها - تراکم‌ناپذیری - به تندی - دماهای بالا - آمورف - نوسان‌های - رانشی» الف) ماده درون ستارگان از تشکیل شده است. این ماده اغلب در به وجود می‌آید. ب) در جامدها، ذرات تشکیل‌دهنده در مکان‌های معینی یکدیگر قرار دارند و در اطراف این مکان‌ها، بسیار کوچکی دارند. پ) در جامدهای مثل نمک، الماس و بیشتر مواد اتم‌ها در یک الگوی سه بعدی تکرار می‌شوند. ت) وقتی مایعی به سرد شود اغلب جامد بلورین تشکیل می‌شود و چنانچه سرد شود جامد به وجود می‌آید. ث) نیروی قوی بین مولکول‌های مایع علت آن است.	۰/۵ ۰/۵ ۰/۷۵ ۰/۷۵ ۰/۵
۴	به پرسش‌های زیر پاسخ دهید. الف) بعضی اوقات مشاهده می‌شود که بعضی حشرات روی سطح آب ایستاده‌اند، علت را بیان کنید. ب) افزایش دمای یک مایع چه تأثیری بر نیروی هم‌چسبی مولکول‌های مایع و چه تأثیری بر جاری شدن مایع دارد؟ پ) در زمستان خیلی از خانواده‌ها کولر آبی بالای بام منزل خود را با چادر برزنتی می‌پوشانند و با طناب آن را می‌بندند. در روزهایی که باد با سرعت می‌وزد، این چادرهای برزنتی پف می‌کنند، علت را توضیح دهید.	۰/۵ ۰/۵ ۰/۵
فشار شاره		
۵	در ظرفی مطابق شکل، آب ریخته شده است. فشار در نقاط A، B و C را به ترتیب با P_A ، P_B و P_C نشان می‌دهیم. فشار در نقاط A، B و C را با هم مقایسه کنید.	۰/۵
		
۶	در شکل روبه‌رو چگالی مایع درون ظرف 4 g/cm^3 است. اختلاف فشار بین دو نقطه A و B چند کیلوپاسکال است؟	۱/۵
		

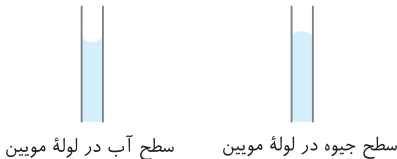
۷	فشار وارد بر کف دریاچه‌ای 240 kPa و فشار هوا در این محل 90 kPa است. عمق دریاچه چند متر است؟ $(\rho = 1200 \text{ kg/m}^3, g = 10 \text{ N/kg})$ / ۷۵
۸	در شکل روبه‌رو ظرفی حاوی جیوه نشان داده شده است. نیروی وارد از طرف جیوه بر کف ظرف 135 N است. ارتفاع h چقدر است؟ $(g = 10 \text{ N/kg}, \rho_{\text{جیوه}} = 13500 \text{ kg/cm}^3)$ 
۹	دو مایع A و B با حجم‌های یکسان 500 cm^3 که چگالی آن‌ها $\rho_A = 1/2 \text{ g/cm}^3$ و $\rho_B = 0/6 \text{ g/cm}^3$ است. در یک ظرف با سطح مقطع 10 cm^2 ریخته شده‌اند. الف) فشار وارد بر کف ظرف از طرف هر دو مایع چقدر است. ب) نیروی وارد بر کف ظرف از طرف مایع‌ها را به دست بیاورید. 
۱۰	الف) ظرف مکعب‌شکلی پر از مایع است. اگر ابعاد مکعب را دو برابر کرده و از همان مایع پر کنیم. فشار وارد از طرف مایع به کف ظرف نسبت به حالت قبل چند برابر می‌شود؟ ب) نیروی وارد از طرف مایع بر کف ظرف در حالت دوم چند برابر حالت اول است؟ / ۷۵
۱۱	نمودار تغییرات فشار ناشی از مایع بر حسب فاصله از کف ظرف به صورت مقابل است. در چه فاصله‌ای از کف ظرف فشار ناشی از مایع برابر با 2400 Pa می‌شود؟ $(g = 10 \text{ N/kg})$ 
۱۲	یک منبع مکعب شکل به ضلع ۲ متر پر از آب است. اگر آب درون آن را درون مخزن استوانه‌ای شکل به سطح قاعده 4 m^2 بریزیم. فشار وارد بر کف استوانه چند برابر فشار آب وارد بر کف مکعب می‌شود؟
لوله U شکل	
۱۳	دو مایع مخلوط نشدنی با چگالی‌های $\rho_1 = 1/2 \text{ g/cm}^3$ و $\rho_2 = 0/8 \text{ g/cm}^3$ در حال تعادل هستند. الف) کدام مایع در قسمت زیرین ظرف قرار دارد. ب) h_2 را حساب کنید. 
۱۴	در شکل روبه‌رو مایع در لوله U شکل در حال تعادل است و پیستون با بدنه لوله اصطکاک ندارد. جرم پیستون را به دست آورید. (مساحت مقطع لوله‌ها 10 cm^2 , $g = 10 \text{ N/kg}$) 
۱۵	در شکل روبه‌رو دو مایع در حال تعادل‌اند. اگر چگالی مایع ρ_1 برابر 3 g/cm^3 باشد: الف) چگالی مایع ρ_2 را حساب کنید. ب) اختلاف فشار بین دو نقطه A و B را به دست آورید. 
۱۶	در شکل روبه‌رو، آب و روغن در یک لوله U شکل به حالت تعادل‌اند. چگالی روغن چند برابر چگالی آب است؟ 

پاسخ تشریحی

فصل دوم

۷۰ الف) کاهش / ب) هم‌چسبی - دگرچسبی - بیشتر / پ) برآمده - فرورفته

۷۱ الف) نیروی هم‌چسبی بین مولکول‌های آب از نیروی دگرچسبی بین مولکول‌های آب و دوده بیشتر است، از این رو آب به صورت قطره قطره بر سطح این شیشه قرار می‌گیرد. / ب) نیروی دگرچسبی بین مولکول‌های آب و شیشه از نیروی هم‌چسبی بین مولکول‌های آب بیشتر بوده و در محل تماس آب و جداره لوله موئین سبب بالا کشیده شدن آب در این محل‌ها شده و قسمت میانی آب پایین‌تر قرار می‌گیرد و سطح آب دارای فرو رفتگی می‌شود. در مورد جیوه برعکس است و نیروی هم‌چسبی بین مولکول‌های جیوه سبب می‌گردد سطح جیوه درون لوله برآمده باشد.

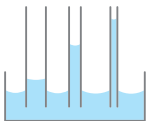


پ) علت مرطوب بودن دیواره کنار باغچه، خاصیت موئینی است که سبب می‌گردد آب درون دیواره باغچه بالا رود. / ت) عامل بالا رفتن نفت از فیتله چراغ نفتی خاصیت موئینی است. نیروی دگرچسبی بین مولکول‌های نفت و فیتله از نیروی هم‌چسبی بین مولکول‌های نفت بیشتر است.

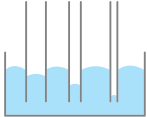
۷۲ الف) هنگامی که نیروی هم‌چسبی مایع بیشتر باشد، مولکول‌های مایع بیشتر یکدیگر را جذب کرده و به صورت قطره‌هایی روی سطح ظرف شیشه‌ای چرب شده جامد باقی می‌مانند. مانند شکل مقابل که قطرات آب روی شیشه چرب شده قرار دارند. / ب) هنگامی که نیروی دگرچسبی بیشتر است مولکول‌های مایع و سطح بیشتر یکدیگر را جذب کرده و پدیده ترشوندگی رخ می‌دهد و مایع به صورت یک لایه نازک روی سطح قرار می‌گیرد. مانند آب روی شیشه.



۷۳ الف) به دلیل کمتر بودن چگالی نفت از آب، نفت روی سطح آب قرار می‌گیرد. / ب) نیروی دگرچسبی بین مولکول‌های آب و شیشه از نیروی هم‌چسبی بین مولکول‌های آب بیشتر بوده که سبب می‌گردد آب به صورت یک لایه بر سطح شیشه پخش شود. / پ) علت پخش شدن جوهر در آب حرکت کاتوره‌ای مولکول‌های آب است.



۷۴ الف) هرچه لوله موئین‌تر باشد، آب درون آن بیشتر بالا می‌رود.



ب) هرچه لوله موئین‌تر باشد، فاصله جیوه درون لوله از سطح جیوه درون ظرف بیشتر است.



الف) ب)

۷۵ در شکل الف) سطح در کناره‌ها که مایع با شیشه در تماس است بالاتر قرار گرفته، پس نیروی بین مایع و شیشه (دگرچسبی) از نیروی بین مولکول‌های مایع به هم وارد می‌کنند (هم‌چسبی) بیشتر است. / در شکل ب) سطح مایع در وسط لوله بالاتر قرار گرفته است. پس نیروی بین مایع و شیشه (دگرچسبی) در کناره‌های لوله کمتر از نیروی بین مولکول‌های مایع (هم‌چسبی) در مرکز لوله می‌باشد.

۷۶ الف) عمق مایع در نقطه A از عمق مایع در نقطه B بیشتر است در نتیجه فشار مایع در سوراخ A از فشار مایع در سوراخ B بیشتر بوده که سبب می‌گردد تندی خروجی آب در A بیشتر از B باشد.
 $v_A > v_B$
 ب) در یک مخزن گاز فشار در تمام نقاط گاز یکسان است:
 $P_A = P_B$
 در یک مایع ساکن فشار در نقاط عمیق‌تر بیشتر است:
 $P_{B'} > P_{A'}$

۶۲ الف) نادرست. وقتی مایع را متراکم می‌کنیم، نیروی بین مولکولی به صورت نیروی رانشی ظاهر شده و مانع تراکم مایع می‌شود. / ب) نادرست. نیروی هم‌چسبی مولکول‌های آب مانع فرورفتن سوزن در آب می‌شود. / پ) نادرست / ت) درست / ث) درست / ج) درست

۶۳ الف) جامد بلورین - جامد بی‌شکل (یا آمورف) / ب) پلاسما / پ) سه بعدی - جامد بلورین / ت) پلاسما / ث) تقریباً - یک آنگستروم / ج) خیلی بیشتر / چ) پخش / ح) هم‌چسبی - دگرچسبی

۶۴ شکل الف) ساختار سه بعدی منظم و تکرارشونده‌ای دارد، از این رو ساختار منظمی از یک جامد بلورین را نشان می‌دهد. مانند فلزها، نمک‌ها، الماس، یخ و بیشتر مواد معدنی / شکل ب) ساختار منظم و تکرارشونده‌ای ندارد، بنابراین این شکل یک جامد بی‌شکل (آمورف) را نشان می‌دهد مانند شیشه.

۶۵ الف) علت آن این است که تندی حرکت کاتوره‌ای مولکول‌های گاز از تندی حرکت کاتوره‌ای مولکول‌های مایع بیشتر است. / ب) حالت چهارم ماده را پلاسما گویند که معمولاً در دماهای خیلی بالا به وجود می‌آید. ماده درون ستارگان، بیشتر فضای بین ستاره‌ای، آذرخش، آتش و درون لوله تابان لامپ‌های مهتابی از پلاسما تشکیل شده است. / پ) علت آن برخورد‌های متوالی مولکول‌های عطر با مولکول‌های هوا است که باعث می‌شود مولکول‌های عطر در مسیر مستقیم حرکت نکرده و سبب پراکندگی مولکول‌های عطر به تمام نقاط اطراف می‌شود و در نتیجه سبب می‌گردد تا تندی حرکت مولکول‌های عطر کاهش یابد.

۶۶ الف) نیروی جاذبه بین مولکول‌های همسان مانند مولکول‌های آب را نیروی هم‌چسبی و نیروی جاذبه بین مولکول‌های ناهمسان را نیروی دگرچسبی گویند. / ب) نیرویی که مولکول‌های شیشه را کنار هم نگه می‌دارد، نیروی جاذبه بین مولکولی است که وقتی شیشه می‌شکند و مولکول‌ها از هم دور می‌شوند، چنانچه قطعه‌های شیشه را به هم نزدیک کنیم به هم نمی‌چسبند زیرا نیروی بین مولکولی کوتاه بُرد است. برای چسباندن قطعات شیشه باید آن را گرم کرد تا نرم شود و مولکول‌های دو قطعه شیشه به هم نزدیک شود و نیروی بین مولکولی که کوتاه بُرد است بتواند دو قطعه را به هم بچسباند. / پ) نشستن حشره روی سطح آب، تشکیل حباب‌های آب و صابون

۶۷ هر سه شکل بیانگر کشش سطحی است. وقتی قلم مو از آب بیرون کشیده شود، کشش سطحی مولکول‌های آب سبب نزدیک شدن موهای آن به هم می‌شود. دقیقاً شبیه شکل ب) که قطره‌های آب که از سطح رو به بالا پرتاب شده‌اند، شکل کروی دارند. در شکل پ) هم حباب‌های آب و صابون به علت کشش سطحی به وجود آمده است.

۶۸ الف) بین ریزگردها نیروی راپایش محسوسی وجود ندارد به همین علت با وزش باد از هم جدا شده و در فضا پخش می‌شوند، اما نیروی هم‌چسبی بین مولکول‌های آب به اندازه‌ای است که با توفان‌های شدید دریایی تنها مقدار کمی آب به صورت قطره‌های ریز به طرف بالا می‌باشد. / ب) مایع ظرفشویی سبب می‌گردد نیروی کشش سطحی بین مولکول‌های آب ضعیف گردد و سوزن در آب فرو رود. / پ) با افزایش دمای روغن نیروی هم‌چسبی کاهش می‌یابد بنابراین قطرات کوچک می‌شوند بنابراین در شکلی که قطرات روغن بزرگ‌تر هستند، نیروی هم‌چسبی قوی‌تر است و دمای روغن کمتر است.

۶۹ در شکل الف) به دلیل کشش سطحی گیره روی سطح آب باقی مانده است. در شکل ب) به دلیل وزن سکه نیرویی رو به پایین به یک طرف کارت وارد می‌شود اما نیروی دگرچسبی بین کارت و آب مانع از جدا شدن طرف دیگر کارت از سطح آب می‌شود. / ب) علت آن، نیروی دگرچسبی بین مولکول‌های آب و ماسه است که باعث ایجاد یک پوسته کشسان در سطح ماسه خیس شده و پا کمتر در سطح ماسه خیس فرو می‌رود. / پ) کشش سطحی کاهش می‌یابد و همین امر سبب می‌گردد که بتوان حباب‌های بزرگ و زیبایی ایجاد کرد.

(ب) فشار آب در عمق ۲۰۰ متری بسیار زیاد است و نیروی بزرگی را بر سطح دریچه وارد می‌کند که مقدار آن خواهد شد:

$$F = PA = \rho ghA \Rightarrow F = 1000 \times 10 \times 200 \times (\pi/8)^2 = 1/28 \times 10^6 \text{ N}$$

دقت کنید فشار هوا که توسط آب از بیرون دریچه به آن وارد می‌شود و فشار هوای درون زیردریایی که از داخل به دریچه وارد می‌شود تأثیر یکدیگر را از بین می‌برند. از این‌رو در محاسبات فشار هوا را در نظر نگرفته‌ایم.

۸۲ | چگالی مایع را به kg/m^3 تبدیل می‌کنیم:

$$\rho = 7/2 \frac{\text{g}}{\text{cm}^3} \times \frac{1 \text{ kg}}{10^3 \text{ g}} \times \frac{10^6 \text{ cm}^3}{\text{m}^3} = 7200 \text{ kg/m}^3$$

الف) فشار وارد بر کف استوانه مجموع فشار هوا و فشار مایع است. از این‌رو:

$$P = P_0 + \rho gh \Rightarrow P_{\text{کف}} = 10^5 + 7200 \times 10 \times \frac{10}{100} \\ \Rightarrow P_{\text{کف}} = 107200 \text{ Pa}$$

(ب) فشار ناشی از مایع در کف استوانه خواهد شد:

$$P = \rho gh \Rightarrow P = 7200 \times 10 \times \frac{10}{100} \Rightarrow P = 7200 \text{ Pa}$$

(پ) مساحت کف لوله را حساب می‌کنیم:

$$A = \pi r^2 \Rightarrow A = 3 \times (\frac{4}{2} \times 10^{-2})^2 \Rightarrow A = 3 \times 4 \times 10^{-4} \\ \text{تبدیل به متر} \\ \Rightarrow A = 12 \times 10^{-4} \text{ m}^2$$

نیرویی که از طرف مایع بر کف وارد می‌شود برابر است با:

$$P = \frac{F}{A} \Rightarrow F = PA \Rightarrow F = 7200 \times 12 \times 10^{-4} \Rightarrow F = 8/64 \text{ N}$$

(ت) نیروی وارد بر کف ظرف ناشی از فشار هوا و فشار مایع خواهد شد:

$$F = P_{\text{کف}} A \Rightarrow F = 107200 \times 12 \times 10^{-4} \Rightarrow F = 128/64 \text{ N}$$

۸۳ | الف) در ظروف مرتبط که در آن یک مایع ریخته شده است فشار در تمام نقاط هم‌عمق یکسان است.

$$P_A = P_B = P_C = P_D$$

(ب) برای پیدا کردن مقدار فشار در نقطه D، کافی است فشار مایع در نقطه A را حساب کنیم:

$$P_D = P_A = \rho gh_A \Rightarrow P_D = 2000 \times 10 \times \frac{18}{100} \Rightarrow P = 3600 \text{ Pa}$$

(پ) اگر انتهای شاخه سمت راست بسته نبود و طول این شاخه زیاد بود باید مایع در این لوله بالاتر می‌رفت بنابراین به سر انتهای بسته این لوله فشار وارد می‌شود که باید مقدار آن را حساب کنیم. فشار در نقطه D، برابر فشار مایع به ارتفاع ۸cm و فشار انتهای لوله است. بنابراین:

$$P_D = P_{8\text{cm}} + P_{\text{ته}} \Rightarrow P_D = \rho gh + P_{\text{ته}}$$

$$\Rightarrow 3600 = 2000 \times 10 \times \frac{8}{100} + P_{\text{ته}} \Rightarrow P_{\text{ته}} = 2000 \text{ Pa}$$

نیرویی که به انتهای لوله وارد می‌شود را حساب می‌کنیم.

$$P = \frac{F}{A} \Rightarrow F = PA \Rightarrow F = 2000 \times 10 \times \frac{10}{100} \Rightarrow F = 2 \text{ N} \\ \text{تبدیل به مترمربع}$$

(ت) وقتی قطعه چوب را بر سطح آب قرار می‌دهیم، فشار حاصل از وزن قطعه چوب بنا به اصل پاسکال توسط مایع به تمام نقاط مایع به‌طور یکسان وارد می‌شود و در تمام نقاط فشار به یک اندازه بالا می‌رود.

$$\Delta P_A = \Delta P_B$$

۷۷ | الف) فشار کل برابر مجموع فشار هوا و فشار مایع است.

$$P = P_0 + \rho gh \Rightarrow 1/76 \times 10^5 = 1 \times 10^5 + \rho \times 10 \times 8$$

$$\Rightarrow 1/76 \times 10^5 - 1 \times 10^5 = \rho \times 80$$

$$\Rightarrow 76000 = \rho \times 80 \Rightarrow \rho = \frac{76000}{80} \Rightarrow \rho = 950 \text{ kg/m}^3$$

(ب) یکای چگالی باید برحسب kg/m^3 باشد تا فشار برحسب پاسکال به‌دست آید.

$$\rho = 1 \text{ g/cm}^3 \times \frac{1000}{1} = 1000 \text{ kg/m}^3 \\ \text{تبدیل}$$

$$P = P_0 + \rho gh \Rightarrow P = 10^5 + 1000 \times 10 \times 2 \Rightarrow P = 120000 \text{ Pa}$$

۷۸ | الف) برای به‌دست آوردن فشار باید عمق نقطه مورد نظر را مشخص کنیم عمق A و B برابر $h_A = 2 \text{ m}$ و $h_B = 6 \text{ m}$ است. بنابراین

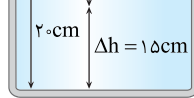
$$P = P_0 + \rho gh \Rightarrow \begin{cases} P_A = 10^5 + (1 \times 1000) \times 10 \times 2 \Rightarrow P_A = 220000 \text{ Pa} \\ \text{تبدیل یکای چگالی به } \text{kg/m}^3 \\ P_B = 10^5 + 1 \times 1000 \times 10 \times 6 \Rightarrow P_B = 160000 \text{ Pa} \end{cases}$$

(ب) فشار ناشی از مایع یعنی ρgh بنابراین:

$$P = \rho gh \Rightarrow \begin{cases} P_A = 1000 \times 10 \times 2 = 20000 \text{ Pa} \\ P_B = 1000 \times 10 \times 6 = 60000 \text{ Pa} \end{cases}$$

(پ) فاصله نقاط A و C از سطح آزاد مایع یکسان است. یعنی این دو نقطه هم‌عمق بوده و فشار در این دو نقطه برابر است. $P_A = P_C$

۷۹ | الف) از عمق ۵cm تا عمق ۲۰cm



تغییر فشار برابر است با:

$$\Delta P = 106 - 100 = 6 \text{ kPa}$$

بنابراین می‌توان نوشت:

$$\Delta P = \rho g \Delta h \Rightarrow 6000 = \rho \times 10 \times 5 \Rightarrow \rho = 4000 \text{ kg/m}^3$$

(ب) فشار هوای محیط را با استفاده از فشار در عمق ۵cm به‌دست می‌آوریم.

$$P = P_0 + \rho gh \Rightarrow 100000 = P_0 + 4000 \times 10 \times \frac{5}{100}$$

$$\Rightarrow 100000 = P_0 + 2000 \Rightarrow P_0 = 98000 \text{ Pa}$$

۸۰ | یک شماره ساکن بر هر سطحی که با آن در تماس است نیروی عمودی وارد می‌کند. بنابراین در هر سه طرف نیرویی که آب بر دیواره طرف وارد می‌کند، بر دیواره‌ها عمود است.

۸۱ | الف) با داشتن فشار هوا، نیروی وارد بر هر پنجره به‌دست می‌آید. ابتدا مساحت هر پنجره را حساب می‌کنیم:

$$A = \pi r^2 \Rightarrow A = 3 \times (\frac{4}{2} \times 10^{-2})^2 \Rightarrow A = 3 \times (0/2)^2 \Rightarrow A = 0/12 \text{ m}^2 \\ \text{تبدیل به متر}$$

نیروی وارد بر پنجره خواهد شد:

$$P = \frac{F}{A} \Rightarrow F = PA \Rightarrow F = 70 \times 10^3 \times 0/12 \Rightarrow F = 8400 \text{ N}$$

(ب) فشار در عمق ۵ متری آب را به‌دست می‌آوریم:

$$P = P_0 + \rho gh \Rightarrow P = 10^5 + 1000 \times 10 \times 5 = 1/5 \times 10^5 \text{ Pa}$$

نیروی حاصل از فشار برابر است با:

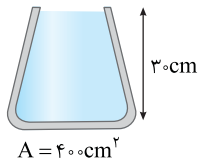
$$F = PA \Rightarrow F = 1/5 \times 10^5 \times 10 \times 10^{-2} = 15 \text{ N}$$

ارتفاع آب در ظرف برابر است با: $h_{\text{ب}} = h_1 + h_2 = 10 + 16 = 26 \text{ cm}$

فشار آب خواهد شد: $P = \rho gh \Rightarrow P = 1000 \times 10 \times \frac{26}{100} = 2600 \text{ Pa}$

(ب) با توجه به رابطه $P = \frac{F}{A}$ نیروی وارد بر کف را به دست می‌آوریم:

$$F = PA \Rightarrow F = 2600 \times 50 \times 10^{-4} = 13 \text{ N}$$



الف) فشار مایع به شکل ظرف بستگی ندارد، بلکه به ارتفاع مایع و چگالی آن بستگی دارد. فشار آب خواهد شد:

$$P = \rho gh \Rightarrow P = 1 \times 10^3 \times 10 \times 0.3 \Rightarrow P = 3 \times 10^3 \text{ Pa}$$

(ب) فشار کل را حساب می‌کنیم:

$$P = P_0 + P_{\text{مایع}} \Rightarrow P = 10^5 + 3 \times 10^3 = 1.03 \times 10^5 \text{ Pa}$$

(پ) نیروی وارد بر کف ظرف توسط مایع خواهد شد:

$$F = P_{\text{مایع}} A \Rightarrow F = 3 \times 10^3 \times 400 \times 10^{-4} \Rightarrow F = 120 \text{ N}$$

(ت) نیروی کل وارد بر کف ظرف:

$$F = P_{\text{کل}} A \Rightarrow F = 1.03 \times 10^5 \times 400 \times 10^{-4} \Rightarrow F = 41200 \text{ N}$$

الف) ارتفاع آب در دو ظرف یکسان است. $(P = \rho gh)$ بنابراین: $P_A = P_B$

(ب) نیروهای وارد بر کف ظرف در هر ظرف ناشی از فشار مایع است.

$$P = \frac{F}{A} \Rightarrow F = PA \begin{cases} \text{ظرف A} \rightarrow F_A = P(\pi r^2) \\ \text{ظرف B} \rightarrow F_B = P(\pi \times 4r^2) \end{cases} \Rightarrow \frac{F_A}{F_B} = \frac{1}{4}$$

(پ) هر دو ظرف مشابه و مقدار آب درون آن‌ها یکسان است، بنابراین وزن هر دو ظرف برابر است. از این رو نیرویی که توسط ظرف‌ها بر سطح افقی وارد می‌شود با هم برابر است.

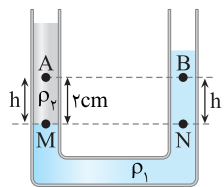
الف) چوب پنبه در تعادل است و نیروهایی که از دو طرف بر آن وارد می‌شود با هم برابرند.

از سمت چپ نیروی ناشی از فشار آب و فشار هوا به چوب پنبه وارد می‌شود و از سمت راست نیروی ناشی از فشار هوا به کمک نیروی اصطکاک مانع خروج چوب پنبه می‌شود. بنابراین:

$$F_{\text{خاص}} = 0 \Rightarrow F = F_0 + f \Rightarrow (P_0 + \rho gh)A = P_0 A + f$$

$$f = \rho ghA \Rightarrow f = 1000 \times 10 \times \left(\frac{15+5}{100}\right) \times 5 \times 10^{-4} \Rightarrow f = 10 \text{ N}$$

$$F = (P_0 + \rho gh)A \quad \leftarrow \quad F_0 = P_0 A$$



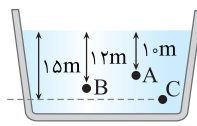
الف) مایع با چگالی بیشتر ته‌نشین می‌شود.

خط تراز را رسم می‌کنیم. فشار در نقاط M و N با هم برابر است.

$P_M = P_N = P$ هرچه از نقطه M و N بالاتر می‌رویم فشار به اندازه ρgh کاهش می‌یابد، بنابراین فشار نقاط A و B به ترتیب خواهد شد:

$$\begin{cases} P_B = P - \rho_1 g \frac{r}{100} \\ P_A = P - \rho_2 g \frac{r}{100} \end{cases} \xrightarrow{\rho_1 > \rho_2} \begin{cases} P_B = P - 1200 \times 10 \times \frac{r}{100} \\ P_A = P - 900 \times 10 \times \frac{r}{100} \end{cases}$$

مسائل تکمیلی



۱) اختلاف فشار بین دو نقطه از رابطه $\Delta P = \rho g \Delta h$ به دست می‌آید که

$$\Delta h = 1.5 \text{ m} - 1.2 \text{ m} = 0.3 \text{ m}$$

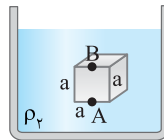
اختلاف ارتفاع بین دو نقطه است.

$$\Delta P_{AB} = \rho g \Delta h_{AB} \Rightarrow P_B - P_A = 2/48 - 2/4 \Rightarrow 0.8 \text{ atm} = \rho g \times 2 \Rightarrow \rho g = 0.4 \text{ (1)}$$

حال با توجه به شکل:

$$\Delta P_{BC} = P_C - P_B = \rho g \times 3 \xrightarrow{(1)} P_C - 2/48 = 0.12 \Rightarrow P_C = 2/6 \text{ atm}$$

دقت کردید در حل این مسئله تبدیل یکا انجام ندادیم. فشارها را برحسب atm نوشتیم و فشار P_C نیز برحسب atm به دست آمد.



۲) اختلاف فشار بین دو نقطه در شاره از رابطه $\Delta P = \rho g \Delta h$ به دست می‌آید که

$$\Delta h = 2a$$

اختلاف ارتفاع قائم دو نقطه است. بنابراین اختلاف فشار وارد به سطح بالا و پایین در شکل‌های الف) و ب) به صورت زیر می‌باشد.

$$\Delta P_{AB} = \rho_2 g \Delta h_{AB} \Rightarrow \Delta P_{AB} = \rho_2 g a$$

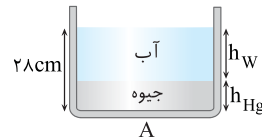
$$\Delta P_{A'B'} = \rho_1 g \Delta h_{A'B'} \Rightarrow \Delta P_{A'B'} = \rho_1 g 2a$$

بنا به فرض مسئله $\Delta P_{AB} = \Delta P_{A'B'}$ بوده از این رو:

$$\Delta P_{AB} = \Delta P_{A'B'} \Rightarrow \rho_2 g a = \rho_1 g 2a \Rightarrow \rho_2 = 2\rho_1 \Rightarrow \frac{\rho_2}{\rho_1} = 2$$

۳) یک رابطه ریاضی را از روی شکل می‌توانیم بنویسیم.

$$h_W + h_{Hg} = 28 \text{ cm} \quad (1)$$



جرم جیوه و آب برابر است. از این مطلب نیز می‌توانیم به کمک چگالی رابطه دیگری بین h_W و h_{Hg} پیدا کنیم.

$$m_{Hg} = m_W \Rightarrow \rho_{Hg} V_{Hg} = \rho_W V_W \Rightarrow \rho_{Hg} A h_{Hg} = \rho_W A h_W \Rightarrow 13 \times h_{Hg} = 1 \times h_W \Rightarrow h_W = 13 h_{Hg} \quad (2)$$

از رابطه (۲) در (۱) قرار می‌دهیم.

$$(1), (2) \Rightarrow 13 h_{Hg} + h_{Hg} = 28 \Rightarrow h_{Hg} = 2 \text{ cm} \xrightarrow{(2)} h_W = 26 \text{ cm}$$

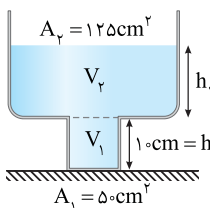
فشار از طرف دو مایع خواهد شد.

$$P = \rho_W g h_W + \rho_{Hg} g h_{Hg} \Rightarrow P = 1000 \times 10 \times \frac{26}{100} + 13000 \times 10 \times \frac{2}{100} \Rightarrow P = 2600 + 2600 = 5200 \text{ Pa} = 5/2 \text{ kPa}$$

۴) برای پیدا کردن فشار باید ارتفاع $2/5L = 250 \text{ cm}^3$ آب درون ظرف را پیدا کنیم، ابتدا قسمت پایین ظرف با حجم $50 \times 10 = 500 \text{ cm}^3$ پر می‌شود.

سپس آب به قسمت بالای ظرف می‌رود.

الف)



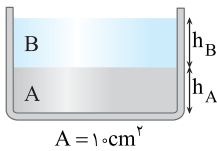
$$V_{\text{ب}} = V_1 + V_2 \Rightarrow 250 = 50 + V_2$$

$$\Rightarrow V_2 = 200 \text{ cm}^3$$

ارتفاع h_2 را حساب می‌کنیم:

$$200 = 125 h_2 \Rightarrow h_2 = 1.6 \text{ cm}$$

۹ الف) حجم هر دو مایع 500 cm^3 است. ارتفاع هر مایع خواهد شد:



$$V = Ah \Rightarrow 500 = 10 \cdot h$$

$$\Rightarrow h = 50 \text{ cm} = 0.5 \text{ m}$$

$$P = \rho_A g h_A + \rho_B g h_B$$

$$\Rightarrow P = 1200 \times 10 \times 0.5 + 600 \times 10 \times 0.5$$

$$P = 9000 \text{ Pa}$$

ب) با توجه به رابطه $P = \frac{F}{A}$ ، نیروی وارد بر کف حساب می‌شود.

$$P = \frac{F}{A} \Rightarrow F = PA \Rightarrow F = 9000 \times 10 \times 10^{-4} \Rightarrow F = 9 \text{ N}$$

روش دیگر: فشار را از رابطه $P = \frac{mg}{A}$ به دست بیاورید:

$$\rho = \frac{m}{V} \Rightarrow m = \rho V$$

$$\begin{cases} m_A = 1200 \times 500 \times 10^{-6} \Rightarrow m_A = 0.6 \text{ kg} \\ m_B = 600 \times 500 \times 10^{-6} \Rightarrow m_B = 0.3 \text{ kg} \end{cases}$$

$$P = \frac{F}{A} = \frac{m_A g + m_B g}{A} = \frac{0.6 \times 10 + 0.3 \times 10}{10 \times 10^{-4}} \Rightarrow P = 9000 \text{ Pa}$$

$$F = W_A + W_B = 0.6 \times 10 + 0.3 \times 10 = 9 \text{ N}$$

۱۰ الف) ارتفاع مایع در ظرف دوم، دو برابر ظرف اول است.

$$\frac{P_2}{P_1} = \frac{\rho g h_2}{\rho g h_1} \Rightarrow \frac{h_2}{h_1} = \frac{P_2}{P_1} = 2$$

ب) حجم مایع در ظرف دوم و در نتیجه جرم آن ۸ برابر جرم مایع ظرف اول است.

$$\frac{V_2}{V_1} = \left(\frac{a_2}{a_1}\right)^2 = \left(\frac{2a_1}{a_1}\right)^2 \Rightarrow \frac{V_2}{V_1} = 4$$

$$\frac{m}{m_1} = \frac{V_2}{V_1} = 4 \Rightarrow \frac{W_2}{W_1} = 4 \Rightarrow \frac{F_2}{F_1} = 4$$

۱۱ با توجه به نمودار در ارتفاع 40 cm از کف ظرف، فشار مایع صفر شده است. نتیجه می‌گیریم $h = 0$ شده است، و ارتفاع مایع در ظرف، 40 cm است. اکنون چگالی مایع را به دست می‌آوریم.

$$P = \rho g h \Rightarrow 3000 = \rho \times 10 \times 0.4 \Rightarrow \rho = 750 \text{ kg/m}^3$$

$$P = \rho g h \Rightarrow 2400 = 750 \times 10 \times h \Rightarrow h = 0.32 \text{ m}$$

این فاصله از سطح مایع است، بنابراین فاصله از کف ظرف خواهد شد:

$$0.4 - 0.32 = 0.08 \text{ m} = 8 \text{ cm}$$

۱۲ سطح قاعده مکعب:

$$A = (2)^2 = 4 \text{ m}^2$$

$$P = \frac{F}{A} \Rightarrow P = \frac{W}{A}$$

فشار وارد بر کف ظرف:

وزن آب درون مکعب و وزن آب درون استوانه برابر است:

$$\frac{W_{\text{استوانه}}}{P_{\text{استوانه}}} = \frac{A_{\text{استوانه}}}{P_{\text{مکعب}}} = 1$$

$$W_{\text{استوانه}} = W_{\text{مکعب}}$$

مسائل امتحانی بارمبندی شده

۱ الف) جامد بلورین (۰/۲۵) - نمک طعام (۰/۲۵) (یا الماس) جامد بی‌شکل (یا آمورف) (۰/۲۵) - شیشه (۰/۲۵) / ب) در جامدهای بلورین مولکول‌ها دارای طرح منظم و تکرار شونده هستند، در حالی که جامدهای بی‌شکل، نظم مشخصی ندارند. (۰/۲۵)

جامدهای بلورین از سرد شدن آرام و جامدهای بی‌شکل از سرد شدن سریع ایجاد می‌شوند. (۰/۲۵)

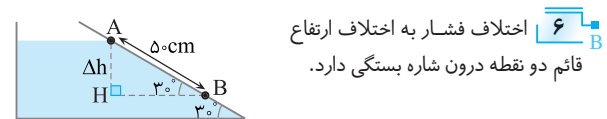
۲ الف) برآمده (۰/۲۵) / ب) پایین‌تر (۰/۲۵) / پ) مایع (۰/۲۵) / ت) کشش سطحی (۰/۲۵) / ث) چند ده (۰/۲۵) / ج) کاهش (۰/۲۵)

۳ الف) پلاسمای (۰/۲۵) - دماهای بالا (۰/۲۵) / ب) نسبت به (۰/۲۵) - نوسان‌های (۰/۲۵) / پ) بلورین (۰/۲۵) - فلزها (۰/۲۵) - معدنی (۰/۲۵) / ت) کندی (۰/۲۵) - به تندی (۰/۲۵) - آمورف (۰/۲۵) / ث) رانشی (۰/۲۵) - تراکم‌ناپذیری (۰/۲۵)

۴ الف) علت، کشش سطحی ناشی از هم‌چسبی مولکول‌های سطح مایع است. (۰/۵) / ب) افزایش دما باعث کاهش هم‌چسبی مولکول‌های مایع شده و سبب راحت‌تر جاری شدن مایع می‌شود (پ) / پ) علت آن مربوط به اصل برنولی است، جریان هوای بالای برزنت باعث کاهش فشار هوا در بالای برزنت شده و فشار هوای قسمت زیر برزنت بیشتر بوده و این سبب پف کردن برزنت می‌شود. (۰/۵)

۵ عمق هر سه نقطه یکسان است، بنابراین:

$$h_A = h_B = h_C \Rightarrow P_A = P_B = P_C$$



$$\Delta ABH: \sin 30^\circ = \frac{\Delta h}{AB} \Rightarrow \frac{1}{2} = \frac{\Delta h}{25}$$

$$\Delta h = 12.5 \text{ cm} \Rightarrow \Delta h = 0.125 \text{ m}$$

تبدیل یکای چگالی:

$$4 \text{ g/cm}^3 = 4 \frac{\text{g}}{\text{cm}^3} \times \frac{1 \text{ kg}}{1000 \text{ g}} \times \frac{10^6 \text{ cm}^3}{1 \text{ m}^3} = 4000 \text{ kg/m}^3$$

$$\Delta P = \rho g \Delta h \Rightarrow \Delta P = 4000 \times 10 \times 0.125$$

$$\Rightarrow \Delta P = 5000 \text{ Pa} = 5 \text{ kPa}$$

۷ فشار وارد بر کف دریاچه از رابطه $P = P_0 + \rho g h$ به دست می‌آید:

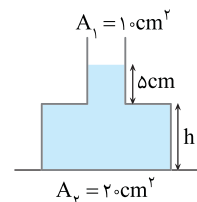
$$P = P_0 + \rho g h \Rightarrow 240000 = 90000 + 12000 \times h$$

$$150000 = 12000 \cdot h \Rightarrow h = 12.5 \text{ m}$$

۸ ابتدا فشار ناشی از جیوه را حساب می‌کنیم.

$$P = \frac{F}{A} \Rightarrow P = \frac{135}{20 \times 10^{-4}} \Rightarrow P = 6750 \text{ Pa}$$

ارتفاع جیوه در ظرف را به دست می‌آوریم.



$$P = \rho_{\text{Hg}} g h_{\text{Hg}}$$

$$\Rightarrow 6750 = 13 \times 10^4 \times h_{\text{Hg}}$$

$$\Rightarrow h_{\text{Hg}} = 0.5 \text{ m}$$

$$h = 0.5 - 0.5 = 0 \Rightarrow h = 0.4 \text{ m}$$

بخش چهارم: چرخه ترمودینامیکی

صفحه ۱۳۹ و ۱۴۰ کتاب درسی

تعریف در چرخه ترمودینامیکی، دستگاه پس از طی چند فرایند، به حالت اولیه خود باز می‌گردد.

برای مثال دو چرخه $P-V$ یکی ساعتگرد و دیگری پادساعتگرد را در زیر بررسی کرده‌ایم:

چرخه ترمودینامیکی با نمودار $P-V$ پادساعتگرد	چرخه ترمودینامیکی با نمودار $P-V$ ساعتگرد
الف) در چرخه ترمودینامیکی حالت ابتدایی و نهایی یکسان است: $\Delta U = U_{\text{نهایی}} - U_{\text{ابتدایی}} = 0$	الف) در چرخه ترمودینامیکی حالت ابتدایی و نهایی یکسان است: $\Delta U = U_{\text{نهایی}} - U_{\text{ابتدایی}} = 0$
ب) بنابر قانون اول ترمودینامیک: $Q_{\text{چرخه}} = -W_{\text{چرخه}} + \Delta U_{\text{چرخه}} = 0 \Rightarrow Q_{\text{چرخه}} = -W_{\text{چرخه}}$	ب) بنابر قانون اول ترمودینامیک: $Q_{\text{چرخه}} = -W_{\text{چرخه}} + \Delta U_{\text{چرخه}} = 0 \Rightarrow Q_{\text{چرخه}} = -W_{\text{چرخه}}$
پ) در مسئله زیر با استدلال مشخص می‌شود که اندازه کار در چرخه برابر سطح محصور در چرخه است و در چرخه پادساعتگرد: $W = S$	پ) در مسئله زیر با استدلال مشخص می‌شود که اندازه کار در چرخه برابر سطح محصور در چرخه است و در چرخه ساعتگرد: $W = -S$

مسئله ۳۵

شکل روبه‌رو یک چرخه ترمودینامیکی فرضی را نشان می‌دهد که یک دستگاه ترمودینامیکی آن را طی کرده است:
 الف) کار انجام شده روی دستگاه در هر فرایند را بر حسب سطح زیر نمودار آن بیابید.
 ب) نشان دهید اندازه کل کار انجام شده روی دستگاه برابر با مساحت درون چرخه است.
 پ) کار کل انجام شده روی دستگاه مثبت است یا منفی؟ توضیح دهید.

راه‌حل الف) در فرایند ab کار برابر سطح زیر نمودار شکل روبه‌رو است. دستگاه منبسط شده است و کار محیط روی دستگاه از a تا b منفی است:

$$W_{ab} = -S_{ab} < 0$$

در فرایند bc که یک فرایند تراکم هم‌فشار است، کار برابر سطح زیر نمودار شکل روبه‌رو است و کار محیط روی دستگاه در این فرایند مثبت است:

$$W_{bc} = +S_{bc} > 0$$

در فرایند تراکمی ca کار مثبت و برابر سطح زیر نمودار در شکل روبه‌رو است:

$$W_{ca} = +S_{ca} > 0$$

ب) کار کل چرخه برابر است با:

$$W_{abca} = W_{ab} + W_{bc} + W_{ca} = -S_{ab} + S_{bc} + S_{ca} = -S_{abca}$$

پ) با توجه به نمودار سطح زیر فرایند ab از مجموع سطح زیر نمودارهای bc و ca بزرگ‌تر است، از این‌رو:

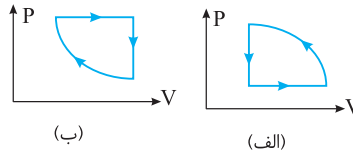
$$|S_{ab}| > |S_{bc}| + |S_{ca}| \Rightarrow |W_{ab}| > |W_{bc}| + |W_{ca}|$$

چون کار در فرایند ab منفی است، بنابراین جمع کل کارها باید منفی شود.

مسئله ۳۶

با توجه به نمودار چرخه‌های (الف) و (ب) جدول را با علامت‌های مثبت، منفی یا صفر کامل کنید.

نام چرخه	Q	W	ΔU
(الف)			
(ب)			



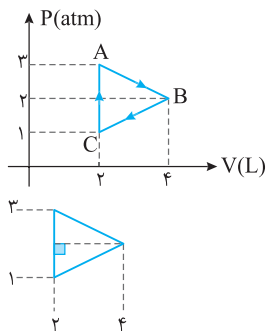
نام چرخه	Q	W	ΔU
(الف)	-	+	صفر
(ب)	+	-	صفر

راه‌حل نمودار (الف) پادساعتگرد است و کار محیط روی دستگاه مثبت و گرمای مبادله‌شده با دستگاه منفی است. نمودار (ب) ساعتگرد است و کار محیط روی دستگاه منفی و گرمای مبادله‌شده با دستگاه مثبت است. در هر دو چرخه تغییر انرژی درونی صفر است.

• تیپ ۴ - ۱: مسائل عددی نمودار چرخه

مسئله ۳۷

یک مول گاز آرمانی، چرخه‌ای مطابق شکل را طی می‌کند. گرمایی که گاز در مسیر ABCA با محیط مبادله می‌کند، چند ژول است؟



راه‌حل مساحت داخل چرخه برابر با اندازه کار انجام شده می‌باشد. بنابراین ابتدا باید مساحت مثلث را به دست آوریم:

$$|W| = S_{\text{مثلث}} = \frac{\text{ارتفاع} \times \text{قاعده}}{2} = \frac{(3-1) \times 10^5 \times (4-2) \times 10^{-3}}{2} \Rightarrow |W| = 200 \text{ J}$$

چرخه ساعتگرد است، بنابراین $W = -S = -200 \text{ J}$. تغییر انرژی درونی چرخه برابر صفر است:

$$\Delta U_{ABCA} = 0 \Rightarrow W_{ABCA} = -Q_{ABCA} \Rightarrow Q_{ABCA} = 200 \text{ J}$$

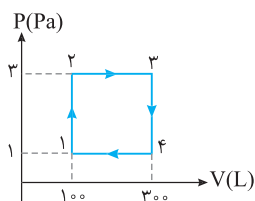
مسئله ۳۸

یک گاز آرمانی چرخه‌ای مطابق شکل روبه‌رو طی می‌کند، دمای گاز در حالت (۱) برابر 150 K است. (الف) دمای گاز در حالت (۳) را به دست آورید.

(ب) کار انجام شده روی چرخه و گرمای مبادله شده در چرخه را حساب کنید.

(پ) فرایندهای گرماگیر و گرماده را مشخص کنید.

راه‌حل (الف) با توجه به معادله حالت گاز آرمانی می‌توان نوشت:



$$PV = nRT \Rightarrow \frac{P_1 V_1}{T_1} = \frac{P_3 V_3}{T_3} \Rightarrow \frac{1 \times 100}{150} = \frac{3 \times 300}{T_3} \Rightarrow T_3 = 1350 \text{ K}$$

(ب) چرخه پادساعتگرد است از این رو: $Q = -W = 4 \text{ kJ}$, $W = -4 \text{ kJ}$, $Q = -W = 4 \text{ kJ}$

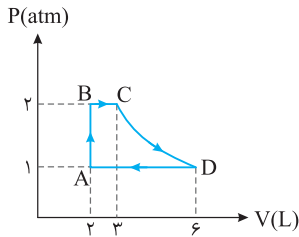
(پ) در فرایند ۱ → ۲، در حجم ثابت فشار زیاد شده است، طبق رابطه $P \uparrow = \frac{nR}{V} T \uparrow$ ، باید دما هم زیاد شود. بنابراین $\Delta T > 0$ و $\Delta U > 0$ و گاز

$$(\Delta U = Q + \overleftarrow{W})$$

گرما گرفته است. پس فرایند ۱ → ۲، گرماگیر است.

در فرایند ۲ → ۳، در فشار ثابت حجم زیاد شده است، $(V \uparrow = \frac{nR}{P} T \uparrow)$ بنابراین دما زیاد شده است، $\Delta T > 0$ و $\Delta U > 0$ است. گاز منبسط شده

است، پس $W_{23} < 0$ است و $Q_{23} > 0$ و گاز گرما گرفته است. $\Delta U = Q + \overleftarrow{W}$ و فرایند ۲ → ۳ گرماگیر است. در فرایند ۳ → ۴، در حجم ثابت فشار کم شده پس دما کم شده بنابراین $\Delta U < 0$ و $Q < 0$ و فرایند گرماده است. در فرایند ۴ → ۱، در فشار ثابت حجم کم شده است، پس دما کم شده و $\Delta U < 0$ ، $W > 0$ بنابراین طبق $\Delta U = Q + W$ ، $Q < 0$ و فرایند گرماده است.



دستگاهی شامل ۵/۰ مول گاز آرمانی، چرخه روبه‌رو را می‌پیماید که در آن CD فرایند هم‌دما است و مقدار گرمای تبادل‌شده در فرایندهای BC، DA و AB به ترتیب ۵۰۰J، ۱۰۰۰J و ۳۰۰J است. الف) تغییر انرژی درونی در هر فرایند را حساب کرده و سپس، تغییر انرژی درونی گاز در کل چرخه را حساب کنید. ب) دما را در نقاط A، B و C بیابید.

راه‌حل الف) فرایند CD هم‌دما است و تغییر انرژی درونی آن صفر است. فرایند AB فرایند هم‌حجم است که فشار آن در حال افزایش می‌باشد.

$$\Delta U_{AB} = W_{AB} + Q_{AB} \xrightarrow{W_{AB}=0} \Delta U_{AB} = Q_{AB} \Rightarrow \Delta U_{AB} = 300 \text{ J}$$

تغییر انرژی درونی برابر است با:

فرایندهای BC و DA هم‌فشار هستند. فرایند BC انبساطی بوده و $W_{BC} < 0$ و $Q_{BC} > 0$ است. فرایند DA تراکمی بوده و $W_{DA} > 0$ و $Q_{DA} < 0$ است.

$$W_{BC} = -P\Delta V = -2 \times 10^5 \times (3-2) \times 10^{-3} = -200 \text{ J}, \quad Q_{BC} = +500 \text{ J}$$

$$\Delta U_{BC} = 500 + (-200) = 300 \text{ J}$$

$$W_{DA} = -P\Delta V = -1 \times 10^5 \times (2-6) \times 10^{-3} = 400 \text{ J}, \quad Q_{DA} = -1000 \text{ J}$$

$$\Delta U_{DA} = W_{DA} + Q_{DA} = 400 + (-1000) = -600 \text{ J}$$

در این صورت تغییر انرژی درونی در چرخه خواهد شد:

$$\Delta U_{ABCD} = \Delta U_{AB} + \Delta U_{BC} + \Delta U_{CD} + \Delta U_{DA} = 300 + 300 + 0 + (-600) = 0$$

بنابراین همان‌طور که بیان شد، تغییر انرژی درونی در یک چرخه صفر است.

ب) دما در نقطه A را با استفاده از معادله حالت به دست می‌آوریم:

$$P_A V_A = nRT_A \Rightarrow 1 \times 10^5 \times 2 \times 10^{-3} = 0.5 \times 8 \times T_A \Rightarrow T_A = 50 \text{ K}$$

$$\frac{P_A V_A}{T_A} = \frac{P_B V_B}{T_B} \xrightarrow{V_A=V_B} \frac{1}{50} = \frac{2}{T_B} \Rightarrow T_B = 100 \text{ K}$$

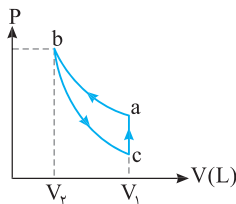
$$\frac{P_A V_A}{T_A} = \frac{P_C V_C}{T_C} \Rightarrow \frac{1 \times 2}{50} = \frac{2 \times 3}{T_C} \Rightarrow T_C = 150 \text{ K}$$

• تیپ ۴ - ۲: رسم چرخه

گاز آرمانی ابتدا طی یک فرایند تراکمی هم‌دما از حالت a به حالت b می‌رود. سپس طی یک فرایند بی‌دررو، دوباره به حجم اولیه در حالت c باز می‌گردد. سرانجام با یک فرایند هم‌حجم به حالت a می‌رود:

الف) نمودار P-V چرخه طی شده را رسم کنید.

ب) ثابت کنید قدر مطلق کار در فرایند بی‌دررو برابر گرمای مبادله شده در فرایند هم‌حجم است.



راه‌حل الف) نمودار P-V چرخه به صورت روبه‌رو خواهد بود:

$$\Delta U_{abca} = 0 \Rightarrow \Delta U_{ab} + \Delta U_{bc} + \Delta U_{ca} = 0$$

ب) تغییر انرژی درونی در چرخه برابر صفر است:

فرایند ab هم‌دما است و $\Delta U_{ab} = 0$ است. فرایند bc بی‌دررو و گرمای مبادله شده $Q_{bc} = 0$ است و فرایند ca هم‌حجم است و کار در این فرایند صفر است ($W_{ca} = 0$). در این صورت:

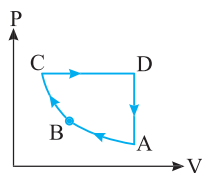
$$\underbrace{\Delta U_{ab}}_{\text{صفر}} + W_{bc} + \underbrace{Q_{bc}}_{\text{صفر}} + \underbrace{W_{ca}}_{\text{صفر}} + Q_{ca} = 0 \Rightarrow W_{bc} = -Q_{ca} \Rightarrow |W_{bc}|_{\text{بی‌دررو}} = |Q_{ca}|_{\text{هم‌حجم}}$$

• تیپ ۴ - ۳: تعیین علامت کار و گرما از روی نمودار

مسئله ۴۱

در چرخه یک گاز آرمانی نشان داده شده در شکل روبه‌رو، مسیر AB هم‌دما و مسیر BC بی‌دررو است. جدول زیر را با گذاشتن علامت مثبت، منفی و یا صفر پر کنید. (دستگاه، گاز آرمانی تک‌اتمی است.)

مسیر	Q	W	ΔU	ΔT
AB				
BC				
CD				
DA				



مسیر	Q	W	ΔU	ΔT
AB	-	+	۰	۰
BC	۰	+	+	+
CD	+	-	+	+
DA	-	۰	-	-

راه‌حل در سطر اول جدول، فرایند $A \rightarrow B$ ، فرایند هم‌دما است. پس داریم:

$$\Delta T = 0 \Rightarrow \Delta U = 0 \Rightarrow Q = -W$$

چون فرایند تراکمی است، پس کار در این فرایند مثبت است: $W > 0 \Rightarrow Q < 0$

در سطر دوم جدول، فرایند $B \rightarrow C$ ، فرایند بی‌دررو است. پس داریم: $Q = 0 \Rightarrow \Delta U = W$

چون فرایند $B \rightarrow C$ تراکمی است، پس کار طی این فرایند مثبت است: $W > 0 \Rightarrow \Delta U > 0$

چون انرژی درونی به دما بستگی دارد و تغییرات انرژی درونی مثبت است، پس: $\Delta T > 0$

در سطر سوم جدول، فرایند $C \rightarrow D$ ، فرایند هم‌فشار است و چون فرایند انبساطی است، پس کار انجام شده طی این فرایند منفی بوده است: $W < 0$

دمای $T_D > T_C$ است، زیرا در حالت D، حجم از حالت C بیشتر می‌باشد. بنابراین: $PV_D > PV_C \Rightarrow T_D > T_C \Rightarrow \Delta T > 0 \Rightarrow \Delta U > 0$

با توجه به قانون اول ترمودینامیک: $\Delta U = Q + W$ ، $W < 0$ ، $\Delta U > 0 \Rightarrow Q_{CD} > 0$

در سطر آخر جدول، فرایند $D \rightarrow A$ ، فرایند هم‌حجم است، پس داریم:

دمای $T_A < T_D$ است، زیرا در حالت A، فشار از حالت D کمتر است، بنابراین:

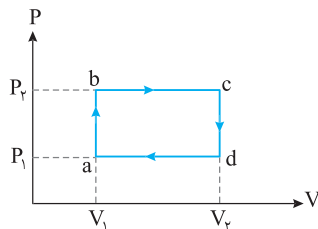
$P_A V_A < P_D V_D \Rightarrow T_D > T_A \Rightarrow \Delta T < 0 \Rightarrow \Delta U < 0$ بنا بر رابطه (۱) $Q < 0$

$$P_A V_A < P_D V_D \Rightarrow T_D > T_A \Rightarrow \Delta T < 0 \Rightarrow \Delta U < 0 \xrightarrow{\text{بنا بر رابطه (۱)}} Q < 0$$

• تیپ ۴ - ۴: نمودارهای P-T و V-T و چرخه

مسئله ۴۲

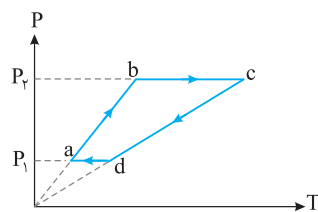
در شکل روبه‌رو چرخه مقداری گاز آرمانی رسم شده است. نمودار V-T و P-T این چرخه را رسم کنید.



راه‌حل فرایندهای ab و cd هم‌حجم هستند. اما حجم در فرایند cd بیشتر از حجم در فرایند ab است.

بنابراین در نمودار P-T، شیب فرایند cd از شیب فرایند ab کمتر است. $(P = \frac{nR}{V} T)$. همچنین

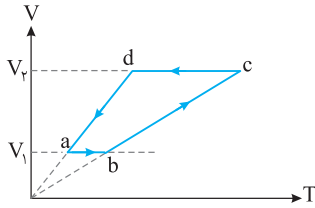
فشار فرایند bc بیشتر از فشار در فرایند da است. اکنون نمودارها را با توجه به آنچه بیان شد، رسم می‌کنیم:



نمودار P-T فرایندهای هم‌حجم ab و cd و خط‌های مایلی هستند که باید از مبدأ بگذرند. فرایند da

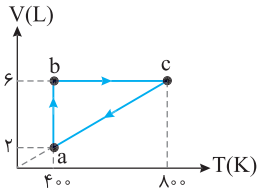
یک فرایند هم‌فشار در فشار P_1 بوده که با کاهش حجم، دما نیز کاهش می‌یابد و فرایند bc یک فرایند

هم‌فشار انبساطی است که دمای گاز افزایش می‌یابد. با این داده‌ها نمودار P-T رسم می‌شود.



در فرایند هم‌حجم ab ، فشار زیاد شده پس دما افزایش می‌یابد. سپس طی فرایند هم‌فشار از حالت b به حالت c می‌رود که نمودار $V-T$ آن خط مایلی است که از مبدأ می‌گذرد. سپس در فرایند cd در حجم ثابت فشار و در نتیجه دما کاهش می‌یابد و سرانجام از d تا a در یک فرایند هم‌فشار، حجم و دما کاهش می‌یابد که نمودار آن نیز خطی است که از مبدأ می‌گذرد و نمودار $V-T$ به این طریق رسم می‌شود. اگر نمودار $P-V$ یک چرخه، ساعتگرد باشد، نمودار $P-T$ آن نیز ساعتگرد بوده اما نمودار $V-T$ آن پادساعتگرد است.

مسئله ۴۳



نمودار $V-T$ برای نیم‌مول گاز آرمانی مطابق شکل روبه‌رو است. گرمای مبادله‌شده در مسیر bca را حساب کنید. ($R = 8 \text{ J/mol.K}$)

راه‌حل ۱ مراحل حل این تیپ مسئله:

۱ ابتدا نوع فرایندها را مشخص می‌کنیم.

فرایند ab هم‌دما:

$$\Delta U_{ab} = 0$$

فرایند ca هم‌فشار:

$$\Delta U_{ca} = Q_{ca} + W_{ca}$$

۲ نوشتن تغییر انرژی درونی در چرخه:

$$\Delta U_{abca} = \Delta U_{ab} + \Delta U_{bc} + \Delta U_{ca} = 0 \Rightarrow 0 + Q_{bc} + W_{bc} + Q_{ca} + W_{ca} = 0 \xrightarrow{W_{bc}=0} Q_{bc} + Q_{ca} = -W_{ca} \Rightarrow Q_{bca} = -W_{ca} \quad (I)$$

۳ برای به‌دست آوردن کار در فرایند هم‌فشار ca :

$$W_{ca} = -P\Delta V = -nR\Delta T \Rightarrow W_{ca} = -nR(T_a - T_c) \Rightarrow W_{ca} = -0.5 \times 8 \times (400 - 800) \Rightarrow W_{ca} = +1600 \text{ J}$$

$$Q_{bca} = -W_{ca} = -1600 \text{ J}$$

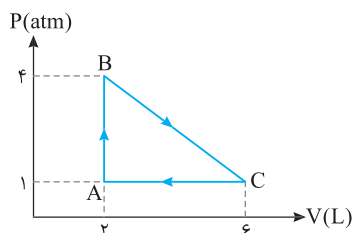
۴ اکنون جای گذاری در رابطه (I):

در این بخش نمونه سؤالاتی که احتمال طرح در امتحان نهایی دارن، برات آماده کردیم تا فوب تمرین کنی. شماره تیپ هر سؤال کنارش اومره که آگه نتونستی حل کنی بتونی از درسامه اون تیپ رو مطالعه کنی.

تمرین‌های بخش چهارم

۴۱۸- کلمه مناسب برای پر کردن جای خالی را انتخاب کنید.

- (الف) به مجموعه فرایندهایی که دستگاه پس از طی آن‌ها به حالت اولیه خود بازمی‌گردد، (چرخه / ماشین گرمایی) گویند.
 (ب) در یک چرخه ترمودینامیکی تغییر انرژی درونی (صفر / غیرصفر) و کار انجام شده روی گاز (صفر / غیرصفر) است.
 (پ) در نمودار اندازه کار انجام شده روی گاز طی یک چرخه برابر سطح (زیر نمودار / محصور) است.
 (ت) اگر نمودار $P-V$ یک چرخه ساعتگرد باشد کار انجام شده روی گاز (مثبت / منفی) بوده و گرمای مبادله شده بین گاز و محیط (مثبت / منفی) است.

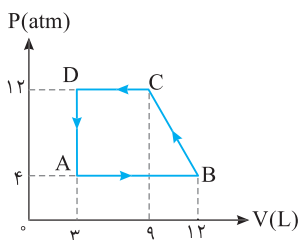


دی - ۹۹

۴۱۹- یک مول گاز آرمانی چرخه‌ای مطابق شکل روبه‌رو را می‌پیماید: (تیپ ۴-۱)

(الف) کار انجام شده در کل چرخه را محاسبه کنید.

(ب) کل گرمای مبادله شده چقدر است؟

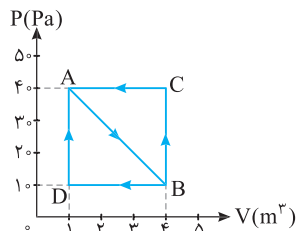


مسئله ۱۱، صفحه ۱۴۹ کتاب درسی

۴۲۰- یک گاز آرمانی، چرخه‌ای مطابق شکل روبه‌رو پیموده است. (تیپ ۴-۱)

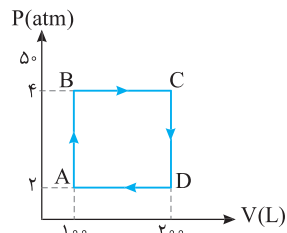
(الف) کار انجام شده روی محیط در این چرخه را حساب کنید.

(ب) گرمای مبادله شده با گاز در طی این چرخه را محاسبه کنید.



۴۲۱ گاز آرمانی مطابق نمودار روبه‌رو، طی فرایند AB منبسط می‌شود و حجم آن از 1 m^3 به 4 m^3 می‌رسد. پس از آن گاز طی دو فرایند مختلف به حالت اولیه باز می‌گردد. (تیپ ۱-۴) مثال ۵-۸، صفحه ۱۴۰ کتاب درسی

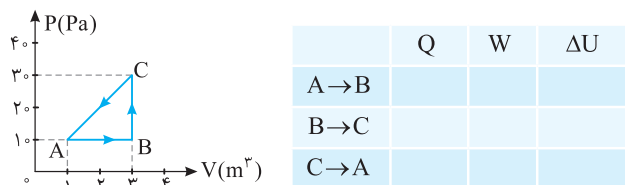
الف) کار انجام شده روی گاز در چرخه ABCA را حساب کنید.
ب) کار انجام شده روی گاز در چرخه ABDA را حساب کنید.



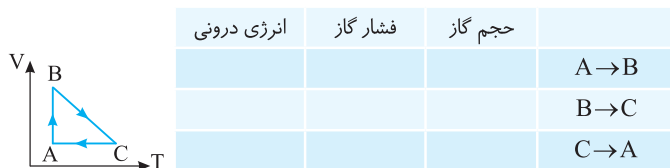
۴۲۲ یک گاز آرمانی چرخه نشان داده شده در شکل زیر را می‌بیناید. (تیپ ۱-۴ و ۳-۴) مسئله ۱۰، صفحه ۱۴۰ کتاب درسی

الف) فرایندهای گرماگیر و گرماده را مشخص کنید.
ب) تغییر انرژی درونی گاز در مسیر ABC چند برابر CDA است؟
پ) کار و گرمای مبادله شده در این چرخه را حساب کنید.

۴۲۳ الف) با توجه به نمودار روبه‌رو که چرخه یک گاز آرمانی را نشان داده، جدول را با کلمه‌های (مثبت / منفی / صفر) پر کنید. (تیپ ۳-۴) مسئله ۸، صفحه ۱۴۸ کتاب درسی

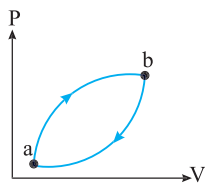
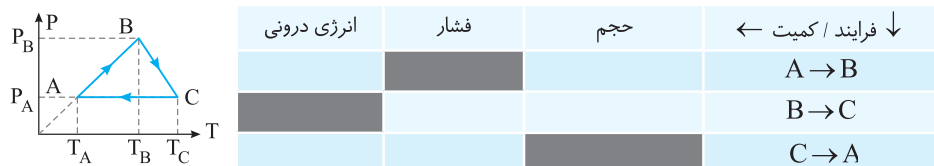


ب) با توجه به نمودار روبه‌رو که چرخه یک گاز آرمانی را نشان می‌دهد، جدول را با کلمه‌های (افزایش، کاهش، ثابت) پر کنید. (تیپ ۴-۴)

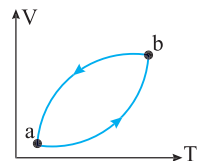


پ) با توجه به چرخه P-T در شکل زیر که مربوط به یک گاز کامل است، خانه‌های جدول زیر را با کلمات (افزایش - کاهش - ثابت) پر کنید. (تیپ ۴-۴)

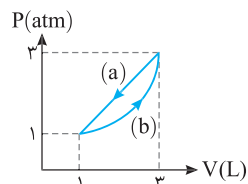
امتحان نهایی - ۸۵



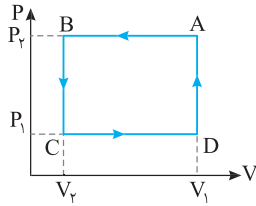
۴۲۴ الف) شکل روبه‌رو چرخه یک گاز آرمانی را نشان می‌دهد. اگر مقدار گرمای مبادله شده در این چرخه 400 J باشد، کار انجام شده روی گاز چقدر است؟ (تیپ ۱-۴) مسئله ۹، صفحه ۱۴۸ کتاب درسی



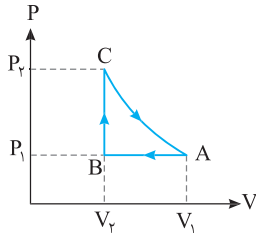
ب) نمودار V-T چرخه یک گاز آرمانی مطابق شکل روبه‌رو است. اگر اندازه گرمای مبادله شده در فرایندهای ab و ba به ترتیب 700 J و 900 J باشد، کار انجام شده روی محیط طی این چرخه چند ژول است؟ (تیپ ۴-۴)



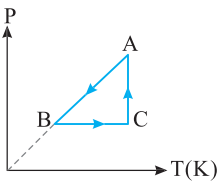
پ) گاز آرمانی چرخه‌ای مطابق شکل را طی می‌کند. اگر گاز در مسیر a، 960 J گرما از دست بدهد و در مسیر b، 800 J گرما بگیرد، کار انجام شده دستگاه در مسیر b چند ژول است؟ (تیپ ۱-۴) مسئله ۹، صفحه ۱۴۸ کتاب درسی



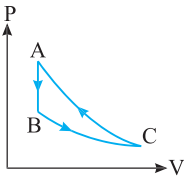
۴۲۵ الف) شکل روبه‌رو، چرخه‌ای را نشان می‌دهد که یک گاز آرمانی پیموده است. این چرخه را در دستگاه P-T رسم کنید. (تیپ ۴-۴ و ۲-۴)



ب) شکل روبه‌رو نمودار چرخه‌ای را نشان می‌دهد که یک گاز آرمانی پیموده است. نمودار این چرخه را در دستگاه V-T رسم کنید. (فرایند CA هم‌دما است.) (تیپ ۴-۴ و ۲-۴)



پ) نمودار P-T فرایندهای آرمانی که مقدار معینی گاز کامل طی می‌کند، مطابق شکل روبه‌رو است، نمودار P-V این چرخه را رسم کنید. (تیپ ۴-۴)



۴۲۶ یک گاز آرمانی تک‌اتمی شامل سه فرایند متوالی هم‌دما، بی‌دررو و هم‌حجم را طی می‌کند.

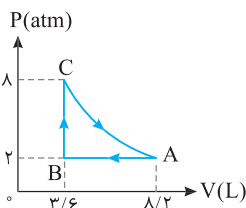
الف) کدام فرایند هم‌دما است؟ (تیپ ۴-۱)

ب) در کدام فرایند گاز با محیط گرمایی مبادله نمی‌کند؟

پ) اندازه کار انجام شده روی گاز طی فرایند بی‌دررو را با اندازه گرمای مبادله شده بین گاز و محیط در فرایند هم‌حجم با هم مقایسه کنید.

ت) اگر در فرایند هم‌دما، گاز ۲۱۰ J گرما بگیرد و در فرایند هم‌حجم به اندازه $\frac{5}{3}$ گرمای گرفته شده در فرایند هم‌دما، گرما مبادله شود، کار

مبادله شده در چرخه چند ژول است؟

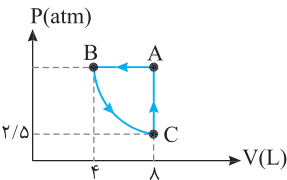


۴۲۷ نیم مول از یک گاز آرمانی چرخه شکل روبه‌رو را می‌پیماید. مسیر CA بی‌دررو است. ($R \sim 8J/mol.K$)

مسئله ۱۱، صفحه ۱۴۹ کتاب درسی

الف) دمای گاز را در نقطه‌های A، B و C محاسبه کنید. (تیپ ۴-۱)

ب) اگر مقدار کار در فرایند CA برابر ۱۸۶۰ J باشد، کل گرمای مبادله شده چند ژول خواهد بود؟



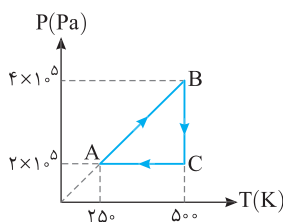
۴۲۸ نمودار یک مول گاز آرمانی مطابق شکل روبه‌رو است، اگر فرایند BC هم‌دما باشد،

مسئله ۱۱، صفحه ۱۴۹ کتاب درسی

الف) دمای گاز در نقطه C چند کلوین است؟ (تیپ ۴-۱)

ب) گرمای مبادله شده در مسیر CAB چند ژول است؟ ($R = 8J/mol.K$)

پ) انرژی درونی گاز در نقاط A، B و C را با هم مقایسه کنید.

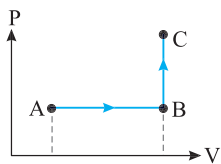


۴۲۹ شکل روبه‌رو، مربوط به چرخه P-T یک مول گاز آرمانی است. (تیپ ۴-۴)

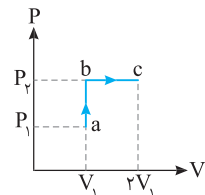
الف) حجم گاز در فرایند AB چند لیتر است؟

ب) اگر گرمای مبادله شده بین دستگاه و محیط در فرایند CA، ۵۰۰۰ J باشد، گرمای مبادله شده

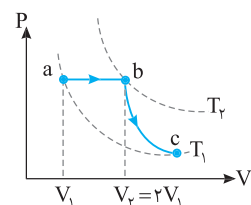
با محیط در فرایند AB چند ژول است؟ ($R \sim 8J/mol.K$)



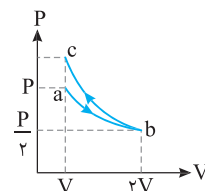
پ) فرایند AB هم‌فشار بوده و در فشار ثابت، حجم در حال افزایش است. فرایند BC هم‌حجم است و در حجم ثابت، دما در حال افزایش و در نتیجه فشار نیز در حال افزایش است. از این‌رو، نمودار P-V به شکل روبه‌راست است.



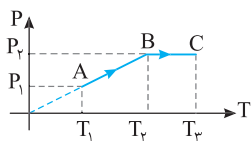
۴۱۶ الف) نمودار به صورت روبه‌روست.



ب) با توجه به اینکه دمای اولیه و نهایی با هم برابر است پس نقاط a و c باید روی یک نمودار هم‌دما قرار داشته باشند. در فرایند هم‌فشار حجم گاز زیاد شده. از این‌رو دما ابتدا افزایش و سپس در فرایند بی‌دررو فشار کاهش و حجم افزایش می‌یابد، ابتدا دما از T_1 به T_2 و سپس از T_2 به T_1 می‌رسد.



پ) با دو برابر شدن حجم گاز فشار گاز طی فرایند هم‌دما نصف می‌شود. بنابراین نمودار به صورت نمودار ab است. در فرایند بی‌دررو وقتی حجم گاز از $2V$ به V می‌رسد یعنی حجم نصف می‌شود، فشار گاز از دو برابر بیشتر افزایش می‌یابد. فرایند bc بی‌دررو است.



۴۱۷ الف) فرایند اول هم‌حجم است و دما و در نتیجه فشار افزایش یافته است و نمودار باید از مبدأ بگذرد. نقطه A نشان‌دهنده حالت اول گاز و نقطه B نشان‌دهنده حالت دوم گاز است. نمودار AB فرایند (الف) را نشان می‌دهد.

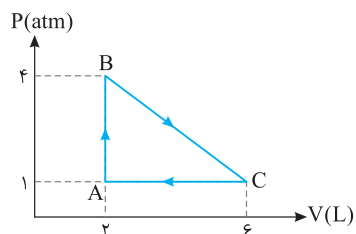
ب) فرایند دوم در فشار ثابت انجام شده و در آن دما و حجم افزایش یافته است. نقطه C حالت سوم گاز و نمودار BC فرایند (ب) را نشان می‌دهد.

۴۱۸ الف) چرخه (ب) غیر-صفر - پ) $P-V$ - محصور (منفی - مثبت

۴۱۹ الف) کار انجام شده در کل چرخه برابر سطح محصور در چرخه است و چون چرخه ساعتگرد است، کار محیط روی دستگاه منفی است:

$$|W| = S \Rightarrow |W| = \frac{(4-1) \times 10^5 \times (6-2) \times 10^{-3}}{2} = 6000 \text{ J} \Rightarrow W = -6000 \text{ J}$$

ب) در یک چرخه $W_t = -Q_t = 6000 \text{ J}$ بنابراین $Q_t = 6000 \text{ J}$ است.



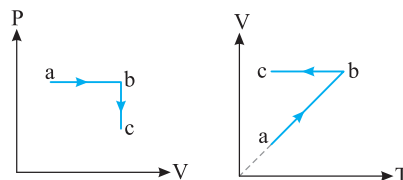
نمودار bc، یک نمودار مبدأ گذر است یعنی فرایند bc یک فرایند هم‌فشار است. بنابراین فرایند bc هم‌فشار می‌باشد و کار در فرایند هم‌فشار خواهد شد:

$$W_{bc} = -nR\Delta T = -1 \times 8 \times (-300) = 2400 \text{ J}$$

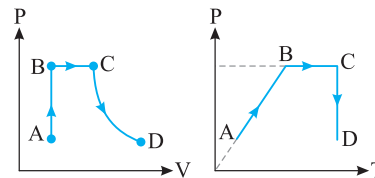
$$W_{\text{کل}} = W_{ab} + W_{bc} = 0 + 2400 = 2400 \text{ J}$$

با توجه به نمودار $T_a = T_c$ است و تغییر انرژی درونی در فرایند abc صفر است از این‌رو: $\Delta T = 0 \Rightarrow \Delta U = 0 \Rightarrow Q = -W = -2400 \text{ J}$

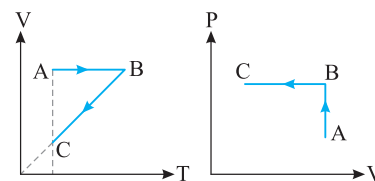
۴۱۴ الف) فرایند ab هم‌فشار است. بنابراین نمودار $V-T$ آن خط راست گذرنده از مبدأ است و فرایند bc هم‌حجم است و طی فرایند bc، فشار کاهش یافته در نتیجه دما نیز کاهش می‌یابد.



ب) فرایند AB هم‌حجم است بنابراین نمودار $P-T$ آن خط راست گذرنده از مبدأ است و در این فرایند فشار و دما افزایش می‌یابد. فرایند BC هم‌فشار و فرایند CD هم‌دما است: از این‌رو:



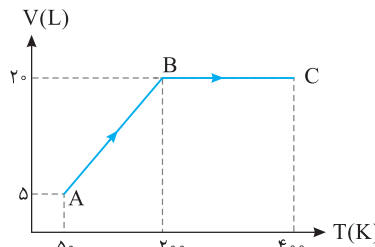
پ) فرایند BC خط راست گذرنده از مبدأ است بنابراین BC یک فرایند هم‌فشار است که طی آن حجم و دمای گاز کاهش می‌یابد. فرایند AB یک فرایند هم‌حجم است که طی آن دما افزایش می‌یابد بنابراین نمودار $P-V$ آن خواهد شد:



۴۱۵ به نمودار دقت کنید نمودار $V-T$ است.

الف) به کمک قانون گازها، فشار گاز در حالت A را به دست می‌آوریم.

$$PV = nRT \Rightarrow P_A = \frac{nRT_A}{V_A} \Rightarrow P_A = \frac{1 \times 8 \times 50}{5 \times 10^{-3}} \Rightarrow P_A = 8 \times 10^4 \text{ Pa}$$



ب) نمودار فرایند AB یک نمودار مبدأ گذر است بنابراین فرایند AB، فرایند هم‌فشار است و کار انجام شده در این فرایند برابر است با:

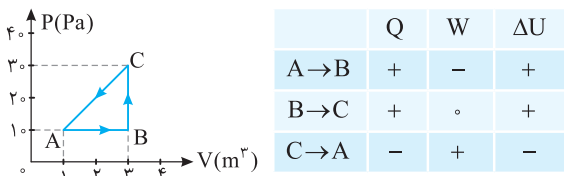
$$W_{AB} = -P\Delta V \Rightarrow W_{AB} = 8 \times 10^4 \times (200 - 50) \times 10^{-3} \Rightarrow W_{AB} = -12000 \text{ J}$$

فرایند $C \rightarrow A$: چون گاز متراکم شده است $\Delta V < 0$ و در نتیجه $W > 0$ است. از طرفی:

$$\frac{P_C V_C}{T_C} = \frac{P_A V_A}{T_A} \Rightarrow \frac{3 \times 3}{1 \times 1} = \frac{1 \times 1}{T_A} \Rightarrow T_A = \frac{1}{9} T_C$$

یعنی در این فرایند دمای گاز کاهش یافته است. بنابراین $\Delta U < 0$ است. با توجه به قانون اول ترمودینامیک، Q نیز باید منفی باشد.

مثبت منفی
 $\Delta U = W + Q \Rightarrow Q < 0$



(ب) در فرایند AB حجم گاز افزایش یافته و چون دما ثابت است، انرژی درونی ثابت می‌ماند. همچنین فشار گاز کاهش می‌یابد. ($\downarrow PV \uparrow = nRT$)

در فرایند BC ، مطابق نمودار حجم گاز کاهش می‌یابد. ($V_C < V_A$) اما دمای گاز افزایش می‌یابد. با توجه به معادله حالت گاز آرمانی خواهیم داشت:

$$PV = nRT \Rightarrow P = \frac{nRT}{V} \Rightarrow P \uparrow$$

دمای گاز افزایش یافته بنابراین انرژی درونی گاز افزایش می‌یابد.

فرایند CA هم حجم است و دما کاهش یافته است در این صورت فشار و انرژی درونی کاهش می‌یابد.

	حجم گاز	فشار گاز	انرژی درونی
A \rightarrow B	افزایش	کاهش	ثابت
B \rightarrow C	کاهش	افزایش	کاهش
C \rightarrow A	ثابت	کاهش	کاهش

(پ) فرایند AB : نمودار $P-T$ مبدأ گذر و بنابراین هم حجم است و چون دما در حال افزایش بوده و انرژی درونی تنها تابع دماست پس انرژی درونی در حال افزایش است:

	حجم	فشار	انرژی درونی
A \rightarrow B	ثابت	کاهش	افزایش

فرایند BC : برای بررسی فرایند BC مطابق شکل تعدادی نمودار $P-T$ هم حجم رسم می‌کنیم. از حالت B تا حالت C شیب این نمودارها در حال کاهش است. با توجه به اینکه شیب خطهای مبدأ گذر $P-T$ با حجم رابطه عکس دارند پس حجم در حال افزایش است.

	حجم	فشار	انرژی درونی
B \rightarrow C	افزایش	کاهش	

فرایند CA : فرایند هم فشار است. دما در حال کاهش بوده و انرژی درونی کاهش می‌یابد:

	حجم	فشار	انرژی درونی
C \rightarrow A		ثابت	کاهش

۴۲۰ الف) اندازه کار انجام شده روی گاز در یک چرخه برابر مساحت درون چرخه است. چون چرخه پادساعتگرد است، کار انجام شده روی گاز مثبت است. بنابراین:

$$|W| = S \Rightarrow W = \frac{1}{2} (DC + AB) \times AD$$

$$\Rightarrow W = \frac{1}{2} (6+9) \times 1 \times 1 \times 10^{-3} \Rightarrow W = 6000 \text{ J}$$

کار انجام شده روی محیط: $W' = -W = -6000 \text{ J}$

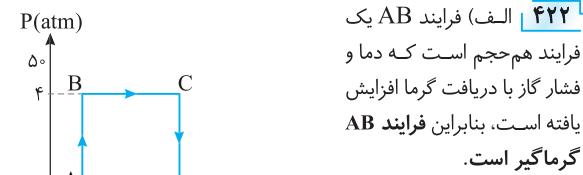
(ب) تغییر انرژی درونی در یک چرخه برابر صفر است. بنابراین با توجه به قانون اول ترمودینامیک داریم: $\Delta U = W + Q \Rightarrow 0 = 6000 + Q \Rightarrow Q = -6000 \text{ J}$. بنابراین گاز در این چرخه 6000 J گرما از دست داده است.

۴۲۱ اندازه کار خالص انجام شده برابر مساحت درون چرخه در نمودار $P-V$ است.

الف) در چرخه $ABCA$ که یک چرخه پادساعتگرد است، کار محیط روی گاز مثبت است. $|W_{ABCA}| = \left(\frac{4-1}{2}\right) \times (4-1) \Rightarrow W_{ABCA} = 4.5 \text{ J}$

(ب) در چرخه $ABDA$ که ساعتگرد است، کار محیط روی گاز منفی است.

$$|W_{ABDA}| = \left(\frac{4-1}{2}\right) \times (4-1) = 4.5 \text{ J} \Rightarrow W_{ABDA} = -4.5 \text{ J}$$



۴۲۲ الف) فرایند AB یک فرایند هم حجم است که دما و فشار گاز با دریافت گرما افزایش یافته است. بنابراین فرایند AB گرماگیر است. فرایند BC یک فرایند انبساطی هم فشار است که طی آن حجم گاز با دریافت گرما افزایش یافته است بنابراین: فرایند BC گرماگیر است. در فرایند هم حجم CD ، گاز گرما از دست داده و فشار و دمای آن کاهش می‌یابد بنابراین فرایند CD گرماده است.

در فرایند هم فشار DA ، گاز گرما از دست داده و حجم و دمای آن کاهش می‌یابد. بنابراین فرایند DA گرماده است. (ب) چرخه را به صورت زیر می‌توان نوشت:

$$\Delta U_{ABCD} = \Delta U_{ABC} + \Delta U_{CDA}$$

$$\Rightarrow 0 = \Delta U_{ABC} + \Delta U_{CDA} \Rightarrow \frac{\Delta U_{ABC}}{\Delta U_{CDA}} = -1$$

(پ) اندازه کار برابر سطح داخل چرخه است.

$$|W| = S \Rightarrow |W| = (4-2) \times 10^5 \times (200-100) \times 10^{-3} \Rightarrow |W| = 40000 \text{ J}$$

چرخه ساعتگرد بوده و کار محیط روی دستگاه منفی است از این رو:

$$W = -40000 \text{ J} \Rightarrow Q = -W \Rightarrow Q = 40000 \text{ J}$$

۴۲۳ الف) با استفاده از قانون اول ترمودینامیک $\Delta U = Q + W$ داریم:

فرایند $A \rightarrow B$: در این فرایند هم فشار گاز منبسط شده است $\Delta V > 0$ و در نتیجه $W < 0$ است. با توجه به اعداد روی نمودار از طرفی $P_B V_B > P_A V_A$ بوده و $T_B > T_A$ است. بنابراین $\Delta U > 0$ است. با توجه به قانون اول ترمودینامیک باید $Q > 0$ باشد. $\Delta U = Q + W \xrightarrow{\Delta U > 0, W < 0} Q > 0$

فرایند $B \rightarrow C$: این فرایند هم حجم است بنابراین $W_{BC} = 0$ است از طرفی فشار گاز افزایش یافته بنابراین گاز گرما دریافت کرده و $Q > 0$ است در نتیجه $\Delta U = Q > 0$ نیز مثبت است.